
1 Vozači vozila koja se kreću prelazom puta preko željezničke pruge u istom nivou kad svjetla na prelazu nisu upaljena dužni su to činiti:

- 1 sa naročitom oprežnošću;
 - 2 sa upaljenim dugim svjetlima;
 - 3 uz upotrebu zvučnog znaka upozorenja.
-

2 Učesnik u saobraćajnoj nezgodi u kojoj je nastala veća materijalna šteta dužan je da:

- 1 bez zaustavljanja nastavi kretanje vozilom sa naročitom oprežnošću;
 - 2 obavijesti najbližu policijsku stanicu o saobraćajnoj nezgodi;
 - 3 sačeka dolazak službenog lica koje obavlja uviđaj;
-

3 Vozač koji se zatekne ili naiđe na mjesto saobraćajne nezgode dužan je da na zahtjev ovlaštenog lica:

- 1 preveze lice povrijeđeno u saobraćajnoj nezgodi do najbliže zdravstvene ustanove;
 - 2 preveze lice povrijeđeno u saobraćajnoj nezgodi prema želji povrijeđenog.
-

4 Vozač koji je mlađi od 21 godine starosti ili koji ima manje od tri godine vozačkog iskustva smatraće se da je pod djelovanjem alkohola ako mu količina alkohola u krvi iznosi:

- 1 0,5 g/kg;
 - 2 0,3 g/kg;
 - 3 0,0 g/kg.
-

5 Za vrijeme upravljanja vozilom koje je označeno „probnim“ tablicama vozač mora imati kod sebe:

- 1 važeću potvrdu uz probne tablice, koju je dužan pokazati na zahtjev ovlaštenog lica;
 - 2 dokaz o uplati propisanih naknada za probne registarske tablice.
-

6 Tehnički pregled motornih i priključnih vozila obavlja se:

- 1 radi provjere da li motorno ili priključno vozilo ima propisane uređaje i opremu i da li je u ispravnom stanju;
 - 2 radi utvrđivanja vlasništva vozila.
-
-

7 Vlasnik vozila, ako ne produži registraciju vozila u roku od 30 dana od dana isticanja važenja potvrde o registraciji, dužan je da vrati registarske tablice nadležnom organu:

- 1 u roku od 10 dana;
 - 2 u roku od 8 dana;
 - 3 u roku 48 h.
-
-

8 Lice koje se zatekne ili naiđe na mjesto saobraćajne nezgode u kojoj ima povrijeđenih:

- 1 dužno je da ukaže pomoć licima povrijeđenim u saobraćajnoj nezgodi;
 - 2 ne smije pružati pomoć povrijeđenima do dolaska zdravstvenih radnika.
-
-

9 Manja materijalna šteta je:

- 1 šteta koja je nastala u saobraćajnoj nezgodi na vozilima u kojoj su se vozači dogovorili o izmirenju međusobnih obaveza, bez obzira na visinu štete;
 - 2 šteta u saobraćajnoj nezgodi nastala na vozilu na kojem nisu oštećeni vitalni dijelovi i sklopovi i koje može samostalno da se kreće na putu.
-
-

10 Saobraćajna traka za prinudno zaustavljanje vozila je:

- 1 obilježeni uzdužni dio kolovoza na autoputevima i na određenim mjestima na putevima višeg ranga, kao i u tunelima i galerijama, namijenjena za prinudno zaustavljanje vozila;
 - 2 uzdužni dio kolovoza namijenjen za vozila koja sporom vožnjom smanjuju odvijanje saobraćaja;
 - 3 dio kolovoza namijenjen za isključivanje vozila iz saobraćaja na putu.
-

11 Saobraćajna traka za ubravanje je:

- 1 dio kolovoza namijenjen za vozila javnog gradskog prevoza;
 - 2 dio kolovoza namijenjen za uključivanje vozila u saobraćaj sa sporednog puta, odnosno drugih prilaznih puteva sa objekata pored puteva;
 - 3 dio kolovoza čija je širina dovoljna za nesmetan saobraćaj dva reda vozila.
-

12 Sva motorna vozila starosti dvije i više godina, radi učestvovanja u saobraćaju na javnom putu, podliježu obavezi redovnog tehničkog pregleda:

- 1 svaka 24 mjeseca;
 - 2 svakih 18 mjeseci;
 - 3 svakih 12 mjeseci.
-

13 Smanjena vidljivost postoji kada:

- 1 zbog nepovoljnih atmosferskih ili drugih prilika vozač ne može jasno da uoči druge učesnike u saobraćaju na udaljenosti od najmanje 200 m na putu izvan naselja, odnosno od najmanje 100 m u naselju;
 - 2 zbog nepovoljnih atmosferskih ili drugih prilika vozač ne može jasno da uoči druge učesnike u saobraćaju na udaljenosti od najmanje 300 m na putu izvan naselja, odnosno od najmanje 200 m u naselju;
 - 3 zbog nepovoljnih atmosferskih ili drugih prilika vozač ne može jasno da uoči druge učesnike u saobraćaju na udaljenosti od najmanje 250 m na putu izvan naselja, odnosno od najmanje 150 m u naselju;
-

14 U vozačku dozvolu upisuju se:

- 1 sve kategorije i potkategorije vozila kojima vozač ima pravo da upravlja;
 - 2 samo one kategorije za koje je vozač položio vozački ispit;
 - 3 sve kategorije vozila kojima vozač ima pravo da upravlja, a potkategorije samo ako to vozač naznači u zahtjevu za izdavanje vozačke dozvole.
-

15 Na autoputu vozač ne smije da upravlja vozilom koje se kreće:

- 1 brzinom većom od 120 km/h;
 - 2 brzinom većom od 130 km/h;
 - 3 brzinom većom od brzine određene postavljenim saobraćajnim znakom.
-

16 Mijenjanje saobraćajne trake je:

- 1 prolaženje vozilom pored drugog vozila koje se kreće u istoj saobraćajnoj traci i u istom smjeru;
 - 2 prolaženje vozilom pored zaustavljenog vozila koje se nalazi u saobraćajnoj traci kojom se vozilo kreće;
 - 3 prelaženje vozilom iz jedne u drugu saobraćajnu traku za saobraćaj u istom smjeru radi prestrojavanja ili dozvoljenog bržeg kretanja.
-

17 Na putu u naselju vozač smije da upravlja vozilom brzinom:

- 1 koja ne prelazi 50 km/h;
 - 2 koja ne prelazi 40 km/h;
 - 3 koja prelazi 50 km/h, ako je to saobraćajnim znakom dozvoljeno.
-

18 Brzi put je javni put koji:

- 1 je namijenjen za saobraćaj isključivo motornih vozila sa jednom ili dvije razdvojene kolovozne trake;
 - 2 povezuje veće gradove i važnija privredna područja Bosne i Hercegovine;
 - 3 ima sve raskrsnice u dva ili više nivoa sa poprečnim putevima i drugim saobraćajnicama (željezničkim prugama ili tramvajskim prugama);
 - 4 povezuje važnija privredna područja Bosne i Hercegovine.
-

19 Na raskrsnici i na drugom mjestu na kojem je saobraćaj regulisan uređajima za davanje svjetlosnih saobraćajnih znakova, „zeleno trepćuće svjetlo" upozorava učesnike u saobraćaju na:

- 1 obavezno zaustavljanje pješaka i vozila;
 - 2 skoriju pojavu zelenog svjetla;
 - 3 skori prestanak slobodnog prolaza;
 - 4 skoriju pojavu žutog, odnosno crvenog svjetla.
-

20 Kad upravlja motornim i priključnim vozilom vozač mora da ima kod sebe:

- 1 važeću potvrdu o registraciji izdatu za to vozilo;
 - 2 račun ili ugovor o kupovini tog vozila;
 - 3 polisu obaveznog osiguranja tog vozila;
 - 4 potvrdu o izvršenom tehničkom pregledu tog vozila.
-

21 Kako treba postupiti nailaskom na ovaj saobraćajni znak ?

- 1 obavezno zaustaviti vozilo;
- 2 nastaviti kretanje vozilom sa naročitom oprežnošću;
- 3 smanjiti brzinu kretanja vozila tako da se u slučaju potrebe može blagovremeno izvršiti radnja kočenja i zaustavljanja;
- 4 nastaviti kretanje vozilom bez smanjenja brzine kretanja.

**22 Koje značenje ima ovaj saobraćajni znak?**

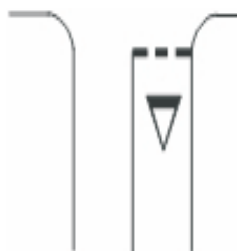
- 1 dozvoljeni smjer;
- 2 put sa jednosmjernim saobraćajem;
- 3 obavezno obilaženje sa desne strane.

**23 Kako treba postupiti nailaskom na ovaj saobraćajni znak?**

- 1 obavezno smanjiti brzinu kretanja vozila ispod 30 km/h;
- 2 nastaviti kretanje vozilom sa naročitom oprežnošću u dužini od 30 km;
- 3 nastaviti kretanje vozilom pri čemu je najmanja dopuštena brzina kretanja vozila 30 km/h.

**24 Kako treba postupiti nailaskom na ove oznake na kolovozu?**

- 1 obavezno izvršiti radnju skretanja udesno;
- 2 zaustaviti se po potrebi i propustiti pješake na obilježenom pješačkom prelazu;
- 3 zaustaviti se po potrebi i propustiti vozila koja se kreću na putu sa prvenstvom prolaza.


**25 Kako treba postupiti nailaskom na ovaj saobraćajni znak?**

- 1 obavezno zaustaviti vozilo;
- 2 nastaviti kretanje vozilom sa naročitom oprežnošću;
- 3 prilagoditi brzinu kretanja vozila tako da se, u slučaju potrebe, može blagovremeno zaustaviti vozilo.




26 Koje značenje ima ovaj saobraćajni znak?

- 1 prestanak ograničenja brzine od 80 km/h;
- 2 dio puta gdje prestaje preporučena brzina od 80 km/h;
- 3 dio puta gdje je preporučena brzina 80 km/h.




27 Koje značenje ima ovaj saobraćajni znak?

- 1 mjesto gdje prestaju sve zabrane;
- 2 put ili dio puta na kojem vozila imaju prednost prolaza prema vozilima koja se kreću putevima koji se ukrštaju, odnosno spajaju sa tim putem ili dijelom puta;
- 3 prelazak puta preko željezničke pruge.



28 Koje značenje ima ovaj saobraćajni znak?

- 1 dozvoljeni smjer;
- 2 prvenstvo prolaza u odnosu na vozila koja dolaze iz suprotnog smjera;
- 3 put sa jednosmjernim saobraćajem.



29 Tačan naziv saobraćajnog znaka je?

- 1 prestanak najmanje dopuštene brzine;
- 2 prestanak preporučene brzine.
- 3 prestanak ograničenja brzine.



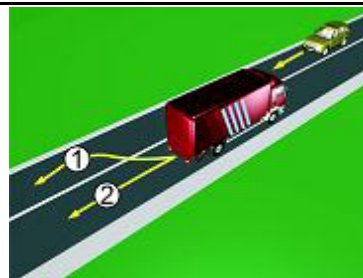
30 Kako treba postupiti nailaskom na ove oznake na kolovozu?

- 1 odustati od eventualne namjere zaustavljanja i parkiranja;
- 2 po potrebi se zaustaviti, ali ne i parkirati;
- 3 obavezno se zaustaviti.



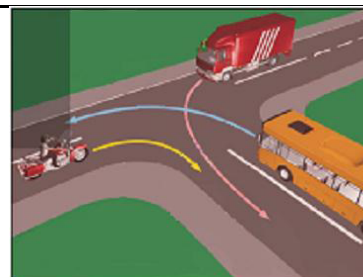
31 U saobraćajnoj situaciji kao na slici, vozač kamiona prilikom vršenja radnje kretanja vozilom unazad mora da se kreće:

- 1 linijama broj 1 i broj 2;
- 2 linijom broj 2;
- 3 linijom broj 1.



32 Koji je redoslijed prolaska vozila na raskrsnici u situaciji kao na slici?

- 1 autobus, kamion, motocikl;
- 2 motocikl, autobus, kamion;
- 3 motocikl i kamion istovremeno, pa autobus;
- 4 motocikl, kamion, autobus.



33 Koji je redoslijed prolaska vozila na raskrsnici u situaciji kao na slici?

- 1 tramvaj, motocikl, putnički automobil;
- 2 tramvaj, a zatim istovremeno putnički automobil i motocikl;
- 3 motocikl, putnički automobil, tramvaj;
- 4 motocikl, tramvaj, putnički automobil.



34 Koje vozilo će u saobraćajnoj situaciji kao na slici posljednje proći kroz raskrsnicu?

- 1 motocikl;
- 2 policijsko vozilo koje drugom policijskom vozilu dolazi sa desne strane;
- 3 policijsko vozilo koje se nalazi na putu sa prvenstvom prolaza



35 Kako ćete postupiti u situaciji kao na slici ako kretanje vozilom nastavljate pravo, na raskrsnici puteva iste važnosti na kojoj uređaji za davanje svjetlosnih saobraćajnih znakova nisu u funkciji?

- 1 pažljivo proći vozilom kroz raskrsnicu;
- 2 propustiti vozila koja dolaze i sa lijeve i sa desne strane;
- 3 propustiti vozila koja dolaze sa desne strane;
- 4 propustiti vozila iz suprotnog smjera koja namjeravaju skrenuti ulijevo.



36 Kako treba postupiti u situaciji kao na slici?

- 1 obavezno se zaustaviti pa nastaviti kretanje vozilom ulijevo ili udesno;
- 2 nastaviti kretanje vozilom nakon propuštanja vozila koja dolaze samo sa desne strane;
- 3 nastaviti kretanje vozilom ulijevo ili udesno nakon propuštanja svih vozila koja se kreću putem na koji se uključujem

**37 Kako postupiti u situaciji kao na slici ako vozilom prolazite pored dva postavljena saobraćajna znaka?**

- 1 prilagoditi brzinu kretanja vozila tako da ona ne prelazi 50 km/h;
- 2 obratiti pažnju na pješake, jer saobraćajni znak ukazuje na blizinu pješačkog prelaza;
- 3 nastaviti kretanje vozilom uz prethodno propuštanje pješaka.

**38 Kojoj vrsti saobraćajnih znakova pripada postavljeni saobraćajni znak na slici?**

- 1 znakovima opasnosti;
- 2 znakovima obavještenja;
- 3 znakovima izričitih naredbi.

**39 U situaciji kao na slici učesnici u saobraćaju proći će kroz raskrnicu sljedećim redoslijedom:**

- 1 oba bicikla, crveni automobil, zeleni automobil;
- 2 zeleni automobil, crveni automobil, pa bicikli;
- 3 oba bicikla, zeleni automobil, crveni automobil.

**40 U saobraćajnoj situaciji kao na slici vozač vozila koje se nalazi u srednjoj saobraćajnoj traci:**

- 1 mora nastaviti kretanje vozilom pravo, jer nije pravovremeno izvršio radnju preostrojavanja;
- 2 ne smije izvršiti radnju skretanja ulijevo, jer čini prekršaj;
- 3 sačekaće sva vozila da skrenu ulijevo, a potom izvršiti radnju skretanja ulijevo.

