

---

**1 Vozač je:**

- 1 svako lice koje se u saobraćaju na putu nalazi u vozilu;  
 2 lice koje na putu upravlja vozilom.

A,B,C,D,T

---

**2 Da li vozač motocikla mora nositi zakopčanu zaštitnu kacigu za vrijeme vožnje?**

- 1 ne, dužan je nositi samo zaštitne naočale;  
 2 da;  
 3 ne.

A

---

**3 Kako se naziva uzdužni dio kolovoza namijenjen za saobraćaj vozila u jednom smjeru sa jednom ili više saobraćajnih traka?**

- 1 kolovozna traka;  
 2 kolovoz;  
 3 saobraćajna traka.

A,B,C,D,T

---

**4 Preglednost podrazumijeva:**

- 1 prostor koji učesnik u drumskom saobraćaju može da vidi sa mjesta na kojem se nalazi;  
 2 mjesto na raskrsnici sa kojeg vozač vidi ulijevo-udesno najmanje 25 m;  
 3 mjesto na raskrsnici sa kojeg vozač vidi ulijevo najmanje 25 m.

A,B,C,D,T

---

**5 Stiker-naljepnica je:**

- 1 dokaz o izvršenom tehničkom pregledu;  
 2 dokaz o plaćenju putarini;  
 3 dokaz o registrovanju vozila.

A,B,C,D,T

---

**6** Koliko važi registracija mopeda?

- nije vremenski ograničena;
- 2 jednu godinu;
- 3 dvije godine.

A

---

**7** Projektovanjem i gradnjom novih javnih puteva, osim lokalnih, mora da se obezbijedi da podnesu osovinsko opterećenje od:

- 1 najmanje 10 t po osovini;
- 2 najmanje 11,5 t po osovini;
- 3 najmanje 11 t po osovini.

B,C,D

---

**8** Iznad kolovoza javnog puta mora da postoji slobodan prostor u visini od najmanje:

- 4,5 m od najviše tačke kolovoza;
- 2 4 m od najviše tačke kolovoza;
- 3 6 m od najviše tačke kolovoza.

A,B,C,D

---

**9** Šta utiče na produženje puta kočenja? (više tačnih odgovora)

- mokar i blatnjav kolovoz;
- 2 suv kolovoz;
- 3 opterećenje vozila.

A,B,C,D,T

---

---

**10** Koja je najveća dozvoljena brzina kretanja za traktore koji vuku priključno vozilo?

- 1 40 km/h;  
 2 30 km/h;  
 3 40 km/h.

B,C,T

---

**11** Novoproducedena motorna i priključna vozila, nakon obavezne identifikacije vozila prije prve registracije, vlasnici su dužni podvrgnuti redovnom tehničkom pregledu?

- 1 u toku mjeseca u kojem ističe rok od 24 mjeseca od dana prve registracije vozila, te u toku mjeseca u kojem ističe rok od 36 mjeseci od dana prve registracije vozila;  
 2 u toku mjeseca u kojem ističe rok od 12 mjeseca od dana prve registracije vozila, te u toku mjeseca u kojem ističe rok od 36 mjeseci od dana prve registracije vozila;  
 3 u toku mjeseca u kojem ističe rok od 24 mjeseca od dana prve registracije vozila, te u toku mjeseca u kojem ističe rok od 48 mjeseci od dana prve registracije vozila.

A,B,C,D,T

---

**12** Kako djeca najčešće reaguju u saobraćaju?

- 1 razumno i staloženo;  
 2 u skladu sa propisima;  
 3 spontano i nepredvidivo.

A,B,C,D,T

---

**13** Kako svojim ponašanjem u saobraćaju, za vrijeme upravljanja vozilom, možete doprinijeti smanjenju saobraćajnog rizika? (više tačnih odgovora)

- 1 agresivnom vožnjom;  
 2 poštovanjem saobraćajnih pravila i propisa;  
 3 defanzivnom vožnjom;  
 4 nervoznom vožnjom.

A,B,C,D,T

---

---

**14** Pomoću užeta ne smije da se vuče: (više tačnih odgovora)

- 1 motorno vozilo na kojem su neispravni uređaji za osvjjetljenje;
- 2 motorno vozilo na kojem su neispravni uređaji za davanje znakova;
- 3 motorno vozilo na kojem su neispravni uređaji za zaustavljanje;
- 4 motorno vozilo na kojem su neispravni uređaji za upravljanje.
- 5 teretno motorno vozilo i autobus.

B,C,D,T

---

**15** Ljekarsko uvjerenje o zdravstvenoj sposobnosti za upravljanje motornim vozilom važi?

- 1 12 mjeseci od dana izdavanja;
- 2 6 mjeseci od dana izdavanja.

A,B,C,D,T

---

**16** Krutom vezom ne smije da se vuče motorno vozilo:

- 1 koje ima ispravan uređaj za upravljanje;
- 2 teže od vučnog vozila-ako mu je neispravna pomoćna kočnica.

B,C,T

---

**17** Zaustavljanje vozila je:

- 1 svaki prekid kretanja vozila na putu u trajanju do 15 minuta, osim prekida koji se pravi da bi se postupilo po znaku ili pravilu kojim se reguliše saobraćaj;
- 2 svaki prekid kretanja vozila na putu u trajanju do 5 minuta, osim prekida koji se pravi da bi se postupilo po znaku ili pravilu kojim se reguliše saobraćaj.

A,B,C,D,T

---

**18** Pješak je:

- 1 lice koje učestvuje u saobraćaju, a ne upravlja vozilom, niti se prevozi u vozilu ili na vozilu;
- 2 lice koje upravlja vozilom, ili se prevozi u vozilu ili na vozilu.

A,B,C,D,T

---

---

**19** Koliko kolovoznih traka ima put sa jednosmjernim saobraćajem?

- 1 dvije kolovozne trake;  
 jednu kolovoznu traku;  
 3 više od dvije kolovozne trake.

A,B,C,D,T

---

**20** Kratko svjetlo na biciklu ili mopedu mora biti izvedeno i podešeno tako da osvijetljeni dio ravnog puta:

- 1 nije duži od 35 m ni kraći od 10 m;  
 nije duži od 50 m ni kraći od 10 m.

A

---

**21** Prelaz alkohola u krv (resorpcija alkohola) završi se?

- najkasnije nakon jednog sata od konzumiranja;  
 2 najkasnije nakon 24 sata od konzumiranja.

A,B,C,D,T

---

**22** Smanjena vidljivost postoji kada, zbog nepovoljnih atmosferskih ili drugih prilika, vozač ne može jasno da uoči druge učesnike u saobraćaju:

- 1 od najmanje 100 m izvan naselja, odnosno najmanje 50 m u naselju;  
 od najmanje 200 m na putu izvan naselja, odnosno od najmanje 100 m u naselju.

A,B,C,D,T

---

**23** Autoputem ne smiju da se kreću motorna vozila koja prema svojim konstrukcionim osobinama ne mogu da se kreću brzinom većom?

- od 40 km/h;  
 2 od 60 km/h.

A,B,C,D,T

---

---

**24****Maksimalni poprečni nagib kolovoza za autoput u tunelu iznosi:**

- 1 7 %;  
 2 4 %.

A,B,C,D

---

**25****Da li je vozaču zabranjeno da pretiče vozilo koje se približava obilježenom pješačkom prelazu, ili koje prelazi pješački prelaz, ili koje je stalo radi propuštanja pješaka na tom prelazu?**

- 1 ne, ako postoje dvije saobraćajne trake u jednom smjeru;  
 2 ne, ako ga pješaci propuštaju;  
 3 zabranjeno je.

A,B,C,D

---

**26****Da li se vozilo koje se kreće po šinama postavljenim na sredini kolovoza smije preticati s lijeve strane?**

- 1 ne;  
 2 da.

A,B,C,D

---

**27****Šta se podrazumijeva pod pojmom „posebni objekat na putu“?**

- 1 oprema na putu postavljena radi smanjenja brzine kretanja vozila na mjestima gdje je posebno ugrožena bezbjednost učesnika u saobraćaju;  
 2 zaštitne ograde i naplatne rampe.

A,B,C,D,T

---

**28****Šta se podrazumijeva pod pojmom „vozilo“?**

- 1 svako prevozno sredstvo namijenjeno za kretanje po putu, osim pokretnih stolica bez motora za nemoćna lica i dječijih prevoznih sredstava;  
 2 svako motorno vozilo koje je namijenjeno za prevoz lica.

A,B,C,D,T

**29****Učesnici u saobraćaju dužni su da postupaju:**

- |                                     |  |
|-------------------------------------|--|
| 1                                   | u skladu sa svjetlosnim saobraćajnim znakom, pod uslovom da se značenje tog znaka ne razlikuje od značenja ostalih saobraćajnih znakova ili saobraćajnih pravila;  |
| 2                                   | u skladu sa saobraćajnom signalizacijom, pod uslovom da se time ne odstupa od pravila saobraćaja;  |
| <input checked="" type="checkbox"/> | prema znacima ili naredbama koje daju ovlašćena lica i kad se time odstupa od svjetlosnog saobraćajnog znaka ili drugog saobraćajnog znaka ili pravila saobraćaja. |

A,B,C,D,T

**30****Dio površine puta namijenjen prvenstveno za saobraćaj vozila, naziva se:**

- |                                     |                    |
|-------------------------------------|--------------------|
| 1                                   | kolovozna traka;   |
| <input checked="" type="checkbox"/> | kolovoz;           |
| 3                                   | saobraćajna traka. |

A,B,C,D,T

**31****Za vrijeme upravljanja motornim vozilom danju na vozilu moraju da budu upaljena:**

- |                                     |                           |
|-------------------------------------|---------------------------|
| <input checked="" type="checkbox"/> | kratka ili dnevna svjela; |
| 2                                   | duga svjetla;             |
| 3                                   | posebna svjetla za maglu. |

B,C,D

**32****Na raskrsnici i na drugom mjestu na kojem je saobraćaj regulisan uređajima za davanje svjetlosnih saobraćajnih znakova, za učesnike u saobraćaju, upaljeno „žuto svjetlo“ ima sljedeće značenje:**

- |                                     |   |
|-------------------------------------|---|
| 1                                   | obavezu za sve učesnike u saobraćaju da se kreću naročitom oprežnošću;  |
| 2                                   | zabranu prolaza za sva vozila;  |
| <input checked="" type="checkbox"/> | zabranu prolaza, osim za vozila koja se u času kad se žuto svjetlo pojavi nalaze na tolikom rastojanju od svjetlosnog znaka da se ne mogu bezbjedno zaustaviti, a da ne prođu taj znak, a za ostale učesnike zabrana prolaza. |

A,B,C,D,T

---

**33** Izdata vam je vozačka dozvola za B kategoriju.  
Kojim vozilima imate pravo upravljati? (više tačnih odgovora)

- traktorom;
- lakim četvorociklom;
- vozilom koje, osim sjedišta za vozača, ima više od osam sjedišta.

A,B

---

**34** Da li se na autoput smije uključiti motorno vozilo koje vuče drugo motorno vozilo koje zbog neispravnosti ne može da se kreće?

- nije regulisano propisom;
- ne;
- da.

A,B,C,D,T

---

**35** Kojim postupcima vozač ugrožava bezbjednost saobraćaja? (više tačnih odgovora)

- ako vozilom upravlja premoren;
- ako vozilom upravlja pod uticajem alkohola i opojnih sredstava;
- ako se vozilom kreće uz desnu ivicu kolovoza.

A,B,C,D,T

---

**36** Kolika je najveća dozvoljena širina vozila sa stalnim ili izmjenjivim klimatizovanim nadgradnjama koje su namijenjene i opremljene za prevoz roba u temperiranom okruženju čiji su bočni zidovi uključujući i toplotnu izolaciju minimalne debljine 45 mm?

- 2,55 m;
- 2,60 m;
- 2,50 m.

C



---

**37** Kolika su najveća dozvoljena osovinska opterećenja za pojedinačne osovine (pogonske)?

- 1 10 t;  
 2 11,5 t;  
 3 11 t.

C,D

---

**38** Upravljate radnom mašinom i krećete se jednosmjernom ulicom koja ima dvije obilježene saobraćajne trake, a na raskrsnici skrećete ulijevo. Iz koje saobraćajne trake vršite radnju skretanja?

- 1 iz lijeve saobraćajne trake;  
 2 iz desne saobraćajne trake.

T

---

**39** Ako je vozilo kojim se prevoze djeca zaustavljeno na kolovozu, na putu sa dvije saobraćajne trake, dok djeca ulaze ili izlaze iz vozila, a vi tom vozilu dolazite u susret, dužni ste:

- 1 zaustaviti vozilo dok djeca ulaze i izlaze iz vozila;  
 2 smanjiti brzinu kretanja vozila i naročitom oprežnošću nastaviti kretanje vozilom;  
 3 smanjiti brzinu kretanja vozila i po potrebi zaustaviti vozilo.

A,B,C,D,T

---

**40** Svjetla za vožnju unazad treba da imaju takav nagib, osim kada je to posebnim dozvolama predviđeno, da ne osvijetljavaju put na dužini većoj od:

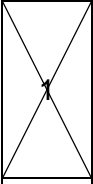
- 1 7,5 m, mjereći od izvora svjetla;  
 2 10 m, mjereći od izvora svjetla;  
 3 8 m, mjereći od izvora svjetla.

B,C,D


---

41

Kolona je:



niz od najmanje tri vozila (osim bicikla, traktora, radne mašine i zaprežnog vozila), koja su zaustavljena na putu, ili se na bliskom međusobnom rastojanju kreću istom saobraćajnom trakom u istom smjeru, pri čemu su brzina kretanja vozila i postupanja vozača međusobno uslovljeni i između kojih, bez ometanja, ne može da uđe drugo vozilo;



niz od najmanje pet vozila koja su zaustavljena na putu, ili se na bliskom međusobnom rastojanju kreću istom saobraćajnom trakom u istom smjeru, pri čemu su brzina kretanja vozila i postupanja vozača međusobno uslovljeni i između kojih, bez ometanja, ne može da uđe drugo vozilo.

A,B,C,D,T

42

Koje radnje morate preduzeti prije vršenja radnje polukružnog okretanja?

(više tačnih odgovora)



predhodno se uvjeriti da je radnju moguće učiniti bez opasnosti za druge učesnike u saobraćaju ili imovinu;



uključiti uređaj za istovremeno paljenje svih pokazivača pravca;



voditi računa o položaju vozila i pravcu i brzini kretanja.

A,B,C,D

43

Na kojem nagibu parkirna kočnica motornog odnosno priključnog vozila kada je ono odvojeno od vučnog vozila, mora obezbijediti nepokretnost vozila opterećenog do najveće dopuštene mase, a da pritom vozilo nije kočeno na drugi način?



12 %;



18 %.

C

44

Pojam „saobraćajna traka“ podrazumijeva:



uzdužni dio kolovoza namijenjen za saobraćaj motornih vozila;



obilježeni ili neobilježeni uzdužni dio kolovoza čija je širina dovoljna za nesmetan saobraćaj jednog reda vozila.

A,B,C,D,T

---

**45** Oznaka za vožnju, na smjerokaznom stubiću, u noćnim uslovima u smjeru vožnje, sa desne strane je?

- 1 crvene boje, a sa lijeve strane crne boje;
- 2 crvene boje, a sa lijeve strane bijele boje;
- 3 crne boje, a sa lijeve strane bijele boje.

A,B,C,D,T

---

**46** Svjetlosni saobraćajni znak „žuto trepćuće svjetlo“ obavezuje sve učesnike u saobraćaju na:

- 1 najavu crvenog svjetla;
- 2 najavu zelenog svjetla;
- 3 kretanje sa naročitom oprežnošću, i da uređaj za davanje svjetlosnih znakova nije u funkciji regulisanja saobraćaja.

A,B,C,D,T

---

**47** Za vrijeme upravljanja vozilom na autoputu vozač ne smije: (više tačnih odgovora)

- 1 mijenjati saobraćajnu traku kojom se predhodno kretao;
- 2 kretati se vozilom unazad;
- 3 obavljati radnju polukružnog okretanja.

A,B,C,D

---

**48** Izdata vam je vozačka dozvola za B kategoriju. Kojim vozilima imate pravo upravljati? (više tačnih odgovora)

- 1 mopedom;
- 2 lakim četvorociklom;
- 3 vozilima čija je najveća dozvoljena masa veća od 3500 kg.

A,B

---

**49** Vozaču kojem je u roku od jedne godine zbog učinjenih prekršaja iz Zakona o osnovama bezbjednosti saobraćaja na putevima u Bosni i Hercegovini određeno najmanje 10 (deset) kaznenih bodova: (više tačnih odgovora)

- 1 biće oduzeta vozačka dozvola u trajanju od 60 dana;
- 2 biće oduzeta vozačka dozvola u trajanju od 30 dana;
- 3 biće upućen na provjeru poznavanja saobraćajnih propisa.

A,B,C,D

---

**50** Vozač koji na provjeri poznavanja saobraćajnih propisa ne pokaže potrebno znanje može, na svoj zahtjev, pristupiti ponovo provjeri:

- 1 poslije isteka 15 dana od dana prethodne provjere;
- 2 poslije isteka 30 dana od dana prethodne provjere.

A,B,C,D

---

**51** Motorna vozila na svom zadnjem dijelu moraju biti opremljena sa jednim ili dva svjetla za vožnju unazad:

- 1 bijele boje;
- 2 crvene ili žute boje.

A,B,C,D

---

**52** Osnovna boja znakova opasnosti je?

- 1 žuta boja, a ivice trougla su crvene, izuzev znakova I-25 (radovi na putu) i I-43 (saobraćajna nezgoda), čija je osnovna boja žuta;
- 2 plava, a simboli i natpisi su bijele boje;
- 3 bijela boja, a ivice trougla su crvene, izuzev znakova I-25 (radovi na putu) i I-43 (saobraćajna nezgoda), čija je osnovna boja žuta.

A,B,C,D,T

---

**53** Uređaj za upravljanje vozilom mora biti pouzdan i izveden tako da se:  
(više tačnih odgovora)

- vozač može lako, brzo i na siguran način mijenjati pravac i smjer kretanja vozila;  
 prednji točkovi vozila, pri kretanju vozila po vodoravnoj ravnoj površini, nakon oslobađanja točka upravljača, sami vraćaju u položaj za pravolinijsko kretanje;  
 3 omogućava slobodan hod točka upravljača na vozilu veći od 30°.

A,B,C,D,T

---

**54** Na kojem nagibu parkirna kočnica skupa vozila mora obezbijediti nepokretnost cijelog skupa vozila, a da pritom skup vozila ne bude kočen na drugi način?

- 1 6 %;  
 2 12 %.

C

---

**55** Kako će ovlašćeno lice postupiti prema vozaču koji odbije da se podvrgne ispitivanju, odnosno stručnom pregledu na koji je upućen radi provjeravanja da li ima alkohola u organizmu ili da li pokazuje znakove poremećenosti izazavane dejstvom alkohola, odnosno da li je pod dejstvom opojnih droga ili psihoaktivnih lijekova na kojima je označeno da se ne smiju upotrebljavati prije i za vrijeme vožnje?

- 1 dati mu rok u kojem se mora podvrgnuti ispitivanju, odnosno pregledu;  
 2 na licu mjesta privremeno oduzeti vozačku dozvolu;  
 3 isključiti vozilo iz saobraćaja.

A,B,C,D,T

---

**56** „Stop-svjetla“ ne moraju imati vozila koja na ravnom putu ne mogu razviti brzinu veću od:

- 1 25 km/h;  
 2 30 km/h.

A,B,T

---

---

**57** Radna mašina po svojim konstrukcionim osobinama ne može razviti brzinu veću od:

- 1 25 km/h;  
 2 30 km/h;  
 3 40 km/h.

A,B,T

---

**58** „Centralni registar“ je evidencija:

- 1 samo o vozačima;  
 2 samo o vozilima;  
 3 o svim vozačima i vozilima.

A,B,C,D,T

---

**59** „Brzi put“, u pravilu:

- 1 nema zaustavnih traka;  
 2 ima zaustavnih traka.

A,B,C,D

---

**60** Međunarodna vozačka dozvola izdaje se na period važenja od:

- 1 jedne godine;  
 2 dvije godine, odnosno na period propisan međunarodnim ugovorom;  
 3 tri godine.

A,B,C,D

---

**61** Izdata vam je vozačka dozvola za C1 podkategoriju.  
Kojim vozilima imate pravo upravljati?

- 1 vozilima koja, osim sjedišta za vozača, imaju više od osam sjedišta, a manje od šesnaest sjedišta;  
 2 vozilima čija je najveća dozvoljena masa veća od 3.500 kg, a manja od 7.500 kg.

B,C

---

---

**62** Vozačka dozvola koja se izdaje licu starijem od 65 godina života produžava se sa rokom važenja od:

- tri godine;  
 2 dvije godine;  
 3 deset godina;  
 4 dvadeset godina.

A,B,C,D

---

**63** Ispod slova „L” na tablici kojom se obilježava vozilo za osposobljavanje kandidata za vozača iz upravljanja motornim vozilom upisuje se:

- 1 broj instruktorske dozvole instruktora vožnje;  
 2 registarski broj vozila za koje se tablica koristi.

A,B,C,D

---

**64** Da li se ispod slova „P” kojim se obilježava vozilo kojim upravlja vozač početnik upisuje broj vozačke dozvole početnika?

- 1 da;  
 2 ne.

A,B

---

**65** Najmanja dopuštena dubina kanala na gaznoj površini pneumatika za putnička vozila je:

- 1 1 mm;  
 2 1,6 mm;  
 3 2 mm.

A,B,T

---

---

**66** Na razdaljini manjoj od 15 m ispred i iza znaka kojim je obilježeno stajalište za vozila javnog saobraćaja vozač ne smije da:

- 1 parkira vozilo;  
 2 zaustavi vozilo.

A,B,C,D,T

---

**67** Da li se u saobraćaju smije koristiti vozačka dozvola za koju je izdat duplikat?

- 1 ne;  
 2 da.

A,B,C,D,T

---

**68** U kom slučaju će vozaču biti oduzeta vozačka dozvola u trajanju od 30 dana?

- 1 ako mu, u roku od jedne godine, zbog učinjenih prekršaja iz Zakona o osnovama bezbjednosti saobraćaja na putevima u BiH bude određeno najmanje sedam kaznenih bodova;  
 2 ako mu, u roku od jedne godine zbog učinjenih prekršaja iz Zakona o osnovama bezbjednosti saobraćaja na putevima u BiH, bude određeno najmanje deset kaznenih bodova.

A,B,C,D

---

**69** Laka prikolica je:

- 1 priključno vozilo čija najveća dozvoljena masa nije veća od 750 kg;  
 2 priključno vozilo čija najveća dozvoljena masa nije veća od 1.250 kg.

B,C,D

---



---

**70** Učestalost treptanja pokazivača pravca treba, u pravilu, iznositi:

- 1 najmanje 60 odnosno najviše 90 treptaja u minuti;  
 2 najmanje 60 odnosno najviše 120 treptaja u minuti;  
 3 60 treptaja u minuti.

A,B,C,D

---

**71** Prolaženje vozilom pored drugog vozila koje se po istom kolovozu kreće iz suprotnog smjera je:

- 1 preticanje;  
 2 mimoilaženje.

A,B,C,D,T

---

**72** Svjetlosni snop „kratkog svjetla“ osvjetljava put u dužini od:

- 1 najmanje 35 a najviše 70 m;  
 2 najmanje 40 a najviše 80 m.

A,B,C,D

---

**73** Rok važenja vozačke dozvole, u pravilu, je:

- 1 tri godine, od dana njenog izdavanja, odnosno produženja njenog važenja;  
 2 pet godina, od dana njenog izdavanja, odnosno produženja njenog važenja;  
 3 deset godina, od dana njenog izdavanja, odnosno produženja njenog važenja.

A,B,C,D

---

**74** Izdata vam je vozačka dozvola za A1 kategoriju. Kojim vozilima imate pravo upravljati?

- 1 lakim motociklom čija zapremina motora ne prelazi 125cm<sup>3</sup>, a snaga ne prelazi 11kW;  
 2 triciklom i četvorociklom na motorni pogon.

A,B

---

---

**75** Kazneni bodovi se evidentiraju u evidenciji vozača na osnovu:

- konačnog i izvršnog prekršajnog naloga odnosno pravosnažnog sudskog rješenja;  
 2 rješenja MUP-a gdje se vozač vodi u evidenciji.

A,B,C,D,T

---

**76** Vozački ispit iz upravljanja motornim vozilom za vozača kategorije A i A1 podkategorije polaže se:

- na poligonu i na javnom putu u gradu;  
 2 na javnom putu u gradu.

A,B

---

**77** Ako vozač motornog vozila i poslije dvije provjere poznavanja saobraćajnih propisa ne pokaže dovoljno znanje, ne može da pristupi daljnjoj provjeri dok ne istekne rok od:

- 1 30 dana od dana posljednje provjere;  
 2 dva mjeseca od dana posljednje provjere.

A,B,C,D

---

**78** Da li vozilo auto-škole u kojem se obavlja osposobljavanje i polaganje ispita iz upravljanja motornim vozilom za kategoriju B mora imati u opremi i aparat za gašenje požara?

- da;  
 2 ne.

B,C,D

---

**79** Najveća dozvoljena količina alkohola u krvi za vozače koji imaju manje od 3 godine vozačkog iskustva je:

- 0,0 g/kg;  
 2 0,3 g/kg;  
 3 0,5 g/kg.

A,B,C,D,T

---

**80** Međunarodna vozačka dozvola izdata u BiH:

- 1 može se koristiti za upravljanje motornim vozilima na teritoriji BiH;
- 2 ne može se koristiti za upravljanje motornim vozilima na teritoriji BiH.

A,B,C,D

---

**81** Pod pojmom „najveća dozvoljena masa“ vozila podrazumijeva se:

- 1 ukupna masa vozila;
- 2 masa vozila zajedno sa njegovom nosivošću.

B,C,D,T

---

**82** Motornim vozilom smije da se vuče samo priključno vozilo koje:

- 1 nije teže i duže od vučnog vozila;
- 2 spada u istu kategoriju vučnog vozila;
- 3 bitno ne umanjuje stabilnost vučnog vozila.

B,C,D,T

---

**83** Na putu koja ima obilježene pješačke prelaze ili posebno izgrađene prelaze, odnosno prolaze za pješake, pri prelaženju puta pješak je dužan da se kreće tim prelazima, odnosno prolazima, ako oni nisu od njega:

- 1 udaljeni više od 50 m;
- 2 udaljeni više od 100 m.

A,B,C,D,T

---

**84** Lice koje ima pravo da upravlja motornim vozilom bez posjedovanja vozačke dozvole je:

- 1 kandidat za vozača za vrijeme osposobljavanja, u prisustvu instruktora vožnje koji ga osposobljava;
- 2 svako lice prije navršanih 18 godina života, koje je zdravstveno sposobno za samostalno upravljanje vozilom u saobraćaju.

A,B,C,D

---

---

**85****Privremena registracija vozila važi:**

- 1 najduže 6 mjeseci i može se, iz opravdanih razloga, produžiti najduže za još 6 mjeseci;  
 najduže jednu godinu i može se, iz opravdanih razloga, produžiti najduže za još jednu godinu.

A,B,C,D,T

---

**86****Troškove premještanja vozila, u slučajevima kad je vozilo zaustavljeno ili parkirano na mjestima gdje je to zabranjeno, snose:**

- 1 organ nadležan za unutrašnje poslove ili organizacija kojoj je povjereno premještanje vozila;  
 vlasnik ili vozač vozila.

A,B,C,D,T

---

**87****Da li na javnom putu van naselja sa savremenim kolovozom za saobraćaj u oba smjera na kome postoje samo dvije saobraćajne trake, te trake moraju da budu odvojene odgovarajućom uzdužnom linijom na kolovozu, a na magistralnom putu obilježene i ivičnim linijama?**

- ne,  
 2 da.

A,B,C,D

---

**88****Ako teret na vozilu prelazi više od jednog metra, najudaljeniju tačku na zadnjoj strani vozila, najisturenija tačka tereta na vozilu mora biti označena:**

- 1 tablom kvadratnog oblika dimenzije 50x50 cm reflektujuće narandžaste i bijele boje;  
 2 crvenom tkaninom;  
 3 crvenom tkaninom i uključivanjem svih pokazivača smjera.

A,B,C,D,T

---

**89****Da li oznake na kolovozu čine saobraćajnu signalizaciju?**

- 1 ne;  
 da.

A,B,C,D,T

---

**90** Odstojanje između vučnog i vučenog motornog vozila ako se vuče pomoću užeta mora iznositi:

- od 3 m do 5 m;  
 2 manje od 2 m;  
 3 manje od 3 m.

B,T

---

**91** Vozač ne smije da zaustavi ili parkira vozilo na raskrsnici i na razdaljini od najbliže ivice poprečnog kolovoza manjoj od:

- 1 3 m;  
 2 5 m;  
 3 2 m.

A,B,C,D,T

---

**92** Lice koje upravlja zaprežnim vozilom je?

- vozač vozila koje vuče upregnuta životinja;  
 2 vozač motornog vozila.

A,B,T

---

**93** Saobraćajna traka za vozila javnog gradskog prevoza je:

- 1 obilježeni uzdužni dio kolovoza namijenjen za vozila javnog gradskog prevoza putnika;  
 2 obilježeni uzdužni dio kolovoza namijenjen za vozila javnog gradskog prevoza putnika, kad su u vozilu putnici.

A,B,C,D,T

---

**94** Da li je dozvoljeno preticati niz vozila koji čine dvije radne mašine, jedan traktor i dva bicikla?

- 1 dozvoljeno je;  
 2 nije dozvoljeno.

A,B,C,D

---

**95** Da li se vozila koja prevoze opasne materije smiju vući odnosno koristiti za vuču drugih vozila?

- 1 ne;  
 2 da.

B,C,D

**96** U kojem slučaju će vozaču biti oduzeta vozačka dozvola u trajanju od 60 dana?

- 1 ako mu, u roku od jedne godine, zbog učinjenih prekršaja iz Zakona o osnovama bezbjednosti saobraćaja na putevima u BiH bude određeno najmanje deset kaznenih bodova;  
 2 ako mu, u roku od dvije godine, zbog učinjenih prekršaja iz Zakona o osnovama bezbjednosti saobraćaja na putevima u BiH ponovo bude određeno najmanje deset kaznenih bodova.

A,B,C,D

**97** Radnja preticanja i obilaženja se, po pravilu, obavlja:

- 1 sa obje strane, vozilom kojim se pretiče ili obilazi;  
 2 sa lijeve strane vozila koje se pretiče ili obilazi;  
 3 sa desne strane vozila koje se pretiče ili obilazi.

A,B,C,D,T

**98** Da li vozač koji upravlja vozilom kroz tunel smije da zaustavi vozilo u tunelu?

- 1 da;  
 2 ne;  
 3 da, ako uključi uređaj za uključivanje svih pokazivača pravca.

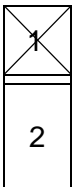
A,B,C,D,T

**99** Da li je vučenim vozilom, osim lica koje upravlja vučenim vozilom, dozvoljeno prevoziti druga lica?

- 1 da;  
 2 ne.

B,C,D,T

### Koja vozila ne smiju da se kreću autoputem?



vozila koja se prema odredbama Zakona o osnovama bezbjednosti saobraćaja na putevima u BiH ne smatraju motornim vozilima;

vozila koja prema svojim konstrukcionim osobinama mogu da se kreću brzinom većom od 40 km/h.

A,B,C,D,T

101

### Na kojoj razdaljini od obilježenog pješačkog prelaza vozač ne smije da zaustavi ili parkira vozilo?



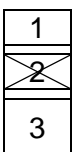
manjoj od 5 m;

manjoj od 3 m.

A,B,C,D,T

102

### Gdje se na putu postavljaju smjerkazni stubići sa bijelim reflektujućim katadiopтером?



uz desnu ivicu kolovoza;

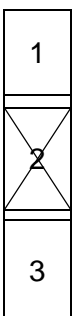
uz lijevu ivicu kolovoza;

samo ispred opasnih krivina.

A,B,C,D,T

103

### Ako je vozač zbog saobraćajne nezgode prinuđen da zaustavi ili parkira vozilo na obilježenom pješačkom prelazu ili na razdaljini manjoj od 5 m od tog prelaza, u naselju, dužan je:



postaviti znak kojim se označava zaustavljeno vozilo na kolovozu (bezbjednosni trokut), iza zaustavljenog vozila, u vertikalnom položaju, na udaljenosti manjoj od deset metara;

postaviti znak kojim se označava zaustavljeno vozilo na kolovozu (bezbjednosni trokut), iza zaustavljenog vozila, u vertikalnom položaju, na udaljenosti koja ne smije biti manja od deset metara;

postaviti znak kojim se označava zaustavljeno vozilo na kolovozu (bezbjednosni trokut), iza zaustavljenog vozila, u vertikalnom položaju, na udaljenosti koja ne smije biti manja od 50 metara.

A,B,C,D,T

**104**

Znakovi po kojima su dužni postupati svi učesnici u saobraćaju, moraju se ponovo postaviti nakon svakog ukrštanja puteva, odnosno spajanja sa drugim putem, i to:

1
<input checked="" type="checkbox"/>

znakovi opasnosti;

znakovi izričitih naredbi, ako izričita naredba važi i poslije takvog ukrštanja.

A,B,C,D,T

---

**105**

Da li se na znakovima turističke signalizacije mogu koristiti simboli koji se upotrebljavaju na saobraćajnim znakovima iz grupe znakova obavještenja?

<input checked="" type="checkbox"/>
2

da;

ne.

A,B,C,D,T

---

**106**

Kolika je najveća dozvoljena širina prikolice koju vuku motocikli, mopedi i drugi dvotočkaši?

<input checked="" type="checkbox"/>
2

1,00 m;

0,80 m.

A

---

**107**

Da li je vozač motocikla dužan pravilno koristiti zaštitnu kacigu za vrijeme vožnje motociklom?

1
<input checked="" type="checkbox"/>

ne;

da.

A

---

**108**

U kojem periodu vozač može preuzeti privremeno oduzetu vozačku dozvolu od organa čije je ovlašćeno lice tu dozvolu oduzelo?

1
2
<input checked="" type="checkbox"/>

u roku od 48 h;

u roku od 24 h;

u roku od tri dana.

A,B,C,D

---



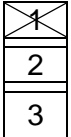
**109****Oprema, znakovi i oznake za označavanje radova, prepreka i oštećenja kolovoza spadaju u:**

saobraćajnu opremu puta;

svjetlosnu saobraćajnu signalizaciju i svjetlosne oznake;

horizontalnu saobraćajnu signalizaciju na kolovozu i drugim površinama.

A,B,C,D,T

**110****Da li je ispred linije zaustavljanja na kolovozu obavezno ispisivanje riječi „STOP“?**

ne;

da;

samo u naselju.

A,B,C,D,T

**111****Organizovana kolona pješaka, kada se kreće po kolovozu, mora da se kreće:**

uz desnu ivicu kolovoza u smjeru kretanja

uz lijevu ivicu kolovoza u smjeru kretanja.

A,B,C,D,T

**112****Pješak koji gura bicikl po kolovozu mora se kretati:**

uz lijevu ivicu kolovoza u smjeru kretanja;

uz desnu ivicu kolovoza u smjeru kretanja.

A,B,C,D,T

**113****Na kojoj udaljenosti od prelaza puta preko željezničke pruge u nivou se postavlja znak „Andrejin krst“?**

na udaljenosti od 15 m od najbliže šine;

na udaljenosti koja ne može biti manja od 3 m niti veća od 10 m od najbliže šine.

A,B,C,D,T

114

**Kako su dužni postupati pješaci ako im u susret dolazi vozilo sa pravom prvenstva prolaza?**

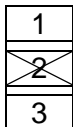


- omogućiti vozilu nesmetan prolaz;  
nastaviti se kretati jer pješak ima prednost.

A,B

115

**Nosivost je dozvoljena masa do koje vozilo smije da se optereti:**

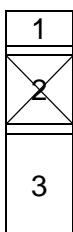


- prema vučnim osobinama vozila;  
prema deklaraciji proizvođača vozila;  
prema deklaraciji proizvođača tereta kojeg prevozi.

B,C,T

116

**Kako treba postupiti vozač kad prilazi vozilom obilježenom pješačkom prelazu na kome saobraćaj nije regulisan uređajima za davanje svjetlosnih saobraćajnih znakova ni znakovima ovlašćenog lica?**



- upravljati vozilom sa naročitom oprežnošću;  
zaustaviti vozilo da bi propustio pješake koji prelaze ili stupaju na pješački prelaz, ili nedvosmisleno pokazuju namjeru da pređu preko pješačkog prelaza;  
prilagoditi brzinu vozila, tako da u slučaju potrebe može blagovremeno zaustaviti vozilo i propustiti pješake koji prelaze ili stupaju na pješački prelaz ili nedvosmisleno pokazuju namjeru da pređu preko pješačkog prelaza.

A,B,C,D,T

117

**Kako treba postupiti vozač vozila koji nailazi na zaustavljen autobus na kolovozu sa dvije saobraćajne trake u koji ulaze ili izlaze djeca?**

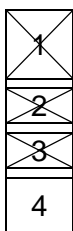


- povećati brzinu kretanja vozila;  
obavezno zaustaviti vozilo;  
nastaviti kretanje vozilom sa naročitom oprežnošću;  
koristiti zvučni signal.

A,B,C,D,T

118

**Vozač koji namjerava da vozilom kojim upravlja izvrši radnju skretanja udesno na putu smije započeti takvu radnju samo: (više tačnih odgovora)**



- ako se prethodno uvjerio da to može učiniti bez opasnosti za druge učesnike u saobraćaju ili imovinu;  
ako vodi računa o položaju vozila;  
ako vodi računa o pravcu i brzini kretanja vozila;  
ako upravlja vozilom sa upaljenim dugim svjetlima.

A,B,C,D,T

119

Ako saobraćajnim znakom nije drugačije određeno, na putu u naselju, vozač ne smije upravljati vozilom brzinom većom od:



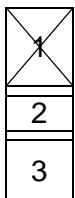
50 km/h;

40 km/h.

A,B,C,D

120

Na raskrsnici ili u susretu sa drugim vozilom, vozač je dužan propustiti vozilo:



koje dolazi sa njegove desne strane, osim ako saobraćajnim znakom na putu nije drugačije određeno;

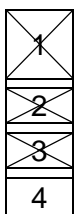
koje se kreće sporije;

koje dolazi sa njegove lijeve strane.

A,B,C,D,T

121

Vozač je dužan da propusti sva vozila koja se kreću putem na koji se uključuje sa vozilom: (više tačnih odgovora)



ako je put na koji se uključuje označen saobraćajnim znakom kao put sa prvenstvom prolaza;

ako se vozilom uključuje sa zemljanog puta na put sa kolovoznim zastorom;

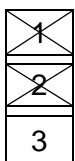
ako se vozilom uključuje sa površine na kojoj se ne odvija saobraćaj;

ako po uključivanju skreće udesno.

A,B,C,D,T

122

Vozač vozila kome je dat znak za preticanje sa njegove lijeve strane dužan je: (više tačnih odgovora)



pomjeriti vozilo ka desnoj ivici kolovoza;

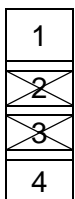
ne povećavati brzinu kretanja vozila dok ga drugo vozilo pretiče;

odgovoriti zvučnim znakom upozorenja;

A,B,C,D,T

123

Ako se pored kolovoza nalaze djeca koja ne obraćaju pažnju na kretanje vozila, vozač je dužan: (više tačnih odgovora)



pomjeriti vozilo ka desnoj ivici kolovoza;

smanjiti brzinu kretanja vozila;

upotrijebiti zvučni znak upozorenja;

pomjeriti vozilo prema sredini kolovoza.

A,B,C,D,T

124

Na javnom putu van naselja, u slučaju potrebe zaustavljanja ili parkiranja vozila vozač je dužan, zaustaviti ili parkirati vozilo van kolovoza:

<input type="checkbox"/>
2
3

- uvijek, kada za to postoji mogućnost;  
zavisno od vremenskih prilika;  
samo u uslovima smanjene vidljivosti.

A,B,C,D,T

125

Kada je motorno vozilo na putu dozvoljeno vući pomoću užeta?

<input type="checkbox"/>
2
3

- kad su ispravni uređaji za upravljanje i uređaji za zaustavljanje;  
zavisno od vremenskih prilika;  
kad je ispravan samo uređaj za zaustavljanje.

B,C

126

Vozač koji vrši radnju skretanja vozilom na bočni put na čijem ulazu ne postoji obilježen pješački prelaz dužan je: (više tačnih odgovora)

<input type="checkbox"/>
2
<input checked="" type="checkbox"/>
4

- izvršiti radnju skretanja smanjenom brzinom;  
obavezno se zaustaviti;  
ne ugroziti pješake koji su već stupili na kolovoz;  
upravljati vozilom sa naročitom oprežnošću.

A,B,C,D,T

127

Učesnici u saobraćaju pred prelazom puta preko željezničke pruge u istom nivou, ako se uređaj za zatvaranje saobraćaja počeo spuštati dužni su:

1
<input checked="" type="checkbox"/>
3

- smanjiti brzinu kretanja vozila;  
zaustaviti se;  
požuriti sa prelaskom.

A,B,C,D,T

128

Da li je dozvoljeno da se na autoput uključi motorno vozilo koje vuče drugo motorno vozilo koje zbog neispravnosti ne može da se kreće?

<input type="checkbox"/>
2
3

- ne;  
samo u uslovima dobre vidljivosti;  
da.

B,C,D

**129**

Lice koje je učestvovalo u saobraćajnoj nezgodi u kojoj ima poginulih ili povrijeđenih lica ili je nastala veća materijalna šteta, dok se ne izvrši uviđaj:

<input checked="" type="checkbox"/>
2

ne smije konzumirati alkohol;

smije konzumirati alkohol do količine od 0,3 g/kg.

A,B,C,D,T

**130**

Poslije saobraćajne nezgode u kojoj je prouzrokovana samo manja materijalna šteta, vozači su dužni? (više tačnih odgovora)

<input checked="" type="checkbox"/>
2
<input checked="" type="checkbox"/>

ukloniti vozila sa kolovoza i razmijeniti lične podatke;

nastaviti kretanje vozilom sa naročitom oprežnošću;

popuniti i potpisati obrazac evropskog izvještaja o saobraćajnoj nezgodi.

A,B,C,D,T

**131**

Da li je vozač dužan da za vrijeme upravljanja motornim vozilom u saobraćaju koristi pomagala koja su mu neophodna da bezbjedno upravlja vozilom?

1
<input checked="" type="checkbox"/>

ne;

da.

A,B,C,D,T

**132**

Lice koje je položilo vozački ispit i dobilo vozačku dozvolu za kategoriju/podkategoriju A1, A, B ili C1 ne smije dvije godine od dana izdavanja vozačke dozvole da upravlja vozilom: (više tačnih odgovora)

1
<input checked="" type="checkbox"/>
<input checked="" type="checkbox"/>
<input checked="" type="checkbox"/>

na putu sa mokrim kolovozom;

na autoputu brzinom većom od 120 km/h;

koje nije obilježeno posebnim znakom;

na brzom putu brzinom većom od 90 km/h.

A,B,C

**133**

Da li je vozač dužan kada se danju kreće putem van naselja, prije dolaska na prevoj na kome je otežano mimoilaženje upotrijebiti zvučni znak upozorenja?

<input checked="" type="checkbox"/>
2
3

dužan je upotrijebiti zvučni znak upozorenja;

nije dužan upotrijebiti zvučni znak upozorenja;

nije regulisano propisom.

A,B,C,D,T

**134**

Da li je dozvoljeno isticanje međunarodne oznake druge države na vozilima registrovanim u Bosni i Hercegovini?

1
<input checked="" type="checkbox"/>
3

- da;  
ne;  
ne, ako napuštaju teritoriju Bosne i Hercegovine.

A,B,C,D,T

**135**

U kom roku je vlasnik vozila dužan da odjavi vozilo ako je prodato, uništeno ili otpisano?

<input checked="" type="checkbox"/>
2
3

- u roku od 15 dana;  
u roku od 30 dana;  
u roku od 12 mjeseci.

A,B,C,D,T

**136**

Šta se podrazumjeva pod pojmom „kolovoz“?

<input checked="" type="checkbox"/>
2
3

- dio površine puta namijenjen prvenstveno za saobraćaj motornih vozila;  
dio bočne strane puta;  
dio puta namijenjen za kretanje pješaka.

A,B,C,D,T

**137**

Šta mora učiniti vozač kad prilazi vozilom obilježenom pješačkom prelazu?  
(više tačnih odgovora)

<input checked="" type="checkbox"/>
2
<input checked="" type="checkbox"/>
4

- upravlјati vozilom sa naročitoм oprežnošću;  
obavezno zaustaviti vozilo;  
voziti takvom brzinom da u slučaju potrebe može da zaustavi vozilo ispred pješačkog prelaza;  
privremeno zaustaviti vozilo i sačekati odlazak djece.

A,B,C,D,T

**138**

Na javnom putu i njegovom zaštitnom pojasu zabranjeno je: (više tačnih odgovora)

<input checked="" type="checkbox"/>
2
<input checked="" type="checkbox"/>

- prodavati proizvode;  
prodavati samo alkoholne proizvode;  
podizati spomenike i postavljati druga spomen-obilježja.

A,B,C,D,T

139

Da li je vozaču zabranjeno da za vrijeme upravljanja vozilom u saobraćaju na javnom putu koristi mobilni telefon?

<input type="checkbox"/>
<input checked="" type="checkbox"/>
<input type="checkbox"/>
<input type="checkbox"/>

- da, osim u slučaju da je mobilni telefon prilagođen upotrebi u vozilu;  
 ne, ako je vozilo zaustavljeno radi postupanja po saobraćajnom znaku;  
 ne, ako je vozilo zaustavljeno po znaku i naredbi ovlašćenog lica.

A,B,C,D,T

140

Da li vozač smije da mijenja način upravljanja vozilom naglim smanjenjem brzine kretanja vozila:

<input checked="" type="checkbox"/>
<input type="checkbox"/>

- da;  
 ne, osim u slučaju neposredne opasnosti.

A,B,C,D,T

141

Vozač ne smije smanjiti brzinu kretanja vozila kojim upravlja:

<input checked="" type="checkbox"/>
<input type="checkbox"/>

- ispod 20 km/h;  
 do te mjere da njegovo vozilo pričinjava smetnju normalnom odvijanju saobraćaja.

A,B,C,D,T

142

Vozač vozila koje na raskrsnici skreće ulijevo, osim ako postavljenim saobraćajnim znakom nije drugačije određeno, dužan je propustiti vozilo koje:

<input checked="" type="checkbox"/>
<input type="checkbox"/>

- dolazi iz suprotnog smjera i na raskrsnici zadržava pravac svog kretanja;  
 dolazi iz suprotnog smjera i na raskrsnici skreće ulijevo.

A,B,C,D,T

143

Javni putevi moraju da imaju:

<input checked="" type="checkbox"/>
<input type="checkbox"/>
<input type="checkbox"/>

- najmanje jednu saobraćajnu traku i dvije ivične trake ili ivičnjake u ravni kolovoza, a ulice trotoare s ivičnjacima;  
 najmanje dvije saobraćajne trake i dvije ivične trake ili ivičnjake u ravni kolovoza, a ulice trotoare s ivičnjacima;  
 najmanje jednu saobraćajnu traku i jednu ivičnu traku ili ivičnjak u ravni kolovoza, a ulica trotoar s ivičnjakom.

A,B,C,D,T

144

**Kada je vozaču zabranjeno da započne radnju preticanja?** (više tačnih odgovora)

<input checked="" type="checkbox"/>
<input checked="" type="checkbox"/>
<input type="checkbox"/>

ako je vozač koji se kreće vozilom iza njega započeo radnju preticanja;

ako se ispred njega kreće kolona vozila;

kada je kolovoz mokar.

A,B,C,D

145

**Motorno vozilo koje na putu vuče drugo neispravno motorno vozilo:**

<input type="checkbox"/>
<input checked="" type="checkbox"/>

ne smije se kretati brzinom većom od 30 km/h;

ne smije se kretati brzinom većom od 40 km/h.

B,C,T

146

**Vozač je dužan kada se kreće putem van naselja, prije ulaska u nepreglednu krivinu:**  
(više tačnih odgovora)

<input checked="" type="checkbox"/>
<input checked="" type="checkbox"/>
<input type="checkbox"/>

danju upotrijebiti zvučni znak upozorenja;

noću upotrijebiti svjetlosni znak upozorenja;

uključiti uređaj za uključivanje svih pokazivača pravca.

A,B,C,D

147

**Svjetla za maglu koja se nalaze na zadnjoj strani vozila moraju biti:**

<input type="checkbox"/>
<input type="checkbox"/>
<input checked="" type="checkbox"/>

narandžaste boje;

žute ili bijele boje;

crvene boje.

B,C,D

148

**Vozači vozila koja se kreću prelazom puta preko željezničke pruge u istom nivou kad svjetla na prelazu nisu upaljena dužni su to činiti:**

<input checked="" type="checkbox"/>
<input type="checkbox"/>
<input type="checkbox"/>

sa naročitom oprežnošću;

sa upaljenim dugim svjetlima;

uz upotrebu zvučnog znaka upozorenja .

A,B,C,D,T



**149****Učesnik u saobraćajnoj nezgodi u kojoj je nastala veća materijalna šteta dužan je da:** (više tačnih odgovora)

1
2
3

bez zaustavljanja nastavi kretanje vozilom sa naročitom oprežnošću;

obavijesti najbližu policijsku stanicu o saobraćajnoj nezgodi;

sačeka dolazak službenog lica koje obavlja uviđaj.

A,B,C,D,T

**150****Vozač koji se zatekne ili naiđe na mjesto saobraćajne nezgode dužan je da na zahtjev ovlašćenog lica:**

1
2

preveze lice povrijeđeno u saobraćajnoj nezgodi do najbliže zdravstvene ustanove;

preveze lice povrijeđeno u saobraćajnoj nezgodi prema želji povrijeđenog.

A,B,C,D,T

**151****Vozač koji je mlađi od 21 godine starosti ili koji ima manje od tri godine vozačkog iskustva smatraće se da je pod djelovanjem alkohola ako mu količina alkohola u krvi iznosi:** (više tačnih odgovora)

1
2
3

0,5 g/kg;

0,3 g/kg;

0,0 g/kg.

A,B,C,T

**152****Za vrijeme upravljanja vozilom koje je označeno „probnim“ tablicama vozač mora imati kod sebe:**

1
2

važeću potvrdu uz probne tablice, koju je dužan pokazati na zahtjev ovlašćenog lica;

dokaz o uplati propisanih naknada za probne registarske tablice.

A,B,C,D,T

**153****Tehnički pregled motornih i priključnih vozila obavlja se:**

1
2

radi provjere da li motorno ili priključno vozilo ima propisane uređaje i opremu i da li je u ispravnom stanju;

radi utvrđivanja vlasništva vozila.

A,B,C,D,T

**154**

**Vlasnik vozila, ako ne produži registraciju vozila u roku od 30 dana od dana isticanja važenja potvrde o registraciji, dužan je da vrati registarske tablice nadležnom organu:**

1
<del>2</del>
3

u roku od 10 dana;

u roku od 8 dana;

u roku 48 h.

A,B,C,D,T

**155**

**Lice koje se zatekne ili naiđe na mjesto saobraćajne nezgode u kojoj ima povrijeđenih:**

<del>1</del>
2

dužno je da ukaže pomoć licima povrijeđenim u saobraćajnoj nezgodi;

ne smije pružati pomoć povrijeđenima do dolaska zdravstvenih radnika;

A,B,C,D,T

**156**

**Manja materijalna šteta je:**

1
<del>2</del>

šteta koja je nastala u saobraćajnoj nezgodi na vozilima u kojoj su se vozači dogovorili o izmirenju međusobnih obaveza, bez obzira na visinu štete;

šteta u saobraćajnoj nezgodi nastala na vozilu na kojem nisu oštećeni vitalni dijelovi i sklopovi i koje može samostalno da se kreće na putu.

A,B,C,D,T

**157**

**Saobraćajna traka za prinudno zaustavljanje vozila je:**

<del>1</del>
2
3

obilježeni uzdužni dio kolovoza na autoputevima i na određenim mjestima na putevima višeg ranga, kao i u tunelima i galerijama, namijenjena za prinudno zaustavljanje vozila;

uzdužni dio kolovoza namijenjen za vozila koja sporom vožnjom smanjuju odvijanje saobraćaja;

dio kolovoza namijenjen za isključivanje vozila iz saobraćaja na putu.

A,B,C,D,T

**158**

**Saobraćajna traka za ubrzavanje je:**

1
<del>2</del>
3

dio kolovoza namijenjen za vozila javnog gradskog prevoza;

dio kolovoza namijenjen za uključivanje vozila u saobraćaj sa sporednog puta, odnosno drugih prilaznih puteva sa objekata pored puteva;

dio kolovoza čija je širina dovoljna za nesmetan saobraćaj dva reda vozila.

A,B,C,D,T

**159****Javni put izvan naselja čini:**

1
2
3

1 zemljišni pojas s desne strane puta širine najmanje dva metra, računajući od krajnje tačke poprečnog profila puta;

2 zemljišni pojas s obje strane puta širine najmanje tri metra, računajući od krajnje tačke poprečnog profila puta;

3 zemljišni pojas s obje strane puta širine najmanje jedan metar, računajući od krajnje tačke poprečnog profila puta

A,B,C,D,T

**160****Smanjena vidljivost postoji kada:**

X
2
3

X zbog nepovoljnih atmosferskih ili drugih prilika vozač ne može jasno da uoči druge učesnike u saobraćaju na udaljenosti od najmanje 200 m na putu izvan naselja, odnosno od najmanje 100 m u naselju;

2 zbog nepovoljnih atmosferskih ili drugih prilika vozač ne može jasno da uoči druge učesnike u saobraćaju na udaljenosti od najmanje 300 m na putu izvan naselja, odnosno od najmanje 200 m u naselju;

3 zbog nepovoljnih atmosferskih ili drugih prilika vozač ne može jasno da uoči druge učesnike u saobraćaju na udaljenosti od najmanje 250 m na putu izvan naselja, odnosno od najmanje 150 m u naselju.

A,B,C,D,T

**161****U vozačku dozvolu upisuju se:**

X
2
3

X sve kategorije i podkategorije vozila kojima vozač ima pravo da upravlja;

2 samo one kategorije za koje je vozač položio vozački ispit;

3 sve kategorije vozila kojima vozač ima pravo da upravlja, a podkategorije samo ako to vozač naznači u zahtjevu za izdavanje vozačke dozvole.

A,B,C,D

**162****Na autoputu vozač ne smije da upravlja vozilom koje se kreće: (više tačnih odgovora)**

1
X
X

1 brzinom većom od 120 km/h;

X brzinom većom od 130 km/h;

X brzinom većom od brzine određene postavljenim saobraćajnim znakom.

A,B,C,D

**163****Mijenjanje saobraćajne trake je:**

1
2
<input checked="" type="checkbox"/>

1 prolaženje vozilom pored drugog vozila koje se kreće u istoj saobraćajnoj traci i u istom smjeru;

2 prolaženje vozilom pored zaustavljenog vozila koje se nalazi u saobraćajnoj traci kojom se vozilo kreće;

3 prelaženje vozilom iz jedne u drugu saobraćajnu traku za saobraćaj u istom smjeru radi prestrojavanja ili dozvoljenog bržeg kretanja.

A,B,C,D,T

**164****Na putu u naselju vozač smije da upravlja vozilom: (više tačnih odgovora)**

<input checked="" type="checkbox"/>
2
<input checked="" type="checkbox"/>

1 brzinom koja ne prelazi 50 km/h;

2 brzinom koja ne prelazi 40 km/h;

3 brzinom koja prelazi 50 km/h, ako je to saobraćajnim znakom dozvoljeno.

A,B,C,D,T

**165****Brzi put je javni put koji: (više tačnih odgovora)**

<input checked="" type="checkbox"/>
2
<input checked="" type="checkbox"/>
4

1 je namijenjen za saobraćaj isključivo motornih vozila sa jednom ili dvije razdvojene kolovozne trake;

2 povezuje veće gradove i važnija privredna područja Bosne i Hercegovine;

3 ima sve raskrsnice u dva ili više nivoa sa poprečnim putevima i drugim saobraćajnicama (željezničkim prugama ili tramvajskim prugama);

4 povezuje važnija privredna područja Bosne i Hercegovine.

A,B,C,D,T

**166****Na raskrsnici i na drugom mjestu na kojem je saobraćaj regulisan uređajima za davanje svjetlosnih saobraćajnih znakova „zeleno trepćuće svjetlo“ upozorava učesnike u saobraćaju na: (više tačnih odgovora)**

1
2
<input checked="" type="checkbox"/>
<input checked="" type="checkbox"/>

1 obavezno zaustavljanje pješaka i vozila;

2 skoru pojavu zelenog svjetla;

3 skori prestanak slobodnog prolaza;

4 skoru pojavu žutog, odnosno crvenog svjetla.

A,B,C,D,T

**167****Kad upravlja motornim i priključnim vozilom vozač mora da ima kod sebe:**

(više tačnih odgovora)



važeću potvrdu o registraciji izdatu za to vozilo;



2

račun ili ugovor o kupovini tog vozila;



3

polisu obaveznog osiguranja tog vozila;



4

potvrdu o izvršenom tehničkom pregledu tog vozila.

A,B,C,D,T

**168****U saobraćaju na putu, po jednu registarsku tablicu imaju: (više tačnih odgovora)**

priključna vozila;



2

motocikli;



3

sva motorna vozila;



4

laki motocikli.

A,B,C,D,T

**169****Saobraćajna traka za usporavanje je:**

dio kolovoza namijenjen za isključivanje vozila iz saobraćaja na putu;



2

dio puta u naseljenom mjestu namjenjen isključivo za saobraćaj motornih vozila koja se kreću sporo;



3

dio puta namjenjen za vozila koja se kreću sporo i otežavaju brže odvijanje saobraćaja.

A,B,C,D,T

**170****Zona smirenog saobraćaja je:**

1

područje u naselju ili van naselja u kojem se ne mogu upotrebljavati zvučni znakovi upozorenja;



2

područje u naselju, obilježeno propisanim saobraćajnim znakom, u kojem vozila ne smiju da se kreću brzinom većom od brzine hoda pješaka zbog dozvoljenog kretanja pješaka i dječije igre;



3

područje u naselju, obilježeno propisanim saobraćajnim znakom, koje isključivo obuhvata zone oko škola i dječijih obdaništa.

A,B,C,D,T

---

**171****Ulica može da ima:**

samo jednu saobraćajnu traku bez proširenja;



jednu saobraćajnu traku s tim da se odgovarajuće proširenje mora nalaziti na svakih 50 m;



najmanje dvije saobraćajne trake.

A,B,C,D,T

---

**172****Koliki broj kaznenih bodova se može odrediti vozaču motornog vozila koji je prekršajnim nalogom odnosno sudskim rješenjem kažnjen za prekršaje kažnjive prema odredbama Zakona o osnovama bezbjednosti saobraćaja na putevima u Bosni i Hercegovini?**

dva, tri i pet bodova, što je određeno kaznenim odredbama zakona;



jedan i dva boda, zavisno od težine učinjenog prekršaja;



dva i tri boda koja utvrđuje sud prilikom određivanja kazne.

A,B,C,D

---

**173****Na putevima rezervisanim za saobraćaj motornih vozila i brzim putevima (van naselja) vozač ne smije vozilom da se kreće: (više tačnih odgovora)**

brzinom većom od 70 km na čas a manjom 90 km/h;



brzinom većom od 60 km na čas a manjom od 80 km/h;



brzinom većom od brzine određene saobraćajnim znakom postavljenim na putu;



brzinom većom od 100 km na čas.

A,B,C,D,T

---

**174****Vozačka dozvola izdaje se za upravljanje motornim i priključnim vozilima koja se razvrstavaju u: (više tačnih odgovora)**

kategorije A, B, C, D i E;



kategorije A, B, BE, C, CE, D i DE;



podkategorije F, G i H ;



podkategorije A1, B1, C1, D1, C1E i D1E .

A,B,T

**175****Vozila sa pravom prvenstva prolaza su:** (više tačnih odgovora)

<input type="checkbox"/>
<input type="checkbox"/>
<input type="checkbox"/>

- 1 vozila službe hitne pomoći, vatrogasna vozila;  
 2 vozila inspekcijskih službi;  
 3 vozila policije, sudske policije, zatvorske policije-straže, vojna vozila i vozila Granične policije BiH.

A,B,C,D,T

**176****Vozač koji se vozilom kreće kroz tunel ne smije:** (više tačnih odgovora)

<input type="checkbox"/>
<input type="checkbox"/>
<input type="checkbox"/>
<input type="checkbox"/>

- 1 da polukružno okreće vozilo;  
 2 da upravlja vozilom brzinom većom od 40km/h;  
 3 da se vozilom kreće unazad;  
 4 da zaustavlja vozilo.

A,B,C,D,T

**177****Javni putevi moraju da budu osposobljeni da podnesu osovinsko opterećenje:**

<input type="checkbox"/>
<input type="checkbox"/>
<input type="checkbox"/>
<input type="checkbox"/>

- 1 od najmanje 9 tona po osovini;  
 2 od najmanje 10 tona po osovini;  
 3 od najmanje 8 tona po osovini;  
 4 od najmanje 7 tona po osovini.

A,B,C,D,T

**178****Vozač koji na putu susretne vozilo ili kolonu vozila pod pratnjom i vozač kojeg sustigne vozilo ili kolona vozila pod pratnjom dužni su:** (više tačnih odgovora)

<input type="checkbox"/>
<input type="checkbox"/>
<input type="checkbox"/>
<input type="checkbox"/>

- 1 da obavezno zaustave svoje vozilo i propuste vozila pod pratnjom;  
 2 da ustupe prvenstvo prolaza, omoguće nesmetan prolaz vozilima pod pratnjom, a po potrebi i zaustave svoje vozilo;  
 3 da umjesto dugih svjetala noću upotrijebe kratka svjetla za osvjetljavanje puta;  
 4 da se strogo pridržavaju naredbi koje im daju lica iz pratnje i kretanje nastave tek kad prođu sva vozila pod pratnjom.

A,B,C,D,T

---

**179****Koji faktori utiču na sposobnost predviđanja rizika i opasnosti u saobraćaju?**  
(više tačnih odgovora)

<input checked="" type="checkbox"/>
2
3
<input checked="" type="checkbox"/>

iskustvo;  
brzina reakcije;  
vrsta vozila;  
znanje.

A,B,T

---

**180****Vozač koji namjerava da se kreće vozilom unazad može da izvrši tu radnju:**  
(više tačnih odgovora)

<input checked="" type="checkbox"/>
2
<input checked="" type="checkbox"/>

samo na kratkom dijelu puta;  
na prevojima na kojima je preglednost nedovoljna;  
pod uslovom da ne ugrožava ili ne ometa druge učesnike u saobraćaju.

A,B,C,D,T

---

**181****Koja je najveća dozvoljena brzina kretanja vozilom na putevima u naselju, osim ako saobraćajnim znakom nije drugačije određeno?**

1
<input checked="" type="checkbox"/>
3

80 km/h;  
50 km/h;  
60 km/h.

A,B,C,D,T

---

**182****Ukupan zaustavni put motornog vozila je:**

<input checked="" type="checkbox"/>
2
3

duži u noćnim uslovima vožnje nego danju, zbog dužeg vremena reagovanja vozača;  
kraći u noćnim uslovima vožnje nego danju jer su vozači oprezniji;  
isti i noću i danju.

A,B,C,D,T

---



183

Da li vozilo koje je zaustavljeno ili parkirano na za to posebno određenim mjestima na kolovozu ili van njega ili na ulicama sa slabijim saobraćajem mora imati upaljena svjetla?

1
<input checked="" type="checkbox"/>

mora;

ne mora.

A,B,C,D,T

184

Koja je najveća dozvoljena brzina kretanja za motorna vozila koja vuku prikolicu za stanovanje (kamp prikolicu) ili laku prikolicu?

1
2
<input checked="" type="checkbox"/>

60 km/h;

100 km/h;

80 km/h.

B,D

185

Da li vozač može da upotrijebi svjetlosni znak upozorenja danju?

<input checked="" type="checkbox"/>
2

da, ako takav način upozorenja drugim učesnicima u saobraćaju više odgovara uslovima na putu;

ne, svjetlosni znak upozorenja se upotrebljava samo noću.

A,B,C,D,T

186

Vozač vozila kojem je dat znak za preticanje sa njegove lijeve strane ne smije?

1
<input checked="" type="checkbox"/>
3

smanjivati brzinu kretanja svog vozila;

povećavati brzinu kretanja vozila dok se drugim vozilom vrši radnja preticanja;

uključiti desni pokazivač pravca radi isključivanja vozilom iz saobraćaja.

A,B,C,D,T

187

Približavate se vozilom prelazu puta preko željezničke pruge u nivou na kojem nema uređaja za zatvaranje saobraćaja, niti uređaja za davanje znakova kojim se najavljuje približavanje voza. Kako postupate? (više tačnih odgovora)

1
2
<input checked="" type="checkbox"/>

zaustavljate vozilo pred prelazom, odnosno pred željezničkom prugom;

upotrebljavate zvučni znak upozorenja i što brže prelazite preko pruge;

pošto se prethodno uvjerite da prugom ne nailazi voz ili neko drugo vozilo koje se kreće šinama prelazite sa naročitom oprežnošću vozilom preko željezničke pruge.

A,B,C,D,T

**188**

Koja je najveća dozvoljena brzina kretanja vozilom na putu van naselja, osim na autoputu, putu rezervisanom za saobraćaj motornih vozila i brzom putu?

- |              |           |
|--------------|-----------|
| 1            | 60 km/h;  |
| <del>2</del> | 80 km/h;  |
| 3            | 100 km/h. |

A,B,C,D

**189**

Približavate se vozilom raskrsnici. Na semaforu je upaljeno žuto trepćuće svjetlo. Iznad semafora je istaknut znak „STOP”. Kako ste dužni postupiti u ovoj situaciji?

- |              |  |
|--------------|--|
| <del>1</del> | obavezno zaustaviti vozilo;  |
| 2            | voziti bez zaustavljanja;  |
| 3            | uključiti uređaj za istovremeno uključivanje svih pokazivača pravca. |

A,B,C,D,T

**190**

Čemu prilagođavate brzinu kretanja vozila na putevima van naselja?  
(više tačnih odgovora)

- |              |   |
|--------------|---|
| 1            | vremenu putovanja za koje želim stići na odredište; |
| <del>2</del> | trenutnim uslovima na putu i u saobraćaju;          |
| <del>3</del> | vrsti puta.   |

A,B,C,D

**191**

Koje motorno vozilo se ne smije vući krutom vezom (rudom)?

- |              |   |
|--------------|---|
| <del>1</del> | motorno vozilo koje nema ispravan uređaj za upravljanje;                  |
| 2            | motorno vozilo teže od vučnog vozila, ako mu je ispravna pomoćna kočnica. |

B,C,T

**192**

Upaljeno plavo rotaciono svjetlo na policijskom vozilu koje je zaustavljeno na kolovozu obavezuje vozače: (više tačnih odgovora)

- |              |                                   |
|--------------|-----------------------------------|
| 1            | da polukružno okrenu vozilo;      |
| <del>2</del> | da smanje brzinu kretanja vozila; |
| 3            | da ubrzaju kretanje vozila;       |
| <del>4</del> | da po potrebi zaustave vozilo.    |

A,B,C,D,T

**193**

**Kako ćete postupiti u situaciji kad se, za vrijeme vožnje u naselju, vozilo javnog gradskog prevoza putnika ili posebno obilježeno vozilo kojim se obavlja organizovani prevoz djece uključuje na javni put sa stajališta? (više tačnih odgovora)**

<input type="checkbox"/>
<input checked="" type="checkbox"/>
<input type="checkbox"/>
<input type="checkbox"/>

1 smanjiti brzinu kretanja vozila;

2 prema potrebi zaustaviti vozilo i omogućujete uključivanje u saobraćaj vozilu javnog gradskog prevoza odnosno vozilu kojim se obavlja organizovani prevoz djece;

3 nastavljate kretanje vozilom bez obzira na vozilo koje izlazi sa stajališta ;

4 vozilo koje izlazi sa stajališta upozoravate zvučnim znakom upozorenja, te nastavljate kretanje vozilom.

A,B,C,D,T

**194**

**Nasloni za glavu na sjedištima u putničkim vozilima služe za: (više tačnih odgovora)**

<input checked="" type="checkbox"/>
<input checked="" type="checkbox"/>
<input type="checkbox"/>
<input type="checkbox"/>

1 zaštitu glave vozača i putnika u slučaju saobraćajne nezgode;

2 zaštitu vratnih pršljenova vozača i putnika u slučaju saobraćajne nezgode;

3 bolju preglednost puta i veću koncentraciju vozača;

4 udobniji san suvozača pri vožnji na autoputevima.

B,C,D

**195**

**Na putu van naselja zaustavljeno je vozilo zbog neispravnosti. Na kom odstojanju iza zaustavljenog vozila i u kom položaju na kolovozu morate postaviti bezbjednosni trokut?**

<input type="checkbox"/>
<input checked="" type="checkbox"/>
<input type="checkbox"/>

1 minimalno 150 m iza zaustavljenog vozila, u vertikalnom položaju;

2 minimalno 50 m iza zaustavljenog vozila, u vertikalnom položaju

3 minimalno 100 m iza zaustavljenog vozila, u horizontalnom položaju.

A,B,C,D,T

**196**

**Kako ćete postupiti neposredno prije ulaska vozilom u raskrsnicu? (više tačnih odgovora)**

<input checked="" type="checkbox"/>
<input checked="" type="checkbox"/>
<input type="checkbox"/>
<input checked="" type="checkbox"/>

1 utvrditi kako je uređeno odvijanje saobraćaja na raskrsnici;

2 utvrditi smjerove nailaska vozila;

3 povećati brzinu kretanja vozila;

4 propustiti vozila koja imaju prednost prvenstva prolaza.

A,B,C,D,T

---

**197** Kako postupate prilikom prestrojavanja vozilom iz jedne u drugu saobraćajnu traku? (više tačnih odgovora)

<input type="checkbox"/>
<input type="checkbox"/>
<input type="checkbox"/>
<input type="checkbox"/>

- uključujete odgovarajući pokazivač pravca;  
uvjeravate se u bezbjedno izvođenje radnje prestrojavanja;  
pravilno vršite radnju prestrojavanja uz povećavanje ili smanjivanje brzine kretanja vozila;  
zaustavljate vozilo i nakon toga se prestrojavate.

A,B,C,D,T

---

**198** Motornim vozilom u saobraćaju na putu može da upravlja lice:

<input type="checkbox"/>
<input type="checkbox"/>

- koje ima dokaz da je vozilo kojim upravlja tehnički ispravno bez obzira na kategoriju kojoj to vozilo pripada;  
koje ima važeću vozačku dozvolu, stranu vozačku dozvolu ili međunarodnu vozačku dozvolu odgovarajuće kategorije.

A,B,C,D,T

---

**199** Kako su dužni učesnici u saobraćaju da postupe kad naiđu na saobraćajni znak postavljen na putu?

<input type="checkbox"/>
<input type="checkbox"/>

- prema ličnoj procjeni, zavisno od konkretne saobraćajne situacije na putu;  
u skladu sa značenjem saobraćajnog znaka.

A,B,C,D,T

---

**200** Šta treba vozač učiniti prije nego što pokrene vozilo? (više tačnih odgovora)

<input type="checkbox"/>
<input type="checkbox"/>
<input type="checkbox"/>

- upoznati sva lica u vozilu sa osnovnim saobraćajnim pravilima i kaznenim odredbama;  
vezati sigurnosni pojas;  
prilagoditi sjedište i naslon za glavu.

B,C,D

---

**201** Vozač koji je zbog neispravnosti na vozilu, saobraćajne nezgode ili drugog opravdanog razloga prinuđen da zaustavi vozilo na kolovozu dužan je: (više tačnih odgovora)

<input type="checkbox"/>
<input type="checkbox"/>
<input type="checkbox"/>
<input type="checkbox"/>

- otvoriti poklopac motora da se spriječi pregrijavanje;  
označiti se svjetloodbojnim prslukom za vrijeme kretanja van vozila;  
preduzeti sve mjere da zaustavljeno vozilo ne dovede u opasnost druga vozila;  
vozilo što prije ukloniti sa kolovoza.

A,B,C,D,T

**202****Koje su najčešće greške vozača zbog kojih se događaju saobraćajne nezgode? (više tačnih odgovora)**

<input type="checkbox"/>
<input type="checkbox"/>
<input type="checkbox"/>
<input type="checkbox"/>

1 nepoštovanje prava prvenstva prolaza;

2 propisno preticanje i obilaženje;

3 nepropisna vožnja unazad;

4 propisna i prilagođena brzina.

A,B,C,D,T

**203****Vozila u saobraćaju na putu moraju da ispunjavaju propisane uslove u pogledu: (više tačnih odgovora)**

<input type="checkbox"/>
<input type="checkbox"/>
<input type="checkbox"/>

1 dimenzija, ukupne mase i osovinskog opterećenja;

2 zaštite životne sredine te imati ispravne propisane uređaje i opremu;

3 udobnosti.

A,B,C,D,T

**204****Saobraćajna traka za spora vozila je:**

<input type="checkbox"/>
<input type="checkbox"/>
<input type="checkbox"/>

1 dio kolovoza namijenjen za isključivanje vozila iz saobraćaja na putu;

2 uzdužni dio kolovoza namijenjen za vozila koja sporom vožnjom smanjuju odvijanje saobraćaja;

3 obilježeni ili neobilježeni uzdužni dio kolovoza čija je širina dovoljna za nesmetan saobraćaj jednog reda vozila.

A,B,C,D,T

**205****U priključnom vozilu za stanovanje (kamp-prikolica) dozvoljeno je prevoziti lica?**

<input type="checkbox"/>
<input type="checkbox"/>

1 da;

2 ne.

B

**206****Šta je parkiranje?**

<input type="checkbox"/>
<input type="checkbox"/>
<input type="checkbox"/>

1 prekid kretanja vozila u trajanju dužem od pet minuta, osim prekida koji se pravi da bi se postupilo po znaku ili pravilu kojim se reguliše saobraćaj;

2 prekid kretanja vozila u trajanju do pet minuta, osim prekida koji se pravi da bi se postupilo po znaku ili pravilu kojim se reguliše saobraćaj;

3 prekid kretanja vozila u trajanju dužem od tri minute, uključujući i prekide koji se prave da bi se postupilo po znaku ili pravilu kojim se reguliše saobraćaj.

A,B,C,D,T

207

Kolika mora biti najmanja širina slobodnog prolaza na dijelu puta od zaustavljenog ili parkiranog vozila do neisprekidane uzdužne linije na kolovozu, ili do suprotne ivice kolovoza, ili do neke prepreke na putu?

1
2
3

2,5 m;

3 m;

2 m.

A,B,C,D,T

208

Vozilo koje se na kolovozu nalazi u takvom položaju, a njegov vozač daje takav znak da se sa sigurnošću može zaključiti da to vozilo skreće ulijevo, mora se preticati:

1
2


sa lijeve strane;

sa desne strane;

A,B,C,D,T

209

Dopunska svijetleća zelena strelica postavljena u visini zelenog svjetla na semaforu usmjerena udesno znači:


2
3

da vozač može izvršiti radnju skretanja vozilom udesno iako svijetli crveno svjetlo, uz uslov da propusti vozila i pješake koji se kreću putem na koji skreće;

zabranu skretanja na raskrsnici udesno;

obvezan smjer skretanja udesno.

A,B,C,D,T

210

Kako postupate pri upravljanju vozilom za vrijeme jakog vjetro? (više tačnih odgovora)

1
2
3

smanjujete brzinu kretanja vozila;

pri mimoilaženju sa drugim vozilima držite veće rastojanje;

povećavate brzinu kretanja vozila.

A,B,C,D

211

Zbog čega je upravljanje pod dejstvom alkohola vozilom opasno? (više tačnih odgovora)

1
2
3
4
5

skraćuje se zaustavni put vozila;

daje lažni osjećaj sigurnosti vozaču;

skraćuje vrijeme reagovanja vozača;

teže se procjenjuje odstojanje između vozila;

produžuje vrijeme reagovanja vozača.

A,B,C,D,T

212

Puna uzdužna razdjelna linija na kolovozu, označava zabranu: (više tačnih odgovora)

<input checked="" type="checkbox"/>
<input checked="" type="checkbox"/>
<input type="checkbox"/>

kretanja vozila po toj liniji;

prelaska vozila preko te linije;

kretanja vozila unazad;

A,B,C,D,T

**213**

**Kako očekivanje opasnosti utiče na bezbjednost prilikom upravljanja vozilom?**

(više tačnih odgovora)

<input checked="" type="checkbox"/>
<input type="checkbox"/>
<input type="checkbox"/>
<input checked="" type="checkbox"/>
<input checked="" type="checkbox"/>

povećava pažnju;

smanjuje pažnju;

produžava vrijeme reagovanja vozača;

skraćuje vrijeme reagovanja vozača;

skraćuje dužinu zaustavnog puta vozila.

A,B,C,D

**214**

**Koje su najčešće očekivane greške vozača pod dejstvom alkohola?**

(više tačnih odgovora)

<input checked="" type="checkbox"/>
<input type="checkbox"/>
<input checked="" type="checkbox"/>
<input type="checkbox"/>
<input checked="" type="checkbox"/>

nepropisna i neprilagođena brzina kretanja vozila;

pravilno vršenje radnje mimoilaženja;

ne držanje potrebnog odstojanja;

poštovanje saobraćajnih pravila i propisa;

neppravilno vršenje radnje preticanja ili obilaženja.

A,B,C,D,T

**215**

**Gdje je zabranjeno vršiti radnju polukružnog okretanja?** (više tačnih odgovora)

<input type="checkbox"/>
<input checked="" type="checkbox"/>
<input checked="" type="checkbox"/>

u naselju;

u tunelu;

na autoputu, putu rezervisanom za saobraćaj motornih vozila i brzom putu;

A,B,C,D,T

**216** Kad na raskrštnici vozila dolaze iz suprotnih smjerova i skreću ulijevo vozači se mimoilaze:

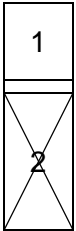


- sa svoje lijeve strane;
- sa svoje desne strane;

A,B,C,D,T

---

**217** Šta je naselje?



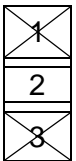
skup ulica koje se međusobno ukrštaju ili spajaju, između kojih se nalaze redovi ili grupe zgrada čije su granice označene saobraćajnim znakovima;

je izgrađen, nastanjen, prostorno i funkcionalno objedinjen dio naseljenog mjesta u kom su javni putevi izgrađeni s uređenim trotoarom i ivičnjakom pored kojeg je najmanje s jedne strane red kuća ili grupa zgrada i čije su granice obilježene saobraćajnim znakom za obilježavanje naselja;

A,B,C,D,T

---

**218** Mrežu javnih puteva, zavisno od njihovog društvenog i privrednog značaja, čine: (više tačnih odgovora)




- magistralni putevi, regionalni i lokalni putevi;
- šumski i zemljani putevi na neuređenim površinama;
- ulice u naseljima i gradovima.

A,B,T

---

**219** Kad na putu sa dvije saobraćajne trake za saobraćaj u oba smjera trebate upravljati vozilom što bliže desnoj ivici kolovoza? (više tačnih odgovora)

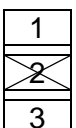


- kada nas pretiče drugo vozilo;
- kod mimoilaženja sa drugim vozilom;
- kad vršite radnju preticanja vozila.

A,B,C,D,T

---

**220** Autobus kojim se vrši organizovani prevoz djece zaustavljen je na kolovozu zbog ulaska djece. Kako postupate?



- nastavljate kretanje sa povećanom oprežnošću;
- obavezno zaustavljate vozilo;
- ne obraćate pažnju na autobus.

A,B,C,D,T

---



221

**Zeleno trepćuće svjetlo služi za?**

1
<input checked="" type="checkbox"/>

upozoravanje učesnika u saobraćaju na skori prestanak zabrane prolaska i na pojavu zelenog svjetla;

upozoravanje učesnika u saobraćaju na skori prestanak slobodnog prolaska i na pojavu žutog, odnosno crvenog svjetla.

A,B,C,D,T

222

**Motornim vozilom ne smije da se vuče? (više tačnih odgovora)**

<input checked="" type="checkbox"/>
<input checked="" type="checkbox"/>
<input checked="" type="checkbox"/>
<input checked="" type="checkbox"/>

bicikl;

laki motocikl;

motocikl sa bočnom prikolicom;

motocikl bez bočne prikolice.

A,B,C,T

223

**Kako se ponašaju djeca u saobraćaju? (više tačnih odgovora)**

<input checked="" type="checkbox"/>
<input checked="" type="checkbox"/>
<input checked="" type="checkbox"/>
<input checked="" type="checkbox"/>

teško procjenjuju brzinu kretanja i udaljenost vozila;

spontano i nepredvidivo;

smišljeno i predvidivo;

panično i u strahu.

A,B,C,D,T

224

**Kad se vozaču može izreći zaštitna mjera zabrane upravljanja motornim vozilom u trajanju od jednog do četiri mjeseca? (više tačnih odgovora)**

1
<input checked="" type="checkbox"/>
<input checked="" type="checkbox"/>

ako upravlja vozilom u saobraćaju na putu, a kod kojeg se utvrdi količina alkohola u krvi do 0,5 g/kg;

ako se odbije podvrgnuti ispitivanju pomoću odgovarajućih sredstava ili aparata ili stručnom pregledu radi provjeravanja da li ima alkohola u organizmu ili da li pokazuje znake poremećenosti izazvane dejstvom alkohola;

ako upravlja vozilom u saobraćaju na putu, a kod kojeg se utvrdi količina alkohola u krvi preko 0,8 g/kg do 1,5 g/kg.

A,B,C,D,T

225

Koji organ u BiH izdaje ovlaštenje za izdavanje međunarodne vozačke dozvole?

1
<del>2</del>
3

auto-moto klubovi;

Ministarstvo komunikacija i transporta BiH;

auto-moto društva.

A,B,C,D

226

Kolika je najveća dozvoljena širina motornog vozila na dva i tri točka?

1
<del>2</del>
3

1,60 m;

2,00 m;

2,50 m.

A

227

Pravo da upravlja motornim vozilom za kategorije A, B i BE stiže lice koje ima:

1
2
<del>3</del>

16 godina;

17 godina;

18 godina.

A,B

228

Vozača kojem je roku od jedne godine zbog učinjenih prekršaja iz Zakona o osnovama bezbjednosti saobraćaja na putevima u BiH određeno najmanje sedam kaznenih bodova nadležni organ kod kojeg se vodi u evidenciji će:

<del>1</del>
2
3

pozvati na predavanja o posljedicama koje proizlaze iz nepoštovanja ili nepoznavanja saobraćajnih propisa;

oduzeti mu vozačku dozvolu u trajanju od 30 dana;

oduzeti mu vozačku dozvolu u trajanju od 60 dana.

A,B,C,D

229

Pravo da upravlja motornim vozilom ima lice koje ispunjava sljedeće uslove:  
(više tačnih odgovora)

<del>1</del>
2
<del>3</del>
4

da je fizički i psihički sposobno da upravlja motornim vozilom;

da nema navršene godine života određene zakonom zavisno od kategorije odnosno podkategorije vozila;

da je položilo vozački ispit iz upravljanja motornim vozilom određene kategorije ili podkategorije;

da mu je odlukom nadležnog organa zabranjeno upravljanje motornim vozilom.

A,B,C,D,T

**230****Motorno vozilo na putu dozvoljeno je vući:** (više tačnih odgovora)

- 1
- 2
- 3
- 4

pomoću užeta, ako su mu neispravni uređaji za zaustavljanje ili upravljanje;  
 pomoću krute veze (rude);  
 pomoću automatskih vučnih kuka sa višestepenovanom regulacijom i oslanjanjem;  
 vješanjem vozila na vučno vozilo.

A,B,C,T

**231****Lice koje je položilo vozački ispit i kome je izdata vozačka dozvola za kategoriju A ne smije dvije godine od dana izdavanja vozačke dozvole upravljati vozilom na brzom putu brzinom većom od:**

- 1
- 2
- 3

60 km/h;  
 90 km/h;  
 80 km/h.

A

**232****Međunarodna vozačka dozvola:**

- 1
- 2

može se zamijeniti za vozačku dozvolu BiH;  
 ne može se zamijeniti za vozačku dozvolu BiH.

A,B,C,D

**233****Vozač koji upravlja skupom vozila čija je najveća dozvoljena masa veća od 3.500 kg ne smije neprekidno upravljati vozilom:**

- 1
- 2
- 3

duže od 4,5 h;  
 duže od 5 h;  
 duže od 9 h.

B,C

**234****Opasne materije mogu da prevoze samo lica koja su, pored drugih zakonom propisanih uslova:** (više tačnih odgovora)

- 1
- 2
- 3

navršila 21 godinu života;  
 navršila 23 godine života.  
 stručno osposobljena za rukovanje i prevoz opasnih materija.

C

**235****U kategoriju C ubrajaju se motorna vozila za prevoz tereta čija je najveća dozvoljena masa:**

1
<input checked="" type="checkbox"/>

veća od 3.500 kg;

veća od 7.500 kg.

C

**236****U podkategoriju C1 ubrajaju se motorna vozila za prevoz tereta čija je najveća dozvoljena masa:**

<input checked="" type="checkbox"/>
2

veća od 3.500 kg, a manja od 7.500 kg;

veća od 7.500 kg, a manja od 12.000 kg.

C

**237****Motorno vozilo koje prevozi opasne materije mora biti obilježeno sa prednje strane:**

1
<input checked="" type="checkbox"/>

sa dva okrugla bijela svjetla, prečnika najmanje 10 cm na gornjim uglovima vozila;

sa dva okrugla narandžasta svjetla, prečnika najmanje 10 cm na gornjim uglovima vozila.

B,C

**238****U gornjem redu identifikacione table za prevoz opasnih materija može se nalaziti znak „X”. To znači:**

1
<input checked="" type="checkbox"/>

da opasna materija burno reaguje ako dođe u dodir sa otvorenim plamenom;

da opasna materija burno reaguje ako dođe u dodir sa vodom.

B,C

**239****Javni prevoz u drumskom saobraćaju:**

<input checked="" type="checkbox"/>
2

može se vršiti samo motornim vozilima;

može se vršiti motornim i zaprežnim vozilima.

C,D

240

**Motorna vozila kojima se prevoze opasne materije:**

<input type="checkbox"/>
<input type="checkbox"/>
2

mogu se zaustavljati i parkirati samo na mjestima koja su za tu vrstu vozila određena i obilježena.;

mogu se zaustavljati i parkirati na kolovozu..

B,C

241

**Vozač koji upravlja autobusom ili teretnim motornim vozilom ili skupom vozila čija je najveća dozvoljena masa veća od 3.500 kg ne smije neprekidno upravljati vozilom duže od 4,5 h, nakon čega mora da koristi odmor u trajanju od:**

1
<input checked="" type="checkbox"/>
3
4

30 min;

45 min;

1 h;

2 h.

C,D

242

**Vozila koja ne ispunjavaju propisane uslove u pogledu dimenzija, ukupne mase i osovinskog opterećenja mogu da učestvuju u saobraćaju na javnom putu?**

<input checked="" type="checkbox"/>
2

ako ispunjavaju posebne uslove koji omogućavaju bezbjedan i nesmetan saobraćaj, utvrđene u odobrenju koje je izdalo nadležno ministarstvo;

ako se kreću po putu van naselja.

A,B,C,D,T

243

**Ukupno dnevno vrijeme upravljanja autobusom u međugradskom saobraćaju ne smije biti duže od:**

1
2
<input checked="" type="checkbox"/>

4,5 h;

7 h;

9 h.

D

244

**Da li kandidat za instruktora vožnje A kategorije može polagati praktični dio ispita na motociklu zapremine motora do 125 ccm i snage motora do 11 kW?**

1
<input checked="" type="checkbox"/>

da;

ne.

A

**245**

Pravilnik o tehničkim pregledima podrazumijeva da su laka vozila ona vozila čija najveća dopuštena masa ne prelazi:

<input type="checkbox"/>
2

3,5 t;

7,5 t.

A,B,T

**246**

U kojem se periodu obavlja preventivni tehnički pregled vozila auto-škole koja su starija od 5 godine?

1
<input type="checkbox"/>
3

svaka 3 mjeseca;

svakih 6 mjeseci;

jedanput godišnje.

A,B,C,D

**247**

Kolika je najveća dozvoljena dužina autobusa sa dvije osovine uključujući i pripadajuće dijelove koji se mogu skinuti?

<input type="checkbox"/>
2

13,50 m;

15,00 m.

D

**248**

Da li stop-svjetla mogu zasvijetliti u slučaju kada vozač koristi retarder?

1
<input type="checkbox"/>

ne mogu;

mogu.

C,D

**249**

Ako je vozač prinuđen zaustaviti ili parkirati vozilo na kolovozu sa dvije saobraćajne trake gdje se saobraćaj odvija u oba smjera: (više tačnih odgovora)

<input type="checkbox"/>
2
<input type="checkbox"/>

dužan je da ga obilježi posebnim znakom kojim se označava zaustavljeno vozilo na kolovozu (bezbjednosni trokut);

nije dužan da ga obilježi posebnim znakom kojim se označava zaustavljeno vozilo na kolovozu (bezbjednosni trokut);

mora uključiti uređaj za istovremeno paljenje svih pokazivača smjera, ako je u motornom vozilu ugrađen taj uređaj.

A,B,C,D,T

**250**

U kojem slučaju autobus, osim autobusa za gradski saobraćaj, mora biti opremljen sa kočnim antiblokirajućim sistemom (ABS)? (više tačnih odgovora)

<input type="checkbox"/>
<input checked="" type="checkbox"/>
<input type="checkbox"/>

- ako mu najveća dozvoljena masa prelazi 12 t;  
ako je proizveden poslije 1. januara 1994. godine;  
ako mu najveća dozvoljena masa prelazi 9 t.

D

251

Kandidat za vozača CE kategorije može polagati ispit iz upravljanja motornim vozilom ako prikolica ima nosivost od:

<input type="checkbox"/>
<input checked="" type="checkbox"/>
<input type="checkbox"/>

- 1 minimalno 1.000 kg;  
2 minimalno 2.500 kg.

C

252

Koliko kandidata za vozača D kategorije može ispitati ispitivač tokom jednog dana?

<input checked="" type="checkbox"/>
<input type="checkbox"/>

- 1 6 kandidata;  
2 8 kandidata.

D

253

Koliko je vrijeme trajanja ispita iz upravljanja motornim vozilom za podkategoriju C1?

<input type="checkbox"/>
<input checked="" type="checkbox"/>

- 1 najmanje 25 min;  
2 najmanje 35 min.

C

254

Kandidat za vozača DE kategorije može polagati ispit iz upravljanja motornim vozilom ako priključno vozilo ima: (više tačnih odgovora)

<input checked="" type="checkbox"/>
<input checked="" type="checkbox"/>
<input checked="" type="checkbox"/>

- 1 najveću dozvoljenu masu veću od 750 kg;  
2 zatvoren tovarni prostor, najmanje 3 m širine i 3 m visine;  
3 zatvoren tovarni prostor, najmanje 2 m širine i 2 m visine.

D

**255****Najveća dozvoljena masa skupa vozila C1E podkategorije ne smije preći:**

- |              |            |
|--------------|------------|
| 1            | 10.500 kg; |
| <del>2</del> | 12.000 kg. |

C

**256****Kada teretno motorno vozilo (osim tegljača namijenjenih za vuču poluprikolica) mora biti obilježeno oznakom za teško motorno vozilo?**

- |              |   |
|--------------|---|
| <del>1</del> | ako najveća dopuštena masa prelazi 12.000 kg; |
| 2            | ako najveća dopuštena masa prelazi 7.500 kg;  |
| 3            | ako najveća dopuštena masa prelazi 3.500 kg.  |

C

**257****Kada priključna vozila moraju biti obilježena oznakama za duga priključna vozila? (više tačnih odgovora)**

- |              |   |
|--------------|---|
| <del>1</del> | kad dužina, uključujući i rudu, prelazi 8 m, a najveća dopuštena masa manja je ili jednaka 10.000 kg; |
| <del>2</del> | kad najveća dopuštena masa, bez obzira na dužinu priključnog vozila, prelazi 10.000 kg;               |
| 3            | sva priključna vozila moraju nositi oznaku za duga vozila.  |

C

**258****Da li se, po pravilu, od momenta prijema do momenta predaje opasne materije vozač motornog vozila smije udaljiti od vozila?**

- |              |     |
|--------------|-----|
| 1            | da; |
| <del>2</del> | ne. |

B,C

**259****Koliko kutija prve pomoći mora imati autobus sa više od 25 sjedećih mjesta?**

- |              |               |
|--------------|---------------|
| 1            | jedna kutija; |
| <del>2</del> | dvije kutije; |
| 3            | tri kutije.   |

D



**260**

Klinasti podmetači obavezni su za sva motorna i priključna vozila čija najveća dopuštena masa prelazi:

<input checked="" type="checkbox"/>
2

5 t;  
7,5 t.

C,D,T

**261**

Motorno vozilo koje vuče vozilo koje prevozi opasne materije, ne smije se kretati brzinom većom od:

1
2
<input checked="" type="checkbox"/>

25 km/h;  
30 km/h;  
40 km/h.

B,C

**262**

Koja motorna i priključna vozila moraju imati gabaritna svjetla?

1
<input checked="" type="checkbox"/>

motorna i priključna vozila čija visina prelazi 2,8 m;  
motorna i priključna vozila koja su šira od 2,1 m.

B,C,D,T

**263**

Lice koje je položilo vozački ispit i kome je izdata vozačka dozvola za kategoriju vozila A1, A, B ili C1 ne smije dvije godine od dana izdavanja vozačke dozvole upravljati vozilom na autoputu brzinom većom od:

1
2
3
<input checked="" type="checkbox"/>

130 km/h;  
70 km/h;  
100 km/h;  
120 km/h.

A,B,C

**264**

Vuča natovarenog teretnog vozila sa priključnim vozilom ili bez priključnog vozila, odnosno traktora sa priključnim vozilom dozvoljena je samo:  
(više tačnih odgovora)

<input checked="" type="checkbox"/>
<input checked="" type="checkbox"/>
3
4

do prvog mjesta pogodnog za pretovar tereta;  
izuzetno i do prvog mjesta na kojem može da se otkloni kvar na vozilu;  
vuča natovarenog teretnog vozila nije dozvoljena;  
vuča natovarenog teretnog vozila je dozvoljena bez ikakvih uslova.

B,C,T

---

**265** Teret na vozilu ne smije da pređe najudaljeniju tačku na prednjoj strani vozila za više od:

- |              |                             |
|--------------|-----------------------------|
| 1            | 0,25 m;                     |
| 2            | 0,50 m;                     |
| <del>3</del> | 1,00 m;                     |
| 4            | jednu šestinu svoje dužine. |

B,C,T

---

**266** Širina motornih i priključnih vozila, uključujući izmjenjive nadgradnje za prihvat tereta, kao i svih uređaja koji se pri vožnji nalaze na vozilu, izuzimajući uređaje za čišćenje snijega i vozila namijenjenih za zimsko održavanje puteva, može biti maksimalne vrijednosti-uopšteno:

- |              |         |
|--------------|---------|
| 1            | 2,00 m; |
| 2            | 2,50 m; |
| <del>3</del> | 2,55 m; |
| 4            | 4,50 m. |

B,C,T

---

**267** U podkategoriju C1 ubrajaju se motorna vozila za prevoz tereta čija najveća dozvoljena masa ne prelazi:

- |              |           |
|--------------|-----------|
| 1            | 3 500 kg; |
| 2            | 5 000 kg; |
| 3            | 7 000 kg; |
| <del>4</del> | 7 500 kg. |

C

---

**268** Teret koji se prevozi na vozilu i priključnom vozilu može da pređe najudaljeniju tačku na zadnjoj strani vozila najviše za:

- |              |  |
|--------------|--|
| 1            | jednu desetinu svoje dužine koja je kao kontinuiran teret oslonjena na tovarni prostor;  |
| <del>2</del> | jednu šestinu svoje dužine koja je kao kontinuiran teret oslonjena na tovarni prostor;   |
| 3            | jednu petinu svoje dužine koja je kao kontinuiran teret oslonjena na tovarni prostor;    |
| 4            | jednu četvrtinu svoje dužine koja je kao kontinuiran teret oslonjena na tovarni prostor. |

B,C,T

---

---

**269** Najveća dozvoljena dužina skupa vozila koji se sastoji od autobusa i prikolice iznosi:

- |              |          |
|--------------|----------|
| 1            | 16,50 m; |
| 2            | 17,50 m; |
| <del>3</del> | 18,75 m; |
| 4            | 20,00 m. |

D

---

**270** Da li za vrijeme upravljanja vozilom kategorija C i D vozač smije da ima alkohola u krvi?

- |              |                  |
|--------------|------------------|
| 1            | da, do 0,5 g/kg; |
| <del>2</del> | ne;              |
| 3            | da, do 0,3 g/kg. |

C,D

---

**271** Potvrda o aktivnostima vozača:

- |              |  |
|--------------|--|
| 1            | obrazac o evidenciji i razlozima ne korišćenja slobodnog vremena i odsustva vozača;  |
| <del>2</del> | potvrda koju izdaje prijevoznik vozaču za period dok vozač nije upravljao vozilom (bolovanje, godišnji odmor, ostali izostanci i dr.). |

C,D

---

**272** Tahograf je uređaj u vozilu koji bilježi: (više tačnih odgovora)

- |              |                                       |
|--------------|---------------------------------------|
| 1            | silu kočenja vozila;                  |
| <del>2</del> | brzinu, vrijeme i pređeni put vozila; |
| <del>3</del> | vremena rada i odmora vozača.         |

C,D

---

**273**

Vozač koji upravlja autobusom mora, po pravilu, prije početka svog radnog dana imati neprekidan odmor od najmanje:

- |              |       |
|--------------|-------|
| 1            | 10 h; |
| 2            | 8 h;  |
| <del>3</del> | 11 h. |

D

**274**

Vozača na vanredni ljeakarski pregled rješenjem upućuje:

- |              |  |
|--------------|--|
| 1            | radnik policije;                           |
| <del>2</del> | organ kod koga se vozač vodi u evidenciji; |
| 3            | nadležna zdravstvena organizacija.         |

B,C,D,T

**275**

Visina motornih i priključnih vozila, uključujući izmjenjive nadgradnje za prihvatanje tereta kao i svih uređaja koji se pri vožnji nalaze na vozilu, može imati maksimalnu vrijednost:

- |              |         |
|--------------|---------|
| 1            | 5,00m;  |
| <del>2</del> | 4,00 m; |
| 3            | 3,00 m; |
| 4            | 4,50 m. |

B,C,D,T

**276**

Redovni dnevni odmor je:

- |              |  |
|--------------|--|
| <del>1</del> | neprekinuti period odmora od najmanje 11 sati;   |
| 2            | neprekidni period od najmanje tri sata i drugi neprekidni period od najmanje devet sati; |
| 3            | neprekinuti period odmora od najmanje devet sati, ali manje od 11 sati.                  |

C,D

---

**277** Teret na vozilu treba da bude raspoređen i prema potrebi, pričvršćen i pokriven tako da: (više tačnih odgovora)

<input checked="" type="checkbox"/>
<input checked="" type="checkbox"/>
<input type="checkbox"/>
<input checked="" type="checkbox"/>

ne ugrožava bezbjednost učesnika u saobraćaju;

ne umanjuje vozaču preglednost puta;

ne rasipa se po putu, osim sa desne strane;

ne otežava upravljanje vozilom.

C,T

---

**278** Ako se na putu kreću dva ili više vozila koja prevoze opasne materije, odstojanje između tih vozila ne smije biti manje od:

<input type="checkbox"/>
<input checked="" type="checkbox"/>
<input type="checkbox"/>

150 m;

200 m;

280 m.

B,C

---

**279** Ako teret na motornom ili priključnom vozilu sa bočne strane prelazi više od 20 cm vanjsku ivicu prednjeg ili zadnjeg svjetla za označavanje vozila mora se, noću, kao i danju u slučaju smanjene vidljivosti, označiti svjetlom i katadiopterima koji:

<input checked="" type="checkbox"/>
<input type="checkbox"/>
<input type="checkbox"/>

sa prednje strane daju bijelo a sa zadnje crveno svjetlo;

sa prednje strane daju bijelo a sa zadnje narandžasto svjetlo;

sa prednje i zadnje strane daju bijelo svjetlo.

B,C,T

---

**280** Brzina kretanja za autobuse, kad se kreću autoputem ograničava se na:

<input type="checkbox"/>
<input type="checkbox"/>
<input type="checkbox"/>
<input checked="" type="checkbox"/>

75 km/h;

80 km/h;

90 km/h;

100 km/h.

D

---

**281** U slučaju neispravnosti vozila koje je natovareno opasnim materijama, takvo vozilo se vuče pomoću:

- |              |  |
|--------------|--|
| 1            | užeta;   |
| 2            | automatskih vučnih kuka sa višestepenovanom regulacijom; |
| <del>3</del> | krute veze (rude);                                       |
| 4            | oslanjanjem ili vješanjem vozila na vučno vozilo.        |

B,C

**282** Vozač ne čini povredu propisa ako teret na vozilu kojim upravlja prelazi najudaljeniju tačku na prednjoj strani vozila: (više tačnih odgovora)

- |              |  |
|--------------|--|
| 1            | više od 1 m ali ne više od 2 m, ako je prednji dio tereta obilježen crvenom tkaninom;    |
| <del>2</del> | za 80 cm;  |
| <del>3</del> | za 100 cm;   |
| 4            | za dužinu koja nije propisana, ako je prednji dio tereta obilježen odgovarajućom tablom. |

B,C,T

**283** Kad se na javnom putu van naselja koji ima jednu saobraćajnu traku namijenjenu za saobraćaj vozila u jednom smjeru, kreću jedno za drugim motorna vozila čija je najveća dozvoljena masa veća od 3.500 kg ili čija je dužina veća od sedam metara vozači su dužni da između svakog od tih vozila drže odstojanje od:

- |              |  |
|--------------|--|
| <del>1</del> | najmanje 100 m i to na dijelu puta gdje je dozvoljeno preticanje ; |
| 2            | najmanje 500 m i to na dijelu puta gdje je dozvoljeno preticanje;  |
| 3            | najmanje 200 m, i to na dijelu puta gdje je dozvoljeno preticanje. |

C,D

**284** Na tovarnom sanduku teretnog motornog vozila dugom 9 m prevoze se željezničke šine koje se kontinuirano oslanjaju na pod tovarnog sanduka. Teret je pravilno utovaren ako: (više tačnih odgovora)

- |              |  |
|--------------|--|
| 1            | najudaljeniju tačku na zadnjoj strani vozila prelazi za manje od 2 m;  |
| <del>2</del> | najudaljeniju tačku na zadnjoj strani vozila prelazi za manje od 1,5 m;  |
| <del>3</del> | je najisturenija tačka tereta označena tablom kvadratnog obilka, dimenzija 50 x 50cm, obojena naizmjeničnim kosim trakama reflektujuće narandžaste i bijele boje i postavljena uspravno na uzdužnu osu vozila. |

C

**285**

**Odgovarajućom metodom utvrđeno je da vozač u krvi ima 0,2 g/kg.  
Smatra se da je taj vozač pod dejstvom alkohola ukoliko upravlja vozilom:**  
(više tačnih odgovora)

1
<del>2</del>
<del>3</del>
4

- bilo koje kategorije;  
kategorija C ili CE;  
kategorija D ili DE;  
kategorije A.

B,C,D

**286**

**Digitalni tahograf je:**

1
<del>2</del>

uređaj u drumskom saobraćaju za bilježenje brzine i pređenog puta, kao i vremena rada i odmora, gdje se podaci zapisuju na tahografski listić na kojem vrh pisača ostvaruje zapis mehaničkim pritiskom na tahografski listić, a koji omogućava bilježenje podataka za jedan dan;

uređaj u drumskom saobraćaju za bilježenje brzine i pređenog puta, kao i vremena rada i odmora, gdje se podaci zapisuju u radnu memoriju i memorijsku karticu, a koji omogućava pohranjivanje podataka za period od 365 dana.

C,D

**287**

**Na traktoru za vrijeme vožnje po javnom putu mora biti upaljeno:**

1
<del>2</del>

- plavo rotaciono svjetlo;  
žuto rotaciono svjetlo

T

**288**

**Redovni sedmični odmor je:**

<del>1</del>
2

- odmor koji neprekidno traje najmanje 45 sati;  
odmor koji neprekidno traje najmanje 48 sati

C,D

**289**

**Kad vozač upravlja vozilom koje je opremljeno analognim tahografom, na zahtjev ovlašćenog lica mora pokazati:**

1
<del>2</del>
3

- samo tahografski listić za tekući dan;  
tahografski listić za tekući dan i prethodnih 28 dana;  
tahografski listić za tekući dan i prethodnih 21 dan.

C,D

**290****Tegljač je:**

<input checked="" type="checkbox"/>
2

motorno vozilo namijenjeno i opremljeno za vuču poluprikolice;

motorno vozilo namijenjeno i opremljeno za vuču lake prikolice.

C

**291****U slučaju kad vozilo nije opremljeno tahografom, a isto se koristi za obavljanje unutrašnjeg linijskog prevoza putnika na linijama ukupne udaljenosti do 50 km, vozač mora imati u vozilu:**

<input checked="" type="checkbox"/>
2

izvod iz rasporeda dužnosti i primjerak voznog reda;

samo izvod iz rasporeda dužnosti.

D

**292****Da li teret u rasutom stanju, kad se prevozi na javnom putu, mora da bude prekriven na odgovarajući način kako bi se spriječilo rasipanje tereta:**

<input checked="" type="checkbox"/>
2

da;

ne.

C

**293****Na teretnom vozilu u prostoru za smještaj tereta može se prevoziti:**

1
<input checked="" type="checkbox"/>
3

najviše 10 lica koja utovaraju ili istovaraju teret ili obavljaju druge radnje;

najviše 5 lica koja utovaraju ili istovaraju teret ili obavljaju druge radnje;

najviše 7 lica koja utovaraju ili istovaraju teret ili obavljaju druge radnje.

B,C

**294****Da li se u zatvorenom prostoru vozila koje se ne može otvoriti iznutra smiju prevoziti lica?**

1
<input checked="" type="checkbox"/>

da;

ne.

B,C

**295****Ukupno akumulirano vrijeme vožnje tokom 14 dana uzastopno ne smije biti duže od:**

1
<input checked="" type="checkbox"/>

96 sati;

90 sati.

C,D



---

**296****Dvojna posada je:**

1
<del>2</del>

posada koju čine četiri vozača;

posada koju čine dva vozača (vozač koji upravlja vozilom i vozač u pripravnosti).

D

---

**297****U zaštitnom pojasu javnog puta van naselja mogu se postavljati natpisi za reklame, i to pored magistralnog i regionalnog puta:**

1
<del>2</del>
3

na razdaljini od najmanje 12 metara, računajući od krajnje tačke poprečnog profila;

na razdaljini od najmanje 10 metara, računajući od krajnje tačke poprečnog profila;

na razdaljini od najmanje 15 metara, računajući od krajnje tačke poprečnog profila.

A,B,C,D,T

---

**298****Uređaj za davanje zvučnih signala ugrađen na motorna vozila koja spadaju u kategoriju vozačke dozvole D1 i D, mora proizvoditi zvukove jačine najmanje:**

1
<del>2</del>

90 dB(A);

93 dB(A).

D

---

**299****Da li se na vozila smiju postavljati gume sa ekserima?**

1
<del>2</del>

da;

ne.

A,B,C,D,T

---

**300****Sedmično vrijeme vožnje ne smije biti duže od?**

1
<del>2</del>

48 sati;

56 sati.

C,D

**301****Zimsku opremu za vozila čija najveća dozvoljena masa prelazi 3.500 kg i autobuse čine?** (više tačnih odgovora)

<input type="checkbox"/>
<input type="checkbox"/>
<input type="checkbox"/>
<input type="checkbox"/>

zimski pneumatiki na pogonskim točkovima;

lanci za snijeg;

lopata;

vreća pijeska od 25 do 50 kg.

C,D

**302****Na istoj osovini vozila, pneumatiki moraju biti jednaki po marki (proizvođaču) i tipu?**

<input type="checkbox"/>
<input type="checkbox"/>

da;

ne.

A,B,C,D,T

**303****Saobraćajna nezgoda je:**

<input type="checkbox"/>
<input type="checkbox"/>
<input type="checkbox"/>

1 događaj na putu ili koji je počeo na putu, u kojem je učestvovalo najmanje dva vozila u pokretu i u kojem je jedno lice poginulo ili povrijeđeno ili je nastala materijalna šteta;

2 događaj na putu ili koji je počeo na putu, u kojem je učestvovalo najmanje jedno vozilo u pokretu i u kojem je jedno ili više lica poginulo ili povrijeđeno ili je nastala materijalna šteta;

3 događaj na putu ili koji je počeo na putu, u kojem je učestvovalo najmanje tri vozila u pokretu i u kojem je jedno lice poginulo ili povrijeđeno ili je nastala materijalna šteta.

A,B,C,D,T

**304****Odstojanje je:**

<input type="checkbox"/>
<input type="checkbox"/>
<input type="checkbox"/>

1 najkraća uzdužna udaljenost između najjisturenijih tačaka vozila ili lica, odnosno drugih objekata;

2 najkraća, bočna udaljenost između najjisturenijih tačaka vozila ili lica, odnosno drugih objekata;

3 najkraća uzdužna udaljenost između najjisturenijih tačaka vozila.

A,B,C,D,T

**305****Put sa makadamskim zastorom je:**

<input type="checkbox"/>
<input type="checkbox"/>
<input type="checkbox"/>

1 put koji je izgrađen od jednog sloja tucanika u uvaljanom stanju;

2 put koji je izgrađen od dva sloja tucanika u uvaljanom stanju;

3 put koji je izgrađen od tri sloja tucanika u uvaljanom stanju.

A,B,C,D,T

**Saobraćajna signalizacija je?**

1
2
<del>2</del>

znak kojim se upotrebom grafičkih ili svjetlosnih oznaka ili drugih simbola učesnici u saobraćaju upozoravaju na opasnosti na putu;

znak kojim se upotrebom brojčanih ili slovnih oznaka ili drugih simbola učesnici u saobraćaju upozoravaju na opasnosti na putu, odnosno daju obavještenja potrebna za bezbjedno kretanje po putu;

sistem sredstava, uređaja i oznaka za regulisanje i vođenje saobraćaja.

A,B,C,D,T

**Polukružno okretanje je?**

1
<del>2</del>
3

okretanje vozila pod uglom od 60 stepeni u odnosu na dotadašnji smjer kretanja, radi uključenja u suprotni saobraćajni tok;

okretanje vozila za 180 stepeni u odnosu na dotadašnji smjer kretanja, radi uključenja u suprotni saobraćajni tok;

okretanje vozila za 360 stepeni u odnosu na dotadašnji smjer kretanja, radi uključenja u suprotni saobraćajni tok.

A,B,C,D,T

**Pješačka zona je?**

<del>1</del>
2
3

uređena saobraćajna površina namijenjena za kretanje pješaka, u kojoj je dozvoljeno kretanje motornih vozila s posebnim odobrenjem;

područje u naselju, obilježeno propisanim saobraćajnim znakom, u kojem vozila ne smiju da se kreću brzinom većom od brzine hoda pješaka zbog dozvoljenog kretanja pješaka i dječije igre;

uređena saobraćajna površina namijenjena za kretanje pješaka i biciklista, u kojoj je dozvoljeno kretanje motornih vozila s posebnim odobrenjem.

A,B,C,D,T

Na motornim vozilima za vrijeme kretanja kroz tunel moraju da budu upaljena?

- |   |  |
|---|--|
| 1 | duga svjetla;                          |
| 2 | kratka svjetla za osvjetljavanje puta; |
| 3 | svjetla za maglu.                      |

A,B,C,D,T

Pješačko ostrvo je:

- |   |  |
|---|--|
| 1 | uzdignuta ili na drugi način obilježena površina koja se nalazi na kolovozu namijenjena za kretanje pješaka, u kojoj je dozvoljeno kretanje motornih vozila s posebnim odobrenjem;                                     |
| 2 | uzdignuta ili na drugi način obilježena površina koja se nalazi na kolovozu i koja je određena za privremeno zadržavanje pješaka koji prelaze preko kolovoza, ili ulaze u vozilo i izlaze iz vozila javnog saobraćaja; |
| 3 | uređena saobraćajna površina namijenjena za kretanje pješaka, u kojoj je dozvoljeno kretanje motornih vozila s posebnim odobrenjem.  |

A,B,C,D,T

Nadležni organ za izdavanje vozačke dozvole oduzeće i poništiti vozačku dozvolu licu koje u toku dvije godine od dana sticanja prava upravljanja motornim vozilom kategorije B sakupi:

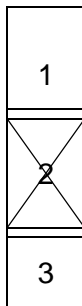
- |   |                       |
|---|-----------------------|
| 1 | četiri kaznena boda;  |
| 2 | šest kaznenih bodova; |
| 3 | pet kaznenih bodova.  |

B,C

Pod izrazom naseljeno mjesto podrazumijeva se:

- |   |   |
|---|---|
| 1 | izgrađen, nastanjen, prostorno i funkcionalno objedinjen dio naseljenog mjesta u kom su javni putevi izgrađeni sa uređenim trotoarom i ivičnjakom pored kojeg se nalazi najmanje sa jedne strane red kuća ili grupa zgrada i čije su granice obilježene saobraćajnim znakom za obilježavanje naselja; |
| 2 | prostorna jedinica u Bosni i Hercegovini koja obuhvata jedno ili više naselja sa područjem koje pripada tom naseljenom mjestu, čiji se naziv i teritorija uređuju posebnim zakonima i čija je teritorija označena saobraćajnim znakom za obilježavanje naseljenih mjesta;                             |
| 3 | prostor na kojem se redovi ili grupe zgrada nalaze s jedne ili s obje strane puta, dajući mu izgled ulice i čije granice određuje nadležni organ za upravljanje putevima saobraćajnim znakovima za obilježavanje naseljenih mjesta.   |

A,B,C,D,T


**Pod izrazom prestrojavanje podrazumijeva se:**

radnja koju je u određenim slučajevima vozač dužan da izvrši zaustavljanjem vozila, smanjivanjem brzine kretanja ili prekidanjem radnje koju izvodi vozilom, i to na način koji ne primorava vozača drugog vozila da naglo mijenja pravac ili brzinu kretanja;

zauzimanje takvog položaja vozilom na saobraćajnoj traci i na takvoj udaljenosti od raskrsnice ili drugog mjesta na putu iz kojeg na bezbjedan način može da se izvede sljedeća dopuštena radnja vozilom (skretanjem, okretanjem, zaustavljanjem i sl.);

prolaženje vozilom pored drugog vozila koje se po istom kolovozu kreće iz suprotnog smjera.

A,B,C,D,T


**Pod izrazom stajalište podrazumijeva se:**

dio površine puta namijenjen za zaustavljanje autobusa, trolejbusa ili tramvaja radi ulaska i izlaska putnika i koje je obilježeno saobraćajnim znakom;

dio površine puta namijenjen za zaustavljanje autobusa, trolejbusa ili tramvaja radi ulaska i izlaska putnika;

dio površine puta namijenjen za zaustavljanje ili parkiranje autobusa, trolejbusa ili tramvaja radi ulaska i izlaska putnika i koje je obilježeno saobraćajnim znakom.

A,B,C,D,T

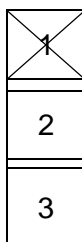
**Pod izrazom trolejbus podrazumijeva se:**

vozilo na šinama s električnim pogonom, namijenjeno za javni prevoz putnika i koje je, radi napajanja motora električnom energijom, vezano za električni vod;

vozilo na šinama s električnim pogonom, namijenjeno za javni prevoz putnika koje, osim sjedišta za vozača, ima više od osam sjedišta i koje, radi napajanja motora električnom energijom, ima kontakt s električnim provodnikom;

motorno vozilo namijenjeno za javni prevoz putnika koje, osim sjedišta za vozača, ima više od osam sjedišta i koje, radi napajanja motora električnom energijom, ima kontakt s električnim provodnikom.

A,B,C,D,T

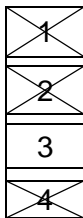
**Znakovi opasnosti:**

služe da se učesnici u saobraćaju na putu upozore na opasnost koja prijete na određenom mjestu, odnosno dijelu puta, i da se obavijeste o prirodi te opasnosti;

stavljaju do znanja učesnicima u saobraćaju na putu zabrane, ograničenja i obaveze kojih moraju da se pridržavaju;

pružaju učesnicima u saobraćaju potrebna obavještenja o putu kojim se kreću i druga obavještenja koja im mogu biti korisna.

A,B,C,D,T

**317****Oznake na kolovozu čine:** (više tačnih odgovora)

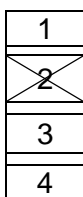
linije;

strelice;

table i stubovi;

natpisi i druge oznake.

A,B,C,D,T

**318****Vozila stara četiri i više godina vlasnici su dužni podvrgnuti redovnom tehničkom pregledu tokom:**


svakog 9 mjeseca, od posljednjeg redovnog tehničkog pregleda;

svakog 12 mjeseca, od posljednjeg redovnog tehničkog pregleda;

svakog 6 mjeseca, od posljednjeg redovnog tehničkog pregleda;

svakog 18 mjeseca, od posljednjeg redovnog tehničkog pregleda;

A,B,C,D

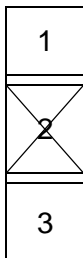
**319****Javni put čini:**

vazdušni prostor iznad kolovoza u visini od sedam metara, računajući od najviše tačke kolovoza;

vazdušni prostor iznad kolovoza u visini od pet metara, računajući od najviše tačke kolovoza;

vazdušni prostor iznad kolovoza u visini od tri metra, računajući od najviše tačke kolovoza.

A,B,C,D,T

**320****Svjetlosni snop dugog svjetla mora osvijetliti:**

najmanje 50 m puta ispred vozila noću, pri normalnoj vidljivosti i to pri podjednakoj opterećenosti motornog vozila na vodoravnoj površini;


najmanje 100 m puta ispred vozila noću, pri normalnoj vidljivosti i to pri podjednakoj opterećenosti motornog vozila na vodoravnoj površini;

najmanje 80 m puta ispred vozila noću, pri normalnoj vidljivosti i to pri podjednakoj opterećenosti motornog vozila na vodoravnoj površini.

A,B,C,D

---

**321** Svjetla za maglu na motornom vozilu moraju biti izvedena i podešena tako da osvijetljeni dio ravnog puta nije duži:


2
3

od 35 m;

od 50 m;

od 40 m.

A,B,C,D

---

**322** Slobodan hod točka upravljača na vozilu ne smije biti veći?


2
3

od 30°;


od 45°;

od 60°.

A,B,C,D,T

---

**323** Brzina kretanja motornih vozila na putu pod normalnim uslovima saobraćaja ne smije se ograničiti saobraćajnim znakom:


2
3

ispod 40 km na čas;

ispod 30 km na čas;

ispod 50 km na čas.

A,B,C,D,T

---

**324** Vozilo koje se kreće po šinama postavljenim na sredini kolovoza može da se pretiče s desne strane:


2
3

ako između njega i desne ivice kolovoza postoji saobraćajna traka;

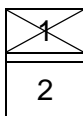
ako između njega i lijeve ivice kolovoza postoji saobraćajna traka;

ako između njega i desne ivice kolovoza postoji zaustavna traka.

A,B,C,D

---

---


**325****Vozač je dužan da tokom upravljanja vozilom:**

obрати pažnju na pješake koji se nalaze na kolovozu ili stupaju na kolovoz;

djelimično obrati pažnju na pješake koji se nalaze na kolovozu ili stupaju na kolovoz.

A,B,C,D,T

---

**326****Vozač koji pri skretanju vozila presijeca biciklističku stazu ili traku koja se pruža uzduž kolovoza kojim se kreće:**

dužan je da propusti bicikl i moped koji se kreće biciklističkom stazom ili trakom u istom ili suprotnom smjeru;

nije dužan da propusti bicikl i moped koji se kreće biciklističkom stazom ili trakom u istom ili suprotnom smjeru;

dužan je da propusti motocikl koji se kreće biciklističkom stazom ili trakom u istom ili suprotnom smjeru.

A,B,C,D

---

**327****Prilikom regulisanja saobraćaja u raskrsnici sa kružnim tokom potrebno je saobraćaj regulisati:**

tako da vozila u kružnom toku imaju prvenstvo prolaza;

tako da vozila u kružnom toku nemaju prvenstvo prolaza.

A,B,C,D,T

---

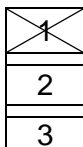
**328****Za vrijeme kretanja kolovozom pješak:**

ne smije da koristi mobilni telefon niti da ima slušalice u oba uha;

pješak smije da koristi mobilni telefon i može da ima slušalice u oba uha.

A,B,C,D,T

---

**329****Na putu koja ima obilježene pješačke prelaze ili posebno izgrađene prelaze, odnosno prolaze za pješake, pri prelaženju puta pješak je dužan da se kreće tim prelazima, odnosno prolazima:**

ako oni nisu od njega udaljeni više od 100 m;

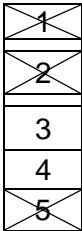
ako oni nisu od njega udaljeni više od 150 m;

ako oni nisu od njega udaljeni više od 200 m.

A,B,C,D,T

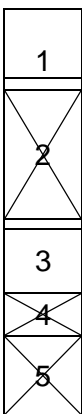
---



**330****Autoputem ne smiju da se kreću: (više tačnih odgovora)**

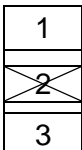
- pješaci;  
 stoka;  
 motocikl;  
 oldtimer;  
 zaprežno vozilo.

A,B,C,D,T

**331****Vozač motornog vozila dužan je da upotrebljava za osvetljavanje puta kratka svjetla umjesto dugih svjetala: (više tačnih odgovora)**

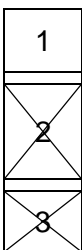
- 1 prije mimoilaženja s drugim vozilom na razdaljini s koje ocijeni da svjetlom svog vozila zaslijepljuje vozača vozila koje mu dolazi u susret, uvijek na razdaljini većoj od 300 m;
- 2 prije mimoilaženja s drugim vozilom na razdaljini s koje ocijeni da svjetlom svog vozila zaslijepljuje vozača vozila koje mu dolazi u susret, a pri mimoilaženju s drugim vozilom-kad vozač tog vozila upali kratka svjetla ili kad naizmjeničnim paljenjem i gašenjem svjetala upozorava da mu duga svjetla smetaju, uvijek na razdaljini manjoj od 200 m;
- 3 za vrijeme kretanja za drugim vozilom da dugim svjetlima svog vozila ne bi zaslijepljivao vozača vozila ispred sebe;
- 4 za vrijeme dok vozilom prolazi pored organizovane kolone ili povorke pješaka;
- 5 za vrijeme kretanja za drugim vozilom na rastojanju od najmanje 100 m da dugim svjetlima svog vozila ne bi zaslijepljivao vozača vozila ispred sebe.

A,B,C,D

**332****Lica koja prvi put steknu vozačku dozvolu obavezna su da:**

- 1 u trajanju od tri godine, obilježe vozilo kojim upravljaju posebnim znakom;
- 2 u trajanju od dvije godine, obilježe vozilo kojim upravljaju posebnim znakom;
- 3 u trajanju od godinu dana, obilježe vozilo kojim upravljaju posebnim znakom.

A,B,C,D,T

**333****Vozač koji se motornim vozilom uključuje u saobraćaj na autoputu dužan je da: (više tačnih odgovora)**

- 1 blagovremeno zauzme položaj vozilom na krajnjoj desnoj saobraćajnoj traci i da što prije pređe na posebnu traku za usporavanje, ako takva traka postoji na ulazu u priključni put;
- 2 koristi posebnu traku za ubrzavanje, kad takva traka postoji u produženju priključnog puta, i da se u saobraćaj na autoputu uključi dajući odgovarajući znak, na način kojim ne ugrožava saobraćaj vozila koja se kreću autoputem;
- 3 propusti vozila koja se kreću autoputem, ako na mjestu na kojem se uključuje u saobraćaj na autoputu ne postoji posebna traka za ubrzavanje.

A,B,C,D

---

**334** U zaštitnom pojasu javnog puta van naselja mogu se postavljati natpisi za reklame, i to pored autoputa i puta rezervisanog za saobraćaj motornih vozila:

- |   |   |
|---|---|
| 1 | na razdaljini od najmanje 10 metara, računajući od krajnje tačke poprečnog profila; |
| 2 | na razdaljini od najmanje 12 metara, računajući od krajnje tačke poprečnog profila; |
| 3 | na razdaljini od najmanje 8 metara, računajući od krajnje tačke poprečnog profila.  |

A,B,C,D,T

---

**335** Gonič stoke, ukoliko stoku goni javnim putem, može biti lice sa navršenih?

- |   |                   |
|---|-------------------|
| 1 | 14 godina života; |
| 2 | 15 godina života; |
| 3 | 16 godina života. |

A,B,C,D,T

---

**336** Stoku koja se kreće javnim putem gonič stoke mora da drži što je moguće bliže?

- |   |                                |
|---|--------------------------------|
| 1 | desnoj ivici kolovoza;         |
| 2 | lijevoj desnoj ivici kolovoza; |
| 3 | središnjoj liniji.             |

A,B,C,D,T

---

**337** Manevarsko svjetlo se automatski isključuje čim brzina kretanja vozila prema naprijed premaši?

- |   |          |
|---|----------|
| 1 | 10 km/h; |
| 2 | 15 km/h; |
| 3 | 20 km/h. |

B,C,D,T


---

**338** Ugaono svjetlo podrazumijeva:

- |   |   |
|---|---|
| 1 | svjetlosni uređaj namijenjen da osigura dodatno osvijetljavanje prostora neposredno uz prednji ugao vozila na strani na koju je, ili se namjerava da bude, vozilo upravljeno;     |
| 2 | svjetlosni uređaj namijenjen da osigura dodatno osvijetljavanje prostora bočno od vozila tokom manevra pri maloj brzini kretanja vozila;  |
| 3 | svjetlosni uređaj namijenjen da osigura dodatno osvijetljavanje prostora kako bi vozaču i putnicima bilo olakšano ulaznje i izlaženje iz vozila, kao i radnje utovara i istovara. |

B,C,D,T

---

**339****Znakom za označavanje sporih vozila moraju biti obilježena:**

motorna vozila i priključna vozila koja se zbog konstrukcijskih razloga, na ravnom putu ne mogu kretati brzinom većom od 30 km/h;

motorna vozila i priključna vozila koja se zbog konstrukcijskih razloga, na ravnom putu ne mogu kretati brzinom većom od 40 km/h;

motorna vozila i priključna vozila koja se zbog konstrukcijskih razloga, na ravnom putu ne mogu kretati brzinom većom od 50 km/h.

**C**

---

**340****Izdata vam je vozačka dozvola za D1 podkategoriju. Kojim motornim vozilima imate pravo upravljati?**

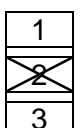
motornim vozilima koja služe za prevoz lica i koja, osim sjedišta za vozača, imaju više od osam, a ne više od šesnaest sjedišta;

motornim vozilima za prevoz tereta čija je najveća dozvoljena masa veća od 3.500 kg, a manja od 7.500 kg;

motornim vozilima za prevoz tereta čija je najveća dozvoljena masa veća od 7.500 kg.

**D**

---

**341****Najmanja dopuštena dubina kanala na gaznoj površini pneumatika za autobuse i teretna vozila je:**

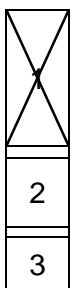
1 mm;

2 mm;

1.6 mm.

**C,D**

---

**342****Izdata vam je vozačka dozvola za C1E podkategoriju. Kojim vozilima imate pravo upravljati?**

skupovima vozila čija se vučna vozila ubrajaju u podkategoriju C1, a priključna vozila imaju najveću dozvoljenu masu veću od 750 kg, s tim da najveća dozvoljena masa skupa vozila ne prelazi 12.000 kg i da najveća dozvoljena masa priključnog vozila ne prelazi masu neopterećenog vučnog vozila;

skupovima vozila čija se vučna vozila ubrajaju u kategoriju C, a priključna vozila imaju najveću dozvoljenu masu veću od 750 kg;

motornim vozilima za prevoz tereta čija je najveća dozvoljena masa veća od 7.500 kg.

**C**

---

---

**343****U slučaju sticanja kaznenih bodova, kazna se izriče:**

<input checked="" type="checkbox"/>
2
3

za prekršaj koji nosi veći broj kaznenih bodova;

za prekršaj koji nosi manji broj kaznenih bodova;

za prekršaj koji nosi najmanji broj kaznenih bodova.

A,B,C,D,T

---

**344****Vozački ispit iz upravljanja motornim vozilom za vozača kategorije B polaže se:**

<input checked="" type="checkbox"/>
2
3

na javnom putu u gradu;

na poligonu i na javnom putu u gradu;

samo na poligonu.

B

---

**345****Aparat za gašenje požara postavljen na vidljivom mjestu, tako da se u slučaju opasnosti može upotrijebiti, moraju imati:**

1
<input checked="" type="checkbox"/>
<input checked="" type="checkbox"/>

putnička motorna vozila;

vozila za javni prevoz, teretna motorna i priključna vozila;

putnička motorna vozila opremljena za korišćenje alternativnih goriva (LPG, CNG,).

B,C,D

---

**346****Koja je najveća dozvoljena količina alkohola u krvi za vozače motornih vozila kategorije C, CE, D i DE i vozače podkategorije C1, C1E i D1 i D1E za vrijeme upravljanja vozilom te kategorije i podkategorije?**

<input checked="" type="checkbox"/>
2
3

0,0 g/kg;

0,3 g/kg;

0,5 g/kg.

C,D

---

**347** Koja je najveća dozvoljena količina alkohola u krvi za vozače vozila kojim se obavlja javni prevoz-za vrijeme obavljanja javnog prevoza tim vozilom?

- |                                     |           |
|-------------------------------------|-----------|
| <input checked="" type="checkbox"/> | 0,0 g/kg; |
| 2                                   | 0,3 g/kg; |
| 3                                   | 0,5 g/kg. |

C,D

---

**348** Koja je najveća dozvoljena količina alkohola u krvi za kandidate za vozača za vrijeme osposobljavanja u praktičnom upravljanju vozilom?

- |                                     |           |
|-------------------------------------|-----------|
| <input checked="" type="checkbox"/> | 0,0 g/kg; |
| 2                                   | 0,3 g/kg; |
| 3                                   | 0,5 g/kg. |

A,B,C,D

---

**349** Zaprežna vozila koja se kreću jedno iza drugog moraju držati odstojanje?

- |                                     |                 |
|-------------------------------------|-----------------|
| <input checked="" type="checkbox"/> | najmanje 50 m;  |
| 2                                   | najmanje 100 m; |
| 3                                   | najmanje 150 m. |

B,C,D

---

**350** Zaprežnim vozilom na javnom putu može upravljati lice?

- |                                     |                                |
|-------------------------------------|--------------------------------|
| <input checked="" type="checkbox"/> | sa navršениh 16 godina života; |
| 2                                   | sa navršениh 14 godina života; |
| 3                                   | sa navršениh 15 godina života. |

B,C,D

---

---

**351****Vozač u putničkom automobilu smije prevoziti dijete na zadnjem sjedištu:**

(više tačnih odgovora)

1
<input checked="" type="checkbox"/>
<input checked="" type="checkbox"/>
<input checked="" type="checkbox"/>
<input checked="" type="checkbox"/>

koje je starije od tri a mlađe od 10 godine;

koje je starije od pet a mlađe od 12 godine;

koje sjedi na posebnom podmetaču prilagođenom njegovoj visini koji omogućava upotrebu sigurnosnog pojasa;

kada je ispravno vezano sigurnosnim pojasom, ili je ispravno vezano u sigurnosnoj sjedalici koja je za sjedište pričvršćena pomoću sigurnosnog pojasa u tri tačke vezivanja ili posebnim kopčama u vozilu.

B,C

---

**352****Tricikl je:**

<input checked="" type="checkbox"/>
2

je motorno vozilo na tri točka simetrično postavljena u odnosu na srednju uzdužnu osu, s toplotnim motorom čija je radna zapremina veća od 50 cm<sup>3</sup> ili čija je konstrukcijski najveća brzina veća od 45 km/h;je motorno vozilo na tri točka simetrično postavljena u odnosu na srednju uzdužnu osu, s toplotnim motorom čija radna zapremina nije veća od 50 cm<sup>3</sup> ili čija konstrukcijski najveća brzina nije veća od 45 km/h.

A

---

**353****Zemljani put je:**

<input checked="" type="checkbox"/>
2
3

je put bez izgrađenog kolovoza i kolovoznog zastora, pa i kad na priključku na javni put ima izgrađen kolovoz;

je put koji je izgrađen od dva sloja tucanika u uvaljanom stanju;

je površina koja se koristi za saobraćaj i koji je dostupan većem broju korisnika (seoski, poljski i šumski putevi).

A,B,C,D,T

---

**354****U putničkom automobilu na prednjem sjedištu do vozača ne smije se prevoziti lice:**

(više tačnih odgovora)

<input checked="" type="checkbox"/>
2
<input checked="" type="checkbox"/>

koje je očigledno pod uticajem alkohola ili opojnih sredstava;

starije od 18 godina;

mlađe od 12 godina.

B,C

---

**355****Vozač ne smije kretanjem vozilom unazad:** (više točnih odgovora)

- 
- 
- 
- 

ulaziti u nepreglednu raskrnicu;

kretati se putem na prelazu preko željezničke pruge u istom nivou;

na kratkom dijelu puta;

voziti na prevojima i u krivinama u kojima je preglednost nedovoljna.

A,B,C,D,T

---

**356****Koja je najveća dozvoljena brzina kretanja na putevima za autobuse i autobuse s lakom prikolicom, kao i za teretna motorna vozila čija je najveća dozvoljena masa veća od 3.500 kg a manja od 7.500 kg?**

- 
- 
- 

60 km/h;

70 km/h;

80 km/h.

C,D

---

**357****Sedmično vrijeme vožnje je:**

- 
- 

je ukupno akumulirano vrijeme vožnje tokom pet radnih dana;

je ukupno akumulirano vrijeme vožnje tokom jedne sedmice.

C,D

---

**358****Zaštitne žičane ograde postavljaju se uz:**(više tačnih odgovora)

- 
- 
- 

autoputeve;

brze puteve;

puteve u naselju.

A,B,C,D,T

---

**359****Kako su dužni postupati pješaci ako im u susret dolazi vozilo pod pratnjom?**

- 
- 

nesmetano nastaviti kretanje;

dužni su se skloniti s kolovoza dok to vozilo prođe.

B,C

---

**360****Kolika je najveća dozvoljena širina putničkih automobila?**

- |                                     |         |
|-------------------------------------|---------|
| 1                                   | 2,30 m; |
| <input checked="" type="checkbox"/> | 2,50 m. |
| 3                                   | 2,70 m. |

**B**

---

**361****U vertikalnu saobraćajnu signalizaciju spadaju: (više tačnih odgovora):**

- |                                     |                                       |
|-------------------------------------|---------------------------------------|
| <input checked="" type="checkbox"/> | znakovi opasnosti;                    |
| <input checked="" type="checkbox"/> | znakovi obavještenja;                 |
| <input checked="" type="checkbox"/> | dopunske table;                       |
| 4                                   | oprema za označavanje ivice kolovoza. |

**A,B,C,D,T**

---

**362****Natpisi na znakovima obavještenja se, u pravilu, ispisuju:**

- |                                     |                  |
|-------------------------------------|------------------|
| 1                                   | velikim slovima; |
| <input checked="" type="checkbox"/> | malim slovima.   |

**A,B,C,D,T**

---

**363****Boja poledine podloge znaka vertikalne saobraćajne signalizacije mora biti: (više tačnih odgovora)**

- |                                     |   |
|-------------------------------------|---|
| <input checked="" type="checkbox"/> | siva;   |
| <input checked="" type="checkbox"/> | bez sjaja, kako bi se spriječilo odvratanje pažnje i zaslijepljivanje vozača; |
| 3                                   | bijela.   |

**A,B,C,D,T**

---

**364****Saobraćajni znakovi u naseljima smješteni uz kolovoz postavljaju se na visini:**

- |                                     |                 |
|-------------------------------------|-----------------|
| 1                                   | 0.40 do 2.20 m; |
| 2                                   | 0.30 do 2.30 m; |
| <input checked="" type="checkbox"/> | 0.30 do 2.20 m. |

**A,B,C,D,T**

---



---

**365****Osnovna boja znakova obavještenja za vođenje saobraćaja na autoputevima je:**

zelena sa simbolima i natpisima bijele boje;

plava sa simbolima i natpisima bijele boje.

A,B,C,D

---

**366****Saobraćajna ogledala mogu biti** (više tačnih odgovora):

oblika jednakostraničnog trougla;

okruglog oblika;

pravougaonog oblika.

A,B,C,D,T

---

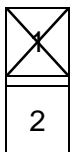
**367****Oznake na kolovozu ne smiju biti više od:**

0.5 cm;

0.6 cm.

A,B,C,D,T

---


**368****Znakovi izričitih naredbi:**

stavljaju do znanja učesnicima u saobraćaju na putu zabrane, ograničenja i obaveze kojih se moraju pridržavati;

pružaju učesnicima u saobraćaju potrebna obavještenja o putu kojim se kreću i druga obavještenja koja im mogu biti korisna.

A,B,C,D,T

---

**369****Za regulisanje saobraćaja upotrebljavaju se uređaji kojima se daju svjetlosni saobraćajni znakovi:**

crvene boje;

žute i zelene boje;

sve navedeno.

A,B,C,D,T

---

**370** Na uređajima za davanje svjetlosnih saobraćajnih znakova trobojnim svjetlima crveno i zeleno svjetlo ne smiju biti upaljeni istovremeno:

- 1 ne;  
 2 da.

A,B,C,D,T

---

**371** Ako je uređaj za davanje svjetlosnih saobraćajnih znakova postavljen iznad saobraćajne trake, svjetla mogu biti postavljena po horizontalnoj osi, jedno pored drugog:

- 1 zeleno lijevo, žuto u sredini, a crveno desno;  
 2 crveno lijevo, zeleno u sredini, a žuto desno;  
 3 crveno lijevo, žuto u sredini, a zeleno desno.

A,B,C,D,T

---

**372** Da li oznake na kolovozu mogu biti postavljene uz druge saobraćajne znakove?

- 1 ne;  
 2 da.

A,B,C,D,T

---

**373** Značenje simbola svjetlosnih saobraćajnih znakova u tehnologiji optičkih vlakana, svjetlosnih polja, svjetlećih dioda (LED) i tekućih kristala (LCD) mora biti u potpunosti čitljivo na udaljenosti:

- 1 većoj od 200 m;  
 2 većoj od 180 m;  
 3 manjoj od 150 m.

A,B,C,D,T

---

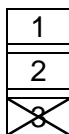
**374** Znak „Andrejin Krst“ mora biti uočljiv sa udaljenosti od najmanje:

- 1 60 m;  
 2 50 m;  
 3 75 m.

A,B,C,D,T

---

---

**375****Osnovna boja znakova izričitih naredbi-znakova obaveze je:**

bijela;  
crvena;  
plava.

A,B,C,D,T

---

**376****Svjetlosni znakovi kojima se najavljuje približavanje voza na prelazu puta preko željezničke pruge u istom nivou daju se naizmjeničnim paljenjem:**

dva crvena trepćuća svjetla koja imaju oblik kruga;  
dva žuta trepćuća svjetla koja imaju oblik kruga.

A,B,C,D,T

---

**377****Na prelazima puta preko željezničke pruge u istom nivou branici ili polubranici moraju biti naizmjenično obojeni:**

crvenom i žutom bojom;  
crvenom bojom.

A,B,C,D,T

---

**378****U slučaju vanrednog ljekarskog pregleda, pregled se obavlja na trošak:**

lica upućenog na vanredni ljekarski pregled;  
ustanove koja je primila lice na vanredni ljekarski pregled.

B,C,D

---

**379****Nadležni organ unutrašnjih poslova dužan je izaći na mjesto saobraćajne nezgode u kojoj je nastala manja materijalna šteta:**

ako to zahtijeva jedan od učesnika saobraćajne nezgode;  
uvijek.

A,B,C,D,T

---

**380****Osnovna boja znaka „zabrana parkiranja“ je:**

crvena;  
plava.

A,B,C,D,T

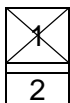
---

**381****Znakovi obavještenja imaju oblik (više tačnih odgovora):**

kvadrata;  
pravougla ili kruga;  
jednakostraničnog trougla.

A,B,C,D,T

---

**382****Vozač koji je u tolikoj mjeri umoran ili bolestan:**

ne smije upravljati vozilom u saobraćaju na putu;  
smije upravljati vozilom uz prisustvo drugog lica.

A,B,C,D,T

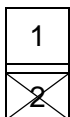
---

**383****Za vrijeme osposobljavanja kandidata iz upravljanja motornim vozilom instruktor vožnje kod sebe mora imati:**

vozačku dozvolu;  
dozvolu instruktora vožnje i dnevnik rada instruktora vožnje;  
ljekarsko uvjerenje.

A,B,C,D

---

**384****Oznake na kolovozu su:**

žute boje;  
bijeke boje.

A,B,C,D,T

---

---

**385****Koja su alternativna goriva koja se koriste za pogon motornih vozila?**

(više tačnih odgovora)

<input type="checkbox"/>
<input checked="" type="checkbox"/>
<input type="checkbox"/>
3

tečni naftni gas (propan butan) koji nosi skraćeni naziv LPG;

komprimirani prirodni gas sa uobičajenim skraćenim nazivom CNG;

nafta (benzin i dizel).

B,C,D

---

**386****Na mostovima, u tunelima, galerijama i drugim objektima na javnom putu širina kolovoza ne smije biti manja od:**

<input type="checkbox"/>
<input checked="" type="checkbox"/>
3

širine kolovoza na javnom putu;

6 m;

5 m.

A,B,C,D,T

---

**387****Izlaz (izlazni otvor) ispusne cijevi uređaja za odvod i ispuštanje ispusnih gasova ne smije biti usmjeren:**

<input type="checkbox"/>
<input checked="" type="checkbox"/>
2

u desnu stranu motornog vozila;

u lijevu stranu motornog vozila.

B,C,D,T

---

**388****Kolika je najmanja namjenjena slobodna površina za jedno mjesto za stajanje, u autobusima, trolejbusima i priključnim vozilima kojima se prevoze putnici u stojećem stavu?**

<input type="checkbox"/>
<input checked="" type="checkbox"/>
3

0,15 m<sup>2</sup>, a za gradske autobuse 0,125 m<sup>2</sup>;0,18 m<sup>2</sup>0,20 m<sup>2</sup>

D

---

**389** Uređaj za davanje zvučnih signala ugrađen na motorna vozila koja spadaju u kategoriju/podkategoriju vozačke dozvole C i C1, mora proizvoditi zvukove jačine najmanje:

- |                          |           |
|--------------------------|-----------|
| <input type="checkbox"/> | 80 dB(A); |
| <input type="checkbox"/> | 76 dB(A); |
| <input type="checkbox"/> | 64 dB(A); |

C

---

**390** Na putu s kolovozom za saobraćaj vozila u oba smjera na kojem postoje tri saobraćajne trake:

- |                          |  |
|--------------------------|--|
| <input type="checkbox"/> | vozač ne smije vozilom da se kreće saobraćajnom trakom koja se nalazi uz lijevu ivicu puta u smjeru kretanja vozila; |
| <input type="checkbox"/> | vozač smije vozilom da se kreće saobraćajnom trakom koja se nalazi uz lijevu ivicu puta u smjeru kretanja vozila;    |
| <input type="checkbox"/> | vozač ne smije vozilom da se kreće saobraćajnom trakom koja se nalazi uz desnu ivicu puta u smjeru kretanja vozila.  |

A,B,C,D

---

**391** Kada kandidat ima pravo prigovora na način ispitivanja i ponašanja ispitivača za vrijeme ispita?

- |                          |   |
|--------------------------|---|
| <input type="checkbox"/> | nema pravo prigovora;   |
| <input type="checkbox"/> | odmah po završetku ispita, što evidentira ispitivač, o čemu odlučuje predsjednik Komisije u roku od tri dana od završetka ispita. |

A,B,C,D

---

**392** Ispitivač će udaljiti sa ispita kandidata i smatrat će se da kandidat nije položio ispit ukoliko kandidat: (više tačnih odgovora)

- |                          |  |
|--------------------------|--|
| <input type="checkbox"/> | omete rad ispitivača;                                      |
| <input type="checkbox"/> | oštećuje imovinu ili materijalna dobra;                    |
| <input type="checkbox"/> | koristi nedopuštena sredstva i na drugi način ometa ispit; |
| <input type="checkbox"/> | koristi dopuštena sredstva.                                |

A,B,C,D

---

**393****Pod zimskim uslovima na putu podrazumijeva se situacija kada:**  
(više tačnih odgovora)

<input checked="" type="checkbox"/>
<input type="checkbox"/>
<input checked="" type="checkbox"/>
<input checked="" type="checkbox"/>
<input type="checkbox"/>

- 1 pada snijeg i nalazi se na kolovozu;  
2 na kolovozu nema ugaženog i zaleđenog snijega;  
3 pada kiša i ledi se na kolovozu;  
4 je kolovoz zaleđen;  
5 kolovoz nije zaleđen.

A,B,C,D,T

---

**394****Koliko se kompleta evropskog izvještaja koristi za slučaj saobraćajne nezgode u kojoj su učestvovala dva vozila?**

<input type="checkbox"/>
<input checked="" type="checkbox"/>

- 1 dva ili više kompleta evropskog izvještaja;  
2 jedan komplet evropskog izvještaja.

A,B,C,D,T

---

**395****Šta služi kao dokaz o utvrđenoj brzini kretanja vozila?** (više tačnih odgovora)

<input checked="" type="checkbox"/>
<input checked="" type="checkbox"/>
<input checked="" type="checkbox"/>
<input type="checkbox"/>

- 1 fotografija i videozapis s podacima o utvrđenoj brzini kretanja vozila;  
2 tahografski zapis;  
3 zapisnik o očitavanju na radaru.  
4 neposredno praćenje vozila.

A,B,C,D,T

---

**396****Pod kojim uslovima u putničkom vozilu vozač može prevoziti dijete mlađe od dvije godine na prednjem sjedištu vozila?** (više tačnih odgovora)

<input checked="" type="checkbox"/>
<input checked="" type="checkbox"/>
<input checked="" type="checkbox"/>
<input type="checkbox"/>

- 1 ako vozilo nema vazdušni jastuk za suvozača ili je vazdušni jastuk za vozača isključen;  
2 ako se dijete prevozi u sigurnosnoj sjedalici postavljenoj suprotno smjeru kretanja vozila;  
3 ako je sigurnosna sjedalica pričvršćena za sjedište pomoću sigurnosnog pojasa u tri tačke vezivanja ili posebnim kopčama u vozilu;  
4 ako vozač ima više od 21 godinu starosti.

B,C

---

**397****Noćno vrijeme označava razdoblje između:**

- |              |                |
|--------------|----------------|
| 1            | 23:00 i 06:00; |
| <del>2</del> | 00:00 i 05:00. |

C,D

---

**398****Vrste kartica za digitalne tahografe su: (više tačnih odgovora)**

- |              |                           |
|--------------|---------------------------|
| <del>1</del> | kartica vozača;           |
| <del>2</del> | kartica prevoznika;       |
| <del>3</del> | kartica nadzornog organa; |
| <del>4</del> | kartica radionice;        |
| 5            | kartica ispitivača.       |

C,D

---

**399****Instruktor vožnje za vrijeme osposobljavanja kandidata obavlja obuku:**

- |              |                                     |
|--------------|-------------------------------------|
| 1            | sa više kandidata u vozilu;         |
| <del>2</del> | samo sa jednim kandidatom u vozilu. |

B,C,D

---

**400****Da li je dozvoljeno da vozilo autoškole bude opremljeno video kamerom?**

- |              |     |
|--------------|-----|
| 1            | da; |
| <del>2</del> | ne. |

B,C,D

---



---

**401**

**Za vrijeme osposobljavanja kandidata za vozača iz upravljanja motornim vozilom, kandidat za vozača pored identifikacionih dokumenata kod sebe mora imati i na zahtjev ovlašćenog lica pokazati sljedeću dokumentaciju: (više tačnih odgovora)**

<input checked="" type="checkbox"/>
2
<input checked="" type="checkbox"/>
4
<input checked="" type="checkbox"/>

ljekarsko uvjerenje;

potvrdu o završenom osposobljavanju iz upravljanja motornim vozilom;

uvjerenje o položenom ispitu iz pružanja prve pomoći;

potvrdu o završenom osposobljavanju iz poznavanja propisa o bezbjednosti saobraćaja na putevima;

uvjerenje o položenom ispitu iz poznavanja propisa o bezbjednosti saobraćaja na putevima za onu kategoriju za koju se kandidat osposobljava.

A,B,C,D

---

**402**

**Obuka iz teoretskog dijela prve pomoći traje:**

1
<input checked="" type="checkbox"/>

tri školska časa;

šest školskih časova.

A,B,C,D,T

---

**403**

**Svjetla za maglu koja se nalaze na prednju strani vozila moraju biti:**

1
<input checked="" type="checkbox"/>

crvene boje;

bijele ili žute boje.

B,C,D

---

**404**

**Koja svjetla moraju biti upaljena za vrijeme vožnje kroz tunel?**

<input checked="" type="checkbox"/>
2
3

kratka svjetla;

duga svjetla;

svjetla za maglu.

A,B,C,D,T

---

---

**405** Koja upozorenja vozačima daju zvučne ili vibracijske trake?

- 1 na potrebu povećanja brzine kretanja vozila;
- 2 na potrebu smanjenja brzine kretanja vozila.

A,B,C,D,T

---

**406** Kada je organizator dužan prekinuti održavanje sportske ili druge priredbe, odnosno aktivnosti na putu? (više tačnih odgovora)

- 1 kada su ugroženi učesnici ili gledaoci;
- 2 kada nije narušen javni red i mir;
- 3 kada nastanu okolnosti zbog kojih priredba, odnosno aktivnosti ne bi bile odobrene;
- 4 kada organizator ne provodi određene mjere osiguranja;
- 5 kada nisu ugroženi učesnici ili gledaoci.

A,B,C,D,T

---

**407** Koliko maksimalno kandidata može biti u jednoj grupi za vrijeme trajanja nastave iz poznavanja propisa o bezbjednosti saobraćaja na putevima?

- 1 najviše 20 kandidata u jednoj grupi;
- 2 najviše 30 kandidata u jednoj grupi;
- 3 najviše 25 kandidata u jednoj grupi.

A,B,C,D

---

**408** Koliko iz opravdanih razloga mogu odsustovati kandidati za vozača motornih vozila koji se osposobljavaju iz poznavanja propisa o bezbjednosti saobraćaja na putevima za kategorije A, B, C i podkategorije C1?

- 1 najviše dva nastavna časa;
- 2 najviše osam nastavnih časova;
- 3 najviše četiri nastavna časa.

A,B,C

---

**409 Mobilni radnik je:**

- |   |  |
|---|--|
| 1 | je lice koje upravlja vozilom ili koje se nalazi u vozilu kako bi prema potrebi bilo raspoloživo za upravljanje vozilom;   |
| 2 | je radnik koji čini dio prevoznog osoblja, uključujući i pripravnike i naučnike, koji rade za preduzeće koje obavlja komercijalne prevoze, odnosno prevoze za vlastite potrebe putnika ili roba u drumskom saobraćaju; |
| 3 | je fizičko ili pravno lice koje obavlja djelatnost javnog drumskog prevoza ili prevoz za vlastite potrebe.   |

C,D

---

**410 Ako se vozilom prevozi teret u kombinaciji koja se sastoji od vučnog vozila i jednoosovinske prikolice, pod dužinom vozila podrazumijeva se:**

- |   |   |
|---|---|
| 1 | dužina vučnog vozila;                                   |
| 2 | dužina jednoosovinske prikolice;                        |
| 3 | ukupna dužina vučnog vozila i jednoosovinske prikolice. |

C

---

**411 Koje radnje nisu dozvoljene za vrijeme kretanja vozila? (više tačnih odgovora)**

- |   |  |
|---|--|
| 1 | uskakati u vozilo i iskakati iz vozila;  |
| 2 | otvarati vrata, naginjati se van vozila;   |
| 3 | isturati dijelove tijela iz vozila i voziti se na vanjskim dijelovima vozila ili na traktorskim prikolicama. |
| 4 | slušanje muzike.   |

B,C,D,T

---

**412 Da li se na točkove u toku zimskih uslova na kolovozu smiju postaviti lanci za snijeg?**

- |   |  |
|---|--|
| 1 | da;  |
| 2 | ne;  |
| 3 | da ukoliko visina sniježnog prekrivača prelazi 5 cm. |

B,C,D

---

---

**413** Koliko mora biti ugrađenih svjetala na prednjoj strani motokultivatora?

<input type="checkbox"/>
<input type="checkbox"/>
2

- najmanje jedno svjetlo koje emituje svjetlost bijele boje;  
najmanje dva svjetla koja emituju svjetlost žute boje.

T

---

**414** U kojem godišnjem periodu je obavezno posjedovanje zimske opreme vozila?

<input type="checkbox"/>
<input type="checkbox"/>
2

- od 1. novembra tekuće do 1. aprila naredne godine;  
od 15. novembra tekuće do 15. aprila naredne godine.

B,C,D

---

**415** Koji postupak je potrebno provesti u slučaju nestanka vozačke dozvole?  
(više tačnih odgovora)

<input type="checkbox"/>
<input type="checkbox"/>
2
<input type="checkbox"/>

- nestanak vozačke dozvole prijavljuje se nadležnom organu;  
podnijeti zahtjev za zamjenu nestale vozačke dozvole;  
nestanak vozačke dozvole objavljuje se u "Službenom glasniku BiH" ili službenim glasilima entiteta i Brčko distrikta Bosne i Hercegovine.

A,B,C,D

---

**416** Sa koje strane puta i u kojem smjeru se postavljaju saobraćajni znakovi?

<input type="checkbox"/>
<input type="checkbox"/>
2
<input type="checkbox"/>
3

- sa desne strane puta uz kolovoz u smjeru kretanja vozila;  
sa lijeve strane puta uz kolovoz u smjeru kretanja vozila;  
sa desne strane puta uz kolovoz u smjeru suprotnom od smjera kretanja vozila.

A,B,C,D,T

---

**417** Koliko se najviše saobraćajnih znakova može postaviti na isti stub?

- |                                     |                           |
|-------------------------------------|---------------------------|
| 1                                   | tri saobraćajna znaka;    |
| 2                                   | četiri saobraćajna znaka; |
| <input checked="" type="checkbox"/> | dva saobraćajna znaka.    |

A,B,C,D,T

---

**418** Poluprečnik kruga znaka obavještenja u tunelima i galerijama iznosi:

- |                                     |        |
|-------------------------------------|--------|
| 1                                   | 50 cm; |
| <input checked="" type="checkbox"/> | 60 cm; |
|                                     | 70 cm. |

A,B,C,D,T

---

**419** Oznake i brojevi na registarskim tablicama za motorna i priključna vozila i probnim tablicama ispisuju se slovima:

- |                                     |  |
|-------------------------------------|--|
| <input checked="" type="checkbox"/> | A, E, J, K, M, T i arapskim brojevima; |
| 2                                   | A, E, B, C, T, J i arapskim brojevima  |
| 3                                   | A, E, P, N, S, J i arapskim brojevima  |

A,B,C,D,T

---

**420** Koja je najveća dozvoljena brzina kretanja za autobuse s priključnim vozilom za prevoz lica?

- |                                     |          |
|-------------------------------------|----------|
| 1                                   | 70 km/h; |
| <input checked="" type="checkbox"/> | 50 km/h; |
| 3                                   | 60 km/h. |

D

---

**421****Koja je najveća dozvoljena brzina kretanja za trolejbuse?**

- |                                     |          |
|-------------------------------------|----------|
| <input checked="" type="checkbox"/> | 50 km/h; |
| <input type="checkbox"/>            | 70 km/h; |
| <input type="checkbox"/>            | 60 km/h. |

D

---

**422****Koja je najveća dozvoljena brzina kretanja za gradske autobuse?**

- |                                     |          |
|-------------------------------------|----------|
| <input type="checkbox"/>            | 70 km/h; |
| <input type="checkbox"/>            | 60 km/h; |
| <input checked="" type="checkbox"/> | 50 km/h. |

D

---

**423****Koja je najveća dozvoljena brzina kretanja za teretna motorna vozila koja vuku dva priključna vozila?**

- |                                     |          |
|-------------------------------------|----------|
| <input type="checkbox"/>            | 70 km/h; |
| <input checked="" type="checkbox"/> | 50 km/h; |
| <input type="checkbox"/>            | 60 km/h. |

C

---

**424****Koja je najveća dozvoljena brzina kretanja za autobuse koji osim ugrađenih sjedišta imaju i određena mjesta za stajanje?**

- |                                     |          |
|-------------------------------------|----------|
| <input type="checkbox"/>            | 70 km/h; |
| <input checked="" type="checkbox"/> | 50 km/h; |
| <input type="checkbox"/>            | 60 km/h. |

D

---

**425****Koja je najveća dozvoljena brzina kretanja za turistički voz?**

- |                                     |          |
|-------------------------------------|----------|
| <input type="checkbox"/>            | 30 km/h; |
| <input checked="" type="checkbox"/> | 20 km/h; |
| <input type="checkbox"/>            | 40 km/h. |

D

---

**426****Koja je najveća dozvoljena brzina kretanja za radnu mašinu?**

<input type="checkbox"/>
<input type="checkbox"/>
<input type="checkbox"/>

20 km/h;

30 km/h;

40 km/h.

T

---

**427****Na dijelu puta s velikim uzdužnim nagibom na kojem je mimoilaženje vozila nemoguće ili je veoma otežano:**

<input type="checkbox"/>
<input type="checkbox"/>
<input type="checkbox"/>

vozač vozila koje se kreće niz nagib nastavlja kretanje bez zaustavljanja, bez obzira da li drugo vozilo ide u susret uz nagib;

vozač vozila koje se kreće niz nagib dužan je da zaustavi svoje vozilo na pogodnom mjestu, ako primijeti da mu drugo vozilo ide u susret uz nagib;

vozač vozila koje se kreće niz nagib nije dužan da zaustavi svoje vozilo na pogodnom mjestu, ako primijeti da mu drugo vozilo ide u susret uz nagib;

B,C,D

---

**428****Na dijelu puta s velikim uzdužnim nagibom na kojem je mimoilaženje vozila nemoguće ili je veoma otežano, kad se jedno od vozila koja se mimoilaze mora kretati unazad, kretaće se unazad: (više tačnih odgovora)**

<input type="checkbox"/>
<input type="checkbox"/>
<input type="checkbox"/>

teretno motorno vozilo koje se susrelo s autobusom;

autobus koji se susreo sa teretnim motornim vozilom;

svako vozilo koje se susrelo s vozilom koje vuče priključno vozilo.

B,C,D

---

**429****Da li je dozvoljeno izvršiti radnju preticanja ili obilaženja saobraćajnom trakom koja je namijenjena za prinudno zaustavljanje vozila?**

<input type="checkbox"/>
<input type="checkbox"/>

da;

ne.

A,B,C,D,T

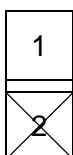
---

**430****Ako se dva ili više vozača bicikala ili mopeda kreću u grupi:**

dužni su da se kreću jedan za drugim;  
nisu dužni da se kreću jedan za drugim.

A

---

**431****Ako na putu postoji posebno uređena biciklistička staza, vozač mopeda ako je pokretan snagom vozača:**

nije dužan da se kreće desnom biciklističkom stazom u odnosu na smjer kretanja saobraćaja.

mora da se kreće desnom biciklističkom stazom u odnosu na smjer kretanja saobraćaja.

A

---

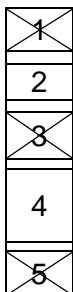
**432****Na biciklističkim stazama uređenim i obilježenim za saobraćaj bicikla i mopeda u oba smjera:**

vozila moraju da se kreću desnom stranom u smjeru kretanja vozila;

vozila ne moraju da se kreću desnom stranom u smjeru kretanja vozila.

A

---

**433****Vozač bicikla, mopeda, lakog motocikla i motocikla mora da upravlja vozilom na način kojim se ne umanjuje stabilnost vozila i ne ometaju drugi učesnici u saobraćaju, a naročito ne smije da: (više tačnih odgovora)**

ispušta upravljač iz ruku, osim kad najavljuje promjenu smjera kretanja;

se kreće što bliže desnoj ivici kolovoza;

sklanja noge sa pedala;

kreće po onim saobraćajnim površinama po kojima je kretanje takvim vozilima dozvoljeno.

upotrebljava na oba uha slušalice za audio-uređaje.

A



---

**434**

**Pod kojim uslovima vozač bicikla stariji od 18 godina može na javnom putu biciklom prevoziti dijete do osam godina starosti:** (više tačnih odgovora)

<input type="checkbox"/>
<input type="checkbox"/>
<input type="checkbox"/>

ako dijete na glavi nosi zakopčanu zaštitnu kacigu;

ako dijete na glavi ne nosi zakopčanu zaštitnu kacigu;

ako je na biciklu ugrađeno posebno sjedište, prilagođeno uzrastu djeteta i čvrsto spojeno sa biciklom.

A,B,C

---

**435**

**Da li se zaprežno vozilo smije ostavljati bez nadzora na putu ili uz put?**

<input type="checkbox"/>
<input type="checkbox"/>

ne;

da.

B,C

---

**436**

**Lica koja se voze zaprežnim vozilom dok je vozilo u pokretu ne smiju:** (više tačnih odgovora)

<input type="checkbox"/>
<input type="checkbox"/>
<input type="checkbox"/>
<input type="checkbox"/>
<input type="checkbox"/>

da stoje na vozilu;

sjediti na platou vozila sa strane;

da sjede na stranicama vozila;

se voziti zaprežnim vozilom;

da se nalaze na rudi vozila dok je vozilo u pokretu.

B,C

---

**437**

**Da li vozač zaprežnog vozila mora, dok vozi ili vodi zapregu, u periodu od prvog sumraka do potpunog svanuća, kao i danju u slučaju smanjene vidljivosti, nositi i svjetloodbojni prsluk?**

<input type="checkbox"/>
<input type="checkbox"/>

da;

ne.

B,C,

---

---

**438**

Da li je vozač koji se kreće mokrim kolovozom u naselju dužan da prilagodi brzinu kretanja vozila tako da izbjegne prskanje pješaka koji se kreću ivicom kolovoza ili trotoara?

1
<input checked="" type="checkbox"/>

ne;

da.

A,B,C,D,T

---

**439**

Da li se na vozila službe hitne pomoći i vatrogasna vozila, kada posebnim uređajima daju svjetlosne i zvučne znakove primjenju odredbe o ograničenju brzine?

<input checked="" type="checkbox"/>
2
3

ne, pod uslovom da ne ugrožavaju bezbjednost drugih učesnika u saobraćaju;

da;

ne.

A,B,C,D,T

---

**440**

Da li se na vozila službe hitne pomoći i vatrogasna vozila, kada posebnim uređajima daju svjetlosne i zvučne znakove primjenju odredbe o zabrani preticanja i obilaženja kolone vozila i zabrani presijecanja kolone pješaka?

1
<input checked="" type="checkbox"/>
3

da;

ne, pod uslovom da ne ugrožavaju bezbjednost drugih učesnika u saobraćaju;

ne.

A,B,C,D,T

---

**441**

Da li vozila policije i sudske policije, zatvorske policije-straže, vojna vozila i vozila Granične policije Bosne i Hercegovine, kada posebnim uređajima daju svjetlosne i zvučne znakove, imaju pravo prvenstva prolaza u odnosu na vozila službe hitne pomoći i vatrogasna vozila:

<input checked="" type="checkbox"/>
2

ne;

da.

A,B,C,D,T

---

---

**442****Vozilo u saobraćaju na putu ne smije da bude opterećeno:** (više tačnih odgovora)

<input checked="" type="checkbox"/>
<input checked="" type="checkbox"/>
<input type="checkbox"/>
<input checked="" type="checkbox"/>

preko svoje nosivosti koja je upisana u potvrdu o registraciji;

preko dozvoljenog osovinskog opterećenja;

ispod najveće dozvoljene mase;

preko mogućnosti koje dozvoljavaju osobine puta utvrđene propisima ili saobraćajnim znakom.

A,B,C,D,T

---

**443****Da li se vozilima organa za izvršenje krivičnih i prekršajnih sankcija smiju prevoziti lica?**

<input checked="" type="checkbox"/>
<input type="checkbox"/>
<input type="checkbox"/>

da, i to samo za službene potrebe;

ne;

da.

B,C

---

**444****Pravo da upravlja motornim vozilom kategorije C i CE stiče lice koje navrši?**

<input type="checkbox"/>
<input type="checkbox"/>
<input checked="" type="checkbox"/>

18 godina;

20 godina;

21 godinu.

C

---

**445****Znakovi koje učesnicima u saobraćaju daje ovlašćeno lice su:** (više tačnih odgovora)

<input checked="" type="checkbox"/>
<input type="checkbox"/>
<input checked="" type="checkbox"/>

znakovi koji se daju rukama i položajem tijela;

znakovi koji se daju gestikulacijom i mimikom;

zvučni i svjetlosni znakovi.

A,B,C,D,T

---

**446** Vozač koji je vozilom učestvovao u saobraćajnoj nezgodi u kojoj ima poginulih ili povrijeđenih lica, kao i drugo lice koje je neposredno učestvovalo u nezgodi:



imaju pravo da traže lične podatke i adresu od lica koja su bila prisutna kad se nezgoda dogodila;



nemaju pravo da traže lične podatke i adresu od lica koja su bila prisutna kad se nezgoda dogodila.

A,B,C,D,T

---

**447** Da li se smatra da je vozač počeo upravljati vozilom ako je pokrenuo vozilo sa mjesta:



ne;



da.

A,B,C,D,T

---

**448** Osposobljavanje kandidata za vozače motornih vozila je djelatnost od posebnog društvenog značaja, a obavlja se po posebnom programu koji obuhvata:



teoretski dio, praktični dio i program prve pomoći;



samo teoretski i praktični dio.

A,B,C,D,T

---

**449** Pravo da upravlja motornim vozilom kategorije D i DE stiže lice koje navrši:




21 godinu;



24 godine.

D

**Pod pojmom „ukupna masa“ podrazumijeva se:**

1

3

dozvoljena masa do koje vozilo smije da se optereti prema deklaraciji proizvođača vozila;

masa vozila zajedno sa masom tereta koji se prevozi na vozilu, uključujući i masu lica koja se nalaze u vozilu, kao i masu priključnog vozila sa teretom, ako je ono pridodato vozilu;

masa vozila zajedno s njegovom nosivošću.

A,B,C,D,T

A - kategorija A i odgovarajuća podkategorija, i moped

B - kategorija B i odgovarajuća podkategorija

C - kategorija C i odgovarajuća podkategorija

D - kategorija D i odgovarajuća podkategorija

T - traktor, radna mašina, motokultivator