




KONTROLNI TEST

za provjeru znanja kandidata za vozača



1. Saobraćajna traka za usporavanje je:

- 1 dio kolovoza namijenjen za isključivanje vozila iz saobraćaja na putu
- 2 dio puta u naseljenom mjestu namijenjen isključivo za saobraćaj motornih vozila koja se kreću sporo
- 3 dio puta namijenjen za vozila koja se kreću sporo i otežavaju brže odvijanje saobraćaja

2. Odstojanje je:

- 1 najkraća uzdužna udaljenost između najisturenijih tačaka vozila ili lica, odnosno drugih objekata
- 2 najkraća, bočna udaljenost između najisturenijih tačaka vozila ili lica, odnosno drugih objekata
- 3 najkraća uzdužna udaljenost između najisturenijih tačaka vozila

3. Vozač koji na provjeri poznavanja saobraćajnih propisa ne pokaže potrebno znanje može, na svoj zahtjev, pristupiti ponovo provjeri:

- 1 poslije isteka 15 dana od dana prethodne provjere
- 2 poslije isteka 30 dana od dana prethodne provjere

4. Motorna vozila na svom zadnjem dijelu moraju biti opremljena sa jednim ili dva svjetla za vožnju unazad:

- 1 bijele boje
- 2 crvene ili žute boje

5. U kojem slučaju će vozaču biti oduzeta vozačka dozvola u trajanju od 60 dana?

- 1 ako mu, u roku od jedne godine, zbog učinjenih prekršaja iz Zakona o osnovama bezbjednosti saobraćaja na putevima u BiH bude određeno najmanje deset kaznenih bodova
- 2 ako mu, u roku od dvije godine, zbog učinjenih prekršaja iz Zakona o osnovama bezbjednosti saobraćaja na putevima u BiH ponovo bude određeno najmanje deset kaznenih bodova

6. Kada je vozaču zabranjeno da započne radnju preticanja? (više tačnih odgovora)

- 1 ako je vozač koji se kreće vozilom iza njega započeo radnju preticanja
- 2 ako se ispred njega kreće kolona vozila
- 3 kada je kolovoz mokar

7. U vozačku dozvolu upisuju se:

- 1 sve kategorije i podkategorije vozila kojima vozač ima pravo da upravlja
- 2 samo one kategorije za koje je vozač položio vozački ispit
- 3 sve kategorije vozila kojima vozač ima pravo da upravlja, a podkategorije samo ako to vozač naznači u zahtjevu za izdavanje vozačke dozvole

8. Koja je najveća dozvoljena brzina kretanja vozilom na putu van naselja, osim na autoputu, putu rezervisanom za saobraćaj motornih vozila i brzom putu?

- 1 60 km/h
- 2 80 km/h
- 3 100 km/h

9. Čemu prilagođavate brzinu kretanja vozila na putevima van naselja? (više tačnih odgovora)

- 1 vremenu putovanja za koje želim stići na odredište
- 2 trenutnim uslovima na putu i u saobraćaju
- 3 vrsti puta

10. Kako postupiti pri upravljanju vozilom za vrijeme jakog vjetra?

(više tačnih odgovora)

- 1 smanjujete brzinu kretanja vozila
- 2 pri mimoilaženju sa drugim vozilima držite veće rastojanje
- 3 povećavate brzinu kretanja vozila

11. Koliki broj kaznenih bodova se može odrediti vozaču motornog vozila koji je prekršajnim nalogom odnosno sudskim rješenjem kažnjen za prekršaje kažnjive prema odredbama Zakona o osnovama bezbjednosti saobraćaja na putevima u Bosni i Hercegovini?

- 1 dva, tri i pet bodova, što je određeno kaznenim odredbama zakona
- 2 jedan i dva boda, zavisno od težine učinjenog prekršaja
- 3 dva i tri boda koja utvrđuje sud prilikom određivanja kazne

12. Međunarodna vozačka dozvola:

- 1 može se zamijeniti za vozačku dozvolu BiH
- 2 ne može se zamijeniti za vozačku dozvolu BiH

13. Ispitivač će udaljiti sa ispita kandidata i smatrat će se da kandidat nije položio ispit ukoliko kandidat:

- 1 ometa rad ispitivača
- 2 oštećuje imovinu ili materijalna dobra
- 3 koristi nedopuštena sredstva i na drugi način ometa ispit
- 4 koristi dopuštena sredstva

(više tačnih odgovora)

14. Da li se vozilo koje se kreće po šinama postavljenim na sredini kolovoza smije preticati s lijeve strane?

- 1 ne
- 2 da

15. Za vrijeme osposobljavanja kandidata za vozača iz upravljanja motornim vozilom, kandidat za vozača pored identifi kacionih dokumenata kod sebe mora imati i na zahtjev ovlašćenog lica pokazati sljedeću dokumentaciju:

(više tačnih odgovora)

- 1 ljekarsko uvjerenje
- 2 potvrdu o završenom osposobljavanju iz upravljanja motornim vozilom
- 3 uvjerenje o položenom ispitu iz pružanja prve pomoći
- 4 potvrdu o završenom osposobljavanju iz poznavanja propisa o bezbjednosti saobraćaja na putevima
- 5 uvjerenje o položenom ispitu iz poznavanja propisa o bezbjednosti saobraćaja na putevima za onu kategoriju za koju se kandidat osposobljava

16. Pomoću užeta ne smije da se vuče:

(više tačnih odgovora)

- 1 motorno vozilo na kojem su neispravni uređaji za osvjjetljenje
- 2 motorno vozilo na kojem su neispravni uređaji za davanje znakova
- 3 motorno vozilo na kojem su neispravni uređaji za zaustavljanje
- 4 motorno vozilo na kojem su neispravni uređaji za upravljanje
- 5 teretno motorno vozilo i autobus

17. Koja motorna i priključna vozila moraju imati gabaritna svjetla?

- 1 motorna i priključna vozila čija visina prelazi 2,8 m
- 2 motorna i priključna vozila koja su šira od 2,1 m

18. Da li je dozvoljeno da vozilo autoškole bude opremljeno video kamerom?

- 1 da
- 2 ne

19. Zaprežna vozila koja se kreću jedno iza drugog moraju držati odstojanje?

- 1 najmanje 50 m
- 2 najmanje 100 m
- 3 najmanje 150 m

20. Aparat za gašenje požara postavljen na vidljivom mjestu, tako da se u slučaju opasnosti može upotrijebiti, moraju imati: (više tačnih odgovora)

- 1 putnička motorna vozila
- 2 vozila za javni prevoz, teretna motorna i priključna vozila
- 3 putnička motorna vozila opremljena za korišćenje alternativnih goriva (LPG, CNG,)

21. Šta treba izbjegavati nailaskom na ovaj saobraćajni znak? (više tačnih odgovora)

- 1 vožnju prilagođenu uslovima koji vladaju na kolovozu
- 2 nagle pokrete upravljačem
- 3 naglo kočenje i zaustavljanje



22. Kako treba postupiti nailaskom na ovaj saobraćajni znak?

- 1 pripremiti se za savladavanje više uzastopnih krivina od kojih je prva udesno
- 2 učesnike u saobraćaju iza sebe upozoriti desnim pokazivačem smjera



23. Na koju opasnost upozorava ovaj saobraćajni znak?

- 1 na blizinu dijela puta gdje je uz kolovoz neutvrđena bankina
- 2 na blizinu dijela puta gdje je zaleđen kolovoz



24. Kako ćete postupiti nailaskom na ovaj saobraćajni znak? (više tačnih odgovora)

- 1 nastaviti kretanje vozilom jer imam prvenstvo prolaza
- 2 smanjiti brzinu kretanja vozila i po potrebi zaustaviti vozilo
- 3 propustiti vozila iz suprotnog smjera




25. Tačan naziv saobraćajnog znaka je?

- 1 zabrana saobraćaja za sva motorna vozila koja vuku priključno vozilo
- 2 zabrana saobraćaja za sva motorna vozila koja vuku laku prikolicu



26. Tačan naziv saobraćajnog znaka je:

- 1 elektronska naplata putarine
- 2 zabrana korištenja radio-aparata u vozilu




27. Tačan naziv saobraćajnog znaka je:

- 1 niša za zaustavljanje vozila u slučaju opasnosti
- 2 prostor rezervisan za zaustavljanje vozila javnog gradskog prevoza



28. Tačan naziv saobraćajnog znaka je:

- 1 radionica za popravak guma
- 2 mjesto gdje možete kontrolisati pritisak u gumama



29. Kako treba postupiti nailaskom na ovaj saobraćajni znak? (više tačnih odgovora)

- 1 povećavati opreznost
- 2 pružiti pomoć povrijeđenima u saobraćajnoj nezgodi
- 3 povećavati brzinu kretanja vozila



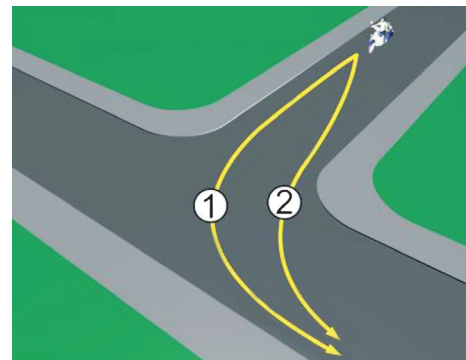
30. Koje značenje ima ovaj saobraćajni znak?

- 1 ulazak u područje u kojem postoji povećana opasnost od izbijanja nekontrolisanog požara
- 2 ulazak u područje gdje je izletnicima dozvoljeno paljenje vatre



31. U saobraćajnoj situaciji kao na slici, kojom putanjom vozač motocikla mora izvršiti radnju skretanja ulijevo?

- 1 putanjom broj 2
- 2 putanjom broj 1



32. Koji je redoslijed prolaska vozila na raskrsnici u situaciji kao na slici?

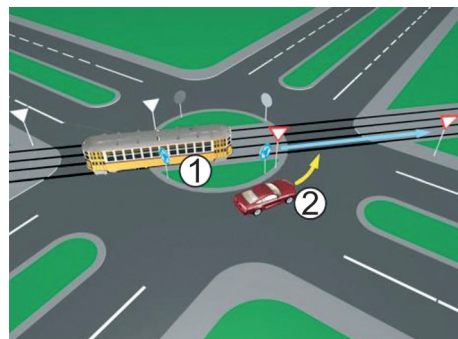
- 1 2 - 3 - 1
- 2 2 - 1 - 3
- 3 1 - 3 - 2



33. Koji je redoslijed prolaska vozila na raskrsnici u situaciji kao na slici?

1 1 - 2

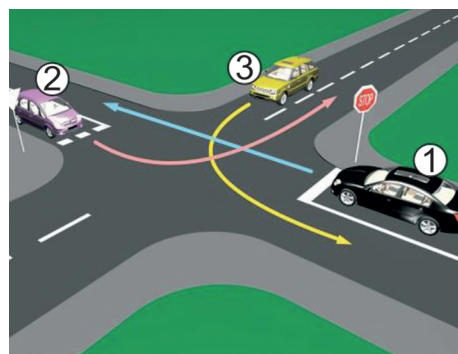
2 2 - 1



34. Kako u saobraćajnoj situaciji kao na slici mora postupiti vozač vozila broj 1?

1 propustiti vozilo broj 3, zatim proći prije vozila broj 2

2 propustiti vozilo broj 3, zatim propustiti vozilo broj 2 i zadnji proći kroz raskrsnica

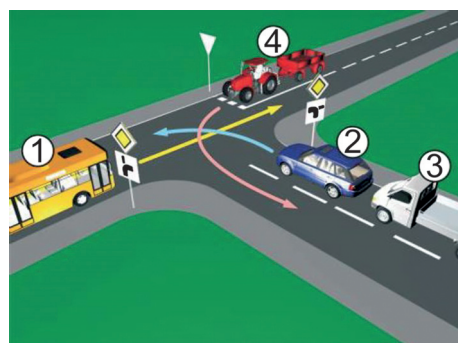


35. Koji je redoslijed prolaska vozila na raskrsnici u situaciji kao na slici?

1 2 - 3 - 4 - 1

2 2 - 3 - 1 - 4

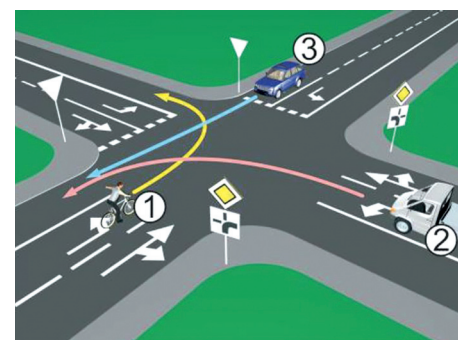
3 1 - 2 - 3 - 4



36. Kako u saobraćajnoj situaciji kao na slici mora postupiti vozač vozila broj 1?

1 proći kroz raskrsnica prije vozila broj 2, a propustiti vozilo broj 3

2 propustiti vozilo broj 2, zatim proći kroz raskrsnica prije vozila broj 3



37. Koji je redoslijed prolaska vozila na raskrsnici u situaciji kao na slici?

1 3 - 1 - 2 - 4

2 4 - 2 - 1 - 3

3 3 - 4 - 2 - 1

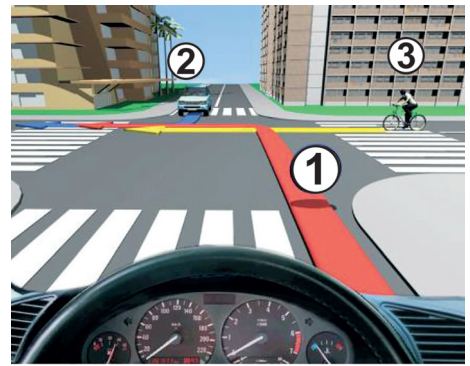


38. Koji je redosljed prolaska vozila na raskrsnici u situaciji kao na slici?

1 2 - 3 - 1

2 2 - 1 - 3

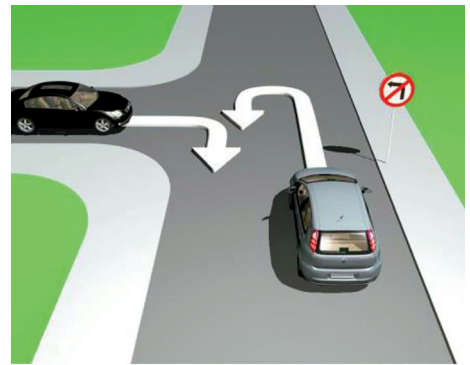
3 3 - 1 - 2



39. Da li je u saobraćajnoj situaciji kao na slici dozvoljeno izvršiti radnju polukružnog okretanja vozilom?

1 da

2 ne



40. U saobraćajnoj situaciji kao na slici, koji učesnik u saobraćaju mora sačekati i propustiti drugog učesnika?

1 učesnik broj 2

2 učesnik broj 1

