



# KONTROLNI TEST

za provjeru znanja kandidata za vozača





**1. Saobraćajna nezgoda je:**

- 1 događaj na putu ili koji je počeo na putu, u kojem je učestvovalo najmanje dva vozila u pokretu i u kojem je jedno lice poginulo ili povrijeđeno ili je nastala materijalna šteta
- 2 događaj na putu ili koji je počeo na putu, u kojem je učestvovalo najmanje jedno vozilo u pokretu i u kojem je jedno ili više lica poginulo ili povrijeđeno ili je nastala materijalna šteta
- 3 događaj na putu ili koji je počeo na putu, u kojem je učestvovalo najmanje tri vozila u pokretu i u kojem je jedno lice poginulo ili povrijeđeno ili je nastala materijalna šteta

**2. Put sa makadamskim zastorom je:**

- 1 put koji je izgrađen od jednog sloja tucanika u uvaljanom stanju
- 2 put koji je izgrađen od dva sloja tucanika u uvaljanom stanju
- 3 put koji je izgrađen od tri sloja tucanika u uvaljanom stanju

**3. Saobraćajna traka za vozila javnog gradskog prevoza je:**

- 1 obilježeni uzdužni dio kolovoza namijenjen za vozila javnog gradskog prevoza putnika
- 2 obilježeni uzdužni dio kolovoza namijenjen za vozila javnog gradskog prevoza putnika, kad su u vozilu putnici

**4. Novoproducirana motorna i priključna vozila, nakon obavezne identifikacije vozila prije prve registracije, vlasnici su dužni podvrgnuti redovnom tehničkom pregledu?**

- 1 u toku mjeseca u kojem ističe rok od 24 mjeseca od dana prve registracije vozila, te u toku mjeseca u kojem ističe rok od 36 mjeseci od dana prve registracije vozila
- 2 u toku mjeseca u kojem ističe rok od 12 mjeseca od dana prve registracije vozila, te u toku mjeseca u kojem ističe rok od 36 mjeseci od dana prve registracije vozila
- 3 u toku mjeseca u kojem ističe rok od 24 mjeseca od dana prve registracije vozila, te u toku mjeseca u kojem ističe rok od 48 mjeseci od dana prve registracije vozila

**5. Na putu s kolovozom za saobraćaj vozila u oba smjera na kojem postoje tri saobraćajne trake:**

- 1 vozač ne smije vozilom da se kreće saobraćajnom trakom koja se nalazi uz lijevu ivicu puta u smjeru kretanja vozila
- 2 vozač smije vozilom da se kreće saobraćajnom trakom koja se nalazi uz lijevu ivicu puta u smjeru kretanja vozila
- 3 vozač ne smije vozilom da se kreće saobraćajnom trakom koja se nalazi uz desnu ivicu puta u smjeru kretanja vozila

**6. Vozač koji se motornim vozilom uključuje u saobraćaj na autoputu dužan je da:**

- 1 blagovremeno zauzme položaj vozilom na krajnjoj desnoj saobraćajnoj traci i da što prije pređe na posebnu traku za usporavanje, ako takva traka postoji na ulazu u priključni put
- 2 koristi posebnu traku za ubrzavanje, kad takva traka postoji u produženju priključnog puta, i da se u saobraćaj na autoputu uključi dajući odgovarajući znak, na način kojim ne ugrožava saobraćaj vozila koja se kreću autoputem
- 3 propusti vozila koja se kreću autoputem, ako na mjestu na kojem se uključuje u saobraćaj na autoputu ne postoji posebna traka za ubrzavanje *(više tačnih odgovora)*

**7. U slučaju vanrednog ljekarskog pregleda, pregled se obavlja na trošak:**

- 1 lica upućenog na vanredni ljekarski pregled
- 2 ustanove koja je primila lice na vanredni ljekarski pregled

**8. Nasloni za glavu na sjedištima u putničkim vozilima služe za:** *(više tačnih odgovora)*

- 1 zaštitu glave vozača i putnika u slučaju saobraćajne nezgode
- 2 zaštitu vratnih pršljenova vozača i putnika u slučaju saobraćajne nezgode
- 3 bolju preglednost puta i veću koncentraciju vozača
- 4 udobniji san suvozača pri vožnji na autoputevima

**9. Šta treba vozač učiniti prije nego što pokrene vozilo?** *(više tačnih odgovora)*

- 1 upoznati sva lica u vozilu sa osnovnim saobraćajnim pravilima i kaznenim odredbama
- 2 vezati sigurnosni pojas
- 3 prilagoditi sjedište i naslon za glavu

**10. Da li se vozila koja prevoze opasne materije smiju vući odnosno koristiti za vuču drugih vozila?**

- 1 ne
- 2 da

**11. Da li se na točkove u toku zimskih uslova na kolovozu smiju postaviti lanci za snijeg?**

- 1 da
- 2 ne
- 3 da ukoliko visina sniježnog prekrivača prelazi 5 cm

**12. Na dijelu puta s velikim uzdužnim nagibom na kojem je mimoilaženje vozila nemoguće ili je veoma otežano, kad se jedno od vozila koja se mimoilaze mora kretati unazad, kretaće se unazad:**

- 1 teretno motorno vozilo koje se susrelo s autobusom
- 2 autobus koji se susreo sa teretnim motornim vozilom
- 3 svako vozilo koje se susrelo s vozilom koje vuče priključno vozilo *(više tačnih odgovora)*

**13. Nosivost je dozvoljena masa do koje vozilo smije da se optereti:**

- 1 prema vučnim osobinama vozila
- 2 prema deklaraciji proizvođača vozila
- 3 prema deklaraciji proizvođača tereta kojeg prevozi

**14. U gornjem redu identifikacione table za prevoz opasnih materija može se nalaziti znak „X”. To znači:**

- 1 da opasna materija burno reaguje ako dođe u dodir sa otvorenim plamenom
- 2 da opasna materija burno reaguje ako dođe u dodir sa vodom

**15. Na teretnom vozilu u prostoru za smještaj tereta može se prevoziti:**

- 1 najviše 10 lica koja utovaraju ili istovaraju teret ili obavljaju druge radnje
- 2 najviše 5 lica koja utovaraju ili istovaraju teret ili obavljaju druge radnje
- 3 najviše 7 lica koja utovaraju ili istovaraju teret ili obavljaju druge radnje

**16. Da li se u zatvorenom prostoru vozila koje se ne može otvoriti iznutra smiju prevoziti lica?**

- 1 da
- 2 ne

**17. Vozač u putničkom automobilu smije prevoziti dijete na zadnjem sjedištu:** (više tačnih odgovora)

- 1 koje je starije od tri a mlađe od 10 godine
- 2 koje je starije od pet a mlađe od 12 godine
- 3 koje sjedi na posebnom podmetaču prilagođenom njegovoj visini koji omogućava upotrebu sigurnosnog pojasa
- 4 kada je ispravno vezano sigurnosnim pojaskom, ili je ispravno vezano u sigurnosnoj sjedalici koja je za sjedište pričvršćena pomoću sigurnosnog pojasa u tri tačke vezivanja ili posebnim kopčama u vozilu

**18. Lica koja se voze zaprežnim vozilom dok je vozilo u pokretu ne smiju:** (više tačnih odgovora)

- 1 da stoje na vozilu
- 2 sjediti na platou vozila sa strane
- 3 da sjede na stranicama vozila
- 4 se voziti zaprežnim vozilom
- 5 da se nalaze na rudi vozila dok je vozilo u pokretu

**19. U slučaju neispravnosti vozila koje je natovareno opasnim materijama, takvo vozilo se vuče pomoću:**

- 1 užeta
- 2 automatskih vučnih kuka sa višestepenovanom regulacijom
- 3 krute veze (rude)
- 4 oslanjanjem ili vješanjem vozila na vučno vozilo

**20. Teret na vozilu ne smije da pređe najudaljeniju tačku na prednjoj strani vozila za više od:**

- 1 0,25 m
- 2 0,50 m
- 3 1,00 m
- 4 jednu šestinu svoje dužine

**21. Koje značenje ima ovaj saobraćajni znak?**

- 1 moguće neravnine i izbočine na putu
- 2 opasnost od kamenja koje se odronjava na put sa desne strane



**22. Tačan naziv saobraćajnog znaka je:**

- 1 zabrana saobraćaja za vozila koja prevoze opasne materije
- 2 zabrana saobraćaja za teretna vozila koja prevoze opasne materije



**23. Koje značenje imaju ovaj saobraćajni znak?**

- 1 obavezni smjerovi
- 2 dozvoljeni smjerovi



24. Koje značenje imaju ovaj saobraćajni znak?

- 1 najmanja dozvoljena brzina
- 2 najveća dozvoljena brzina
- 3 brzina koja se preporučuje na određenom dijelu puta



25. Koje značenje ima ovaj saobraćajni znak?

- 1 početak autoputa
- 2 početak brzog puta
- 3 početak puta rezervisanog za saobraćaj motornih vozila



26. Koje značenje imaju ovaj saobraćajni znak?

- 1 obavezno zaustaviti vozilo
- 2 nailazak na raskrsnicu regulisanu svjetlosnom saobraćajnom signalizacijom
- 3 nastaviti kretanje vozilom bez smanjenja brzine kretanja



27. Tačan naziv saobraćajnog znaka je:

- 1 zabrana polukružnog okretanja
- 2 obavezno polukružno okretanje



28. Koje značenje ima ova oznaka na kolovozu?

- 1 obavezno se prestrojiti u desnu saobraćajnu traku
- 2 najava završetka preticanja



29. Koja motorna vozila je dozvoljeno preticati na putu označenim ovim saobraćajnim znakom?

- 1 motocikl bez prikolice i moped
- 2 putničko vozilo



30. Koje značenje ima ovaj saobraćajni znak?

- 1 dozvoljeni smjer
- 2 put s jednosmjernim saobraćajem
- 3 obavezno obilaženje sa desne strane



31. Kako ćete postupiti u saobraćajnoj situaciji kao na slici ako upravljate plavim automobilom?

- 1 proći prvi jer sam s desne strane
- 2 proći prvi jer skrećem udesno
- 3 zaustaviti se i propustiti crveno vozilo



32. Kako ćete postupiti u saobraćajnoj situaciji kao na slici prilikom dolaska na raskrsnicu? (više tačnih odgovora)

- 1 nastaviti kretanje jer ne mijenjam smjer kretanja vozila
- 2 propustiti motocikl
- 3 proći prije vozila koje dolazi iz suprotnog smjera



33. Kako ćete postupiti u saobraćajnoj situaciji kao na slici?

(više tačnih odgovora)

- 1 povećati pažnju zbog nailaska na ukrštanje sa sporednim putem
- 2 obavezno nastaviti kretanje vozilom pravo
- 3 skrenuti udesno na sporedni put ili nastaviti kretanje vozilom pravo



34. Kako ćete postupiti u saobraćajnoj situaciji kao na slici?

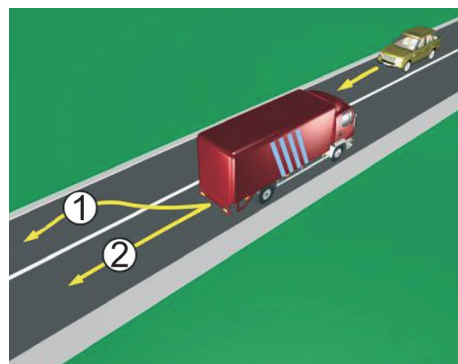
(više tačnih odgovora)

- 1 obratiti pažnju na moguću djecu na putu ili u blizini puta
- 2 brzinu kretanja vozila prilagoditi trenutnim uslovima saobraćaja, s tim da brzina ne smije biti veća od brzine određene saobraćajnim znakom
- 3 obratiti pažnju samo ako se djeca nalaze na putu, a brzinu prilagoditi trenutnim uslovima saobraćaja



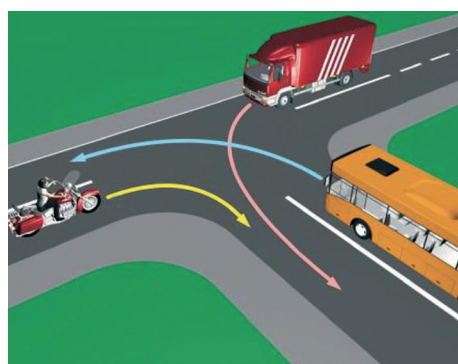
35. U saobraćajnoj situaciji kao na slici, vozač kamiona prilikom vršenja radnje kretanja vozilom unazad, mora se kretati:

- 1 linijama broj 1 i broj 2
- 2 linijom broj 2
- 3 linijom broj 1



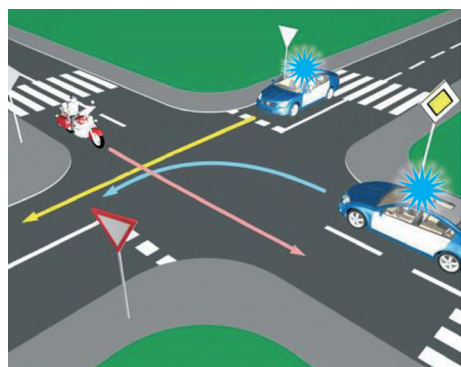
36. Koji je redoslijed prolaska vozila na raskrsnici u situaciji kao na slici?

- 1 autobus, kamion, motocikl
- 2 motocikl, autobus, kamion;
- 3 motocikl i kamion istovremeno, pa autobus
- 4 motocikl, kamion, autobus



37. Koje vozilo će u saobraćajnoj situaciji kao na slici posljednje proći kroz raskrsnicu?

- 1 motocikl
- 2 policijsko vozilo koje drugom policijskom vozilu dolazi s desne strane
- 3 policijsko vozilo koje se nalazi na cesti s prvenstvom prolaza



38. Kojoj vrsti saobraćajnih znakova pripada postavljeni saobraćajni znak na slici?

- 1 znakovima opasnosti
- 2 znakovima obavještenja
- 3 znakovima izričitih naredbi



39. Kako treba postupiti u saobraćajnoj situaciji kao na slici?

(više tačnih odgovora)

- 1 povećati brzinu kretanja vozila
- 2 obratiti pažnju na postupke vozača vozila iz suprotnog smjera
- 3 povećati pažnju i prije vozila iz suprotnog smjera proći dionicu na kojoj je suženje puta



40. Kako ćete postupiti u saobraćajnoj kao na slici?

(više tačnih odgovora)

- 1 propustiti autobus
- 2 propustiti motocikl
- 3 proći kroz raskrsnicu prije autobusa

