



KONTROLNI TEST

za provjeru znanja kandidata za vozača



1. Šta je naselje?

- 1 skup ulica koje se međusobno ukrštaju ili spajaju, između kojih se nalaze redovi ili grupe zgrada čije su granice označene saobraćajnim znakovima
- 2 je izgrađen, nastanjen, prostorno i funkcionalno objedinjen dio naseljenog mjesta u kom su javni putevi izgrađeni s uređenim trotoarom i ivičnjakom pored kojeg je najmanje s jedne strane red kuća ili grupa zgrada i čije su granice obilježene saobraćajnim znakom za obilježavanje naselja

2. Polukružno okretanje je?

- 1 okretanje vozila pod uglom od 60 stepeni u odnosu na dotadašnji smjer kretanja, radi uključenja u suprotni saobraćajni tok
- 2 okretanje vozila za 180 stepeni u odnosu na dotadašnji smjer kretanja, radi uključenja u suprotni saobraćajni tok
- 3 okretanje vozila za 360 stepeni u odnosu na dotadašnji smjer kretanja, radi uključenja u suprotni saobraćajni tok

3. Zemljani put je:

- 1 put bez izgrađenog kolovoza i kolovoznog zastora, pa i kad na priključku na javni put ima izgrađen kolovoz
- 2 put koji je izgrađen od dva sloja tucanika u uvaljanom stanju
- 3 površina koja se koristi za saobraćaj i koji je dostupan većem broju korisnika (seoski, poljski i šumski putevi)

4. U zaštitnom pojasu javnog puta van naselja mogu se postavljati natpisi za reklame, i to pored magistralnog i regionalnog puta:

- 1 na razdaljini od najmanje 12 metara, računajući od krajnje tačke poprečnog profila
- 2 na razdaljini od najmanje 10 metara, računajući od krajnje tačke poprečnog profila
- 3 na razdaljini od najmanje 15 metara, računajući od krajnje tačke poprečnog profila

5. Na motornim vozilima za vrijeme kretanja kroz tunel moraju da budu upaljena?

- 1 duga svjetla
- 2 kratka svjetla za osvjtljavanje puta
- 3 vjetla za maglu

6. Brzina kretanja motornih vozila na putu pod normalnim uslovima saobraćaja ne smije se ograničiti saobraćajnim znakom:

- 1 ispod 40 km na čas
- 2 ispod 30 km na čas
- 3 ispod 50 km na čas

7. Vozač je dužan da tokom upravljanja vozilom:

- 1 obrati pažnju na pješake koji se nalaze na kolovozu ili stupaju na kolovoz
- 2 djelimično obrati pažnju na pješake koji se nalaze na kolovozu ili stupaju na kolovoz

8. Na putu koji ima obilježene pješačke prelaze ili posebno izgrađene prelaze, odnosno prolaze za pješake, pri prelazanju puta pješak je dužan da se kreće tim prelazima, odnosno prolazima:

- 1 ako oni nisu od njega udaljeni više od 100 m
- 2 ako oni nisu od njega udaljeni više od 150 m
- 3 ako oni nisu od njega udaljeni više od 200 m

9. Saobraćajni znakovi u naseljima smješteni uz kolovoz postavljaju se na visini:

- 1 0.40 do 2.20 m
- 2 0.30 do 2.30 m
- 3 0.30 do 2.20 m

10. Na uređajima za davanje svjetlosnih saobraćajnih znakova trobojnim svjetlima crveno i zeleno svjetlo ne smiju biti upaljeni istovremeno:

- 1 ne
- 2 da

11. Kada je organizator dužan prekinuti održavanje sportske ili druge priredbe, odnosno aktivnosti na putu? *(više tačnih odgovora)*

- 1 kada su ugroženi učesnici ili gledaoci
- 2 kada nije narušen javni red i mir
- 3 kada nastanu okolnosti zbog kojih priredba, odnosno aktivnosti ne bi bile odobrene
- 4 kada organizator ne provodi određene mjere osiguranja
- 5 kada nisu ugroženi učesnici ili gledaoci

12. Da li je vozač koji se kreće mokrim kolovozom u naselju dužan da prilagodi brzinu kretanja vozila tako da izbjegne prskanje pješaka koji se kreću ivicom kolovoza ili trotoara?

- 1 ne
- 2 da

13. Da li se na vozila službe hitne pomoći i vatrogasna vozila, kada posebnim uređajima daju svjetlosne i zvučne znakove primjenju odredbe o ograničenju brzine?

- 1 ne, pod uslovom da ne ugrožavaju bezbjednost drugih učesnika u saobraćaju
- 2 da
- 3 ne

14. Vozilo u saobraćaju na putu ne smije da bude opterećeno: *(više tačnih odgovora)*

- 1 preko svoje nosivosti koja je upisana u potvrdu o registraciji
- 2 preko dozvoljenog osovinskog opterećenja
- 3 ispod najveće dozvoljene mase
- 4 preko mogućnosti koje dozvoljavaju osobine puta utvrđene propisima ili saobraćajnim znakom

15. Osposobljavanje kandidata za vozače motornih vozila je djelatnost od posebnog društvenog značaja, a obavlja se po posebnom programu koji obuhvata:

- 1 teoretski dio, praktični dio i program prve pomoći
- 2 samo teoretski i praktični dio

16. Vozaču kojem je u roku od jedne godine zbog učinjenih prekršaja iz Zakona o osnovama bezbjednosti saobraćaja na putevima u Bosni i Hercegovini određeno najmanje 10 (deset) kaznenih bodova:

- 1 biće oduzeta vozačka dozvola u trajanju od 60 dana
- 2 biće oduzeta vozačka dozvola u trajanju od 30 dana
- 3 biće upućen na provjeru poznavanja saobraćajnih propisa *(više tačnih odgovora)*

17. Učestalost treptanja pokazivača pravca treba, u pravilu, iznositi:

- 1 najmanje 60 odnosno najviše 90 treptaja u minuti
- 2 najmanje 60 odnosno najviše 120 treptaja u minuti
- 3 60 treptaja u minuti

18. Svjetlosni snop dugog svjetla mora osvijetliti:

- 1 najmanje 50 m puta ispred vozila noću, pri normalnoj vidljivosti i to pri podjednakoj opterećenosti motornog vozila na vodoravnoj površini
- 2 najmanje 100 m puta ispred vozila noću, pri normalnoj vidljivosti i to pri podjednakoj opterećenosti motornog vozila na vodoravnoj površini
- 3 najmanje 80 m puta ispred vozila noću, pri normalnoj vidljivosti i to pri podjednakoj opterećenosti motornog vozila na vodoravnoj površini

19. Izlaz (izlazni otvor) ispusne cijevi uređaja za odvod i ispuštanje ispusnih gasova ne smije biti usmjeren:

- 1 u desnu stranu motornog vozila
- 2 u lijevu stranu motornog vozila

20. Zaprežnim vozilom na javnom putu može upravljati lice?

- 1 sa navršenih 16 godina života
- 2 sa navršenih 14 godina života
- 3 sa navršenih 15 godina života

21. Tačan naziv saobraćajnog znaka je:

- 1 obavezno zaustavljanje
- 2 nailazak na put s prvenstvom prolaza



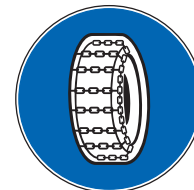
22. Tačan naziv saobraćajnog znaka je:

- 1 najveće odstojanje između vozila
- 2 najmanje odstojanje između vozila



23. Koje značenje ima ovaj saobraćajni znak?

- 1 zabrana saobraćaja za vozila koja na točkovima koriste lance
- 2 označava početak dijela puta na kome motorna vozila, osim motocikla, moraju imati propisanu zimsku opremu u zimskim uslovima



24. Kako treba postupiti nailaskom na ovaj saobraćajni znak?

- 1 obavezno smanjiti brzinu kretanja vozila ispod 60 km/h
- 2 nastaviti kretanje vozilom s naročitom oprežnošću u dužini od 60 km
- 3 nastaviti kretanje vozilom pri čemu je najmanja dopuštena brzina kretanja vozila 60 km/h



25. Kako treba postupiti prilikom nailaska vozilom na ovlašteno lice koje u vašem smjeru kretanja daje znak kao na slici?

- 1 povećati brzinu kretanja vozila
- 2 smanjiti brzinu kretanja vozila
- 3 zaustaviti vozilo



26. Dva crvena trepćuća svjetla koja se naizmjenično pale na saobraćajnom znaku postavljenom prije prelaza puta preko željezničke pruge u nivou, kao na slici, upozoravaju na: *(više tačnih odgovora)*

- 1 približavanje voza
- 2 spuštanje branika ili polubranika
- 3 mjesto na putu gdje se izvode radovi



27. Šta zabranjuje ovaj saobraćajni znak?

- 1 parkiranje vozila
- 2 zaustavljanje vozila
- 3 zaustavljanje i parkiranje vozila



28. Šta označava crvena kontrolna lampica ako vam se upali za vrijeme kretanja vozilom, kao na slici?

- 1 kvar u sistemu za punjenje akumulatora
- 2 kvar u sistemu za osvetljenje puta




29. Koje značenje ima ovaj saobraćajni znak znak?

- 1 blizina raskrsnice sa kružnim tokom saobraćaja
- 2 kružni tok saobraćaja



30. Kako postupate za vrijeme upravljanja vozilom nailaskom na ovaj saobraćajni znak? *(više tačnih odgovora)*

- 1 smanjiti brzinu kretanja vozila jer nailazimo na oštru krivinu udesno
- 2 izbjegavati kočenje u krivini
- 3 povećati brzinu kretanja vozila



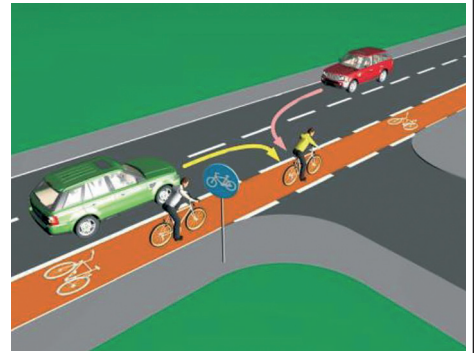
31. Kako treba postupiti u saobraćajnoj situaciji kao na slici ako vozilom prolazite pored dva postavljena saobraćajna znaka

- 1 prilagoditi brzinu kretanja vozila tako da ona ne prelazi 50 km/h
- 2 obratiti pažnju na pješake, jer saobraćajni znak ukazuje na blizinu pješackog prelaza
- 3 nastaviti kretanje vozilom uz prethodno propuštanje pješak



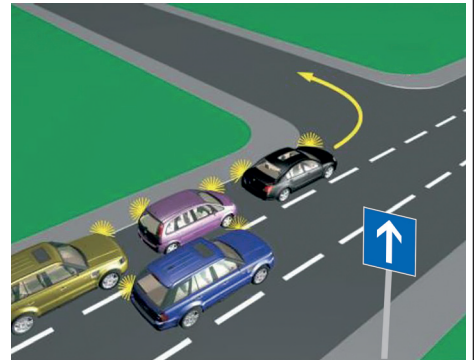
32. U saobraćajnoj situaciji kao na slici učesnici u saobraćaju kroz raskrnicu proći će sljedećim redoslijedom:

- 1 oba bicikla, crveni automobil, zeleni automobil
- 2 zeleni automobil, crveni automobil, pa bicikli
- 3 oba bicikla, zeleni automobil, crveni automobil



33. U saobraćajnoj situaciji kao na slici, vozač vozila koje se nalazi u srednjoj saobraćajnoj traci: (više tačnih odgovora)

- 1 mora nastaviti kretanje vozilom pravo, jer nije pravovremeno izvršio radnju preštrojavanja
- 2 ne smije izvršiti radnju skretanja ulijevo, jer čini prekršaj
- 3 sačekaće sva vozila da skrenu ulijevo, a potom izvršiti radnju skretanja ulijevo



34. Kako ćete postupiti u saobraćajnoj situaciji kao na slici ukoliko automobilom skrećete udesno?

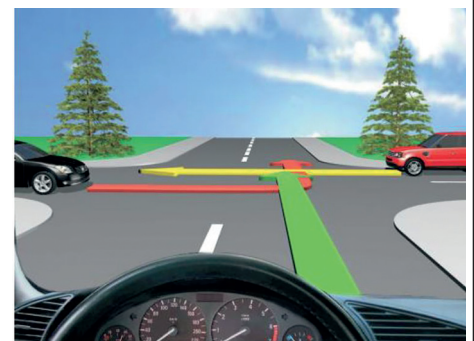
- 1 propustit ću biciklistu, a zatim skrenuti u desno
- 2 vozim istovremeno s biciklistom



35. Kako ćete postupiti u saobraćajnoj situaciji kao na slici?

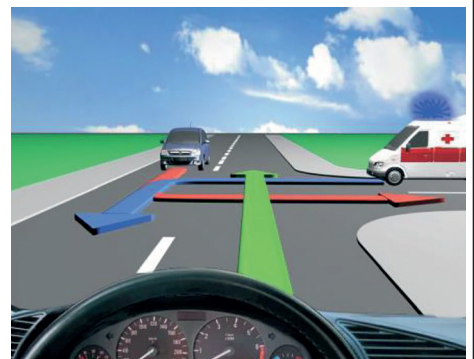
(više tačnih odgovora)

- 1 propustiti crveni automobil
- 2 proći kroz raskrnicu prije crnog automobila
- 3 proći kroz raskrnicu prije crvenog automobila



36. Kako ćete postupiti u saobraćajnoj situaciji kao na slici?

- 1 proći prvi kroz raskrnicu jer imate prednost
- 2 propustiti oba vozila i zadnji proći kroz raskrnicu
- 3 propustiti vozilo hitne pomoći koje daje svjetlosne znakove, a zatim proći kroz raskrnicu



37. Kako ćete postupiti u saobraćajnoj situaciji kao na slici ako na raskrsnici skrećete ulijevo dok je na semaforu upaljeno zeleno svjetlo?

- 1] zaustaviti se prije raskrsnice
- 2] propustiti tramvaj koji dolazi iz suprotnog smjera, pa skrenuti ulijevo



38. Kako ćete postupiti ako je autobus, označen kao na slici, zaustavljen na kolovozu zbog ulaska i izlaska djece?

(više tačnih odgovora)

- 1] ako se krećem vozilom iza autobusa, zaustaviti se
- 2] ako se krećem vozilom iza autobusa, nastaviti kretanje vozilom
- 3] ako se krećem vozilom u susret autobusu, nastaviti kretanje vozilom
- 4] ako se krećem vozilom u susret autobusu, zaustaviti se



39. Kako ćete postupiti u saobraćajnoj situaciji kao na slici?

- 1] propustiti crveno vozilo
- 2] proći kroz raskrsnicu prije crvenog vozila
- 3] proći istovremeno s crvenim vozilom kroz raskrsnicu



40. Kako trebate postupiti u saobraćajnoj situaciji kao na slici?

(više tačnih odgovora)

- 1] povećati brzinu kretanja vozila
- 2] obratiti pažnju na postupke vozača vozila iz suprotnog smjera
- 3] propustiti vozilo iz suprotnog smjera, a zatim proći dionicu na kojoj je suženje puta

