



KONTROLNI TEST

za provjeru znanja kandidata za vozača



1. Smanjena vidljivost postoji kada, zbog nepovoljnih atmosferskih i drugih prilika vozač ne može jasno uočiti druge učesnike u saobraćaju:

- 1] zbog nepovoljnih atmosferskih ili drugih prilika vozač ne može jasno da uoči druge učesnike u saobraćaju na udaljenosti od najmanje 200 m na putu izvan naselja, odnosno od najmanje 100 m u naselju
- 2] zbog nepovoljnih atmosferskih ili drugih prilika vozač ne može jasno da uoči druge učesnike u saobraćaju na udaljenosti od najmanje 300 m na putu izvan naselja, odnosno od najmanje 200 m u naselju
- 3] zbog nepovoljnih atmosferskih ili drugih prilika vozač ne može jasno da uoči druge učesnike u saobraćaju na udaljenosti od najmanje 250 m na putu izvan naselja, odnosno od najmanje 150 m u naselju

2. Saobraćajna signalizacija je?

- 1] znak kojim se upotrebom grafičkih ili svjetlosnih oznaka ili drugih simbola učesnici u saobraćaju upozoravaju na opasnosti na putu
- 2] znak kojim se upotrebom brojčanih ili slovnih oznaka ili drugih simbola učesnici u saobraćaju upozoravaju na opasnosti na putu, odnosno daju obavještenja potrebna za bezbjedno kretanje po putu
- 3] sistem sredstava, uređaja i oznaka za regulisanje i vođenje saobraćaja

3. Pod izrazom „prestrojavanje“ podrazumijeva se:

- 1] radnja koju je u određenim slučajevima vozač dužan da izvrši zaustavljanjem vozila, smanjivanjem brzine kretanja ili prekidanjem radnje koju izvodi vozilom, i to na način koji ne primorava vozača drugog vozila da naglo mijenja pravac ili brzinu kretanja
- 2] zauzimanje takvog položaja vozilom na saobraćajnoj traci i na takvoj udaljenosti od raskrsnice ili drugog mjesta na putu iz kojeg na bezbjedan način može da se izvede sljedeća dopuštena radnja vozilom (skretanjem, okretanjem, zaustavljanjem i sl.)
- 3] prolazanje vozilom pored drugog vozila koje se po istom kolovozu kreće iz suprotnog smjera

4. Ako je vozač zbog saobraćajne nezgode prinuđen da zaustavi ili parkira vozilo na obilježanom pješačkom prelazu ili na razdaljini manjoj od 5 m od tog prelaza, u naselju, dužan je:

- 1] postaviti znak kojim se označava zaustavljeno vozilo na kolovozu (bezbjednosni trokut), iza zaustavljenog vozila, u vertikalnom položaju, na udaljenosti manjoj od deset metara
- 2] postaviti znak kojim se označava zaustavljeno vozilo na kolovozu (bezbjednosni trokut), iza zaustavljenog vozila, u vertikalnom položaju, na udaljenosti koja ne smije biti manja od deset metara
- 3] postaviti znak kojim se označava zaustavljeno vozilo na kolovozu (bezbjednosni trokut), iza zaustavljenog vozila, u vertikalnom položaju, na udaljenosti koja ne smije biti manja od 50 metara

5. Kako treba postupiti vozač kad prilazi vozilom obilježanom pješačkom prelazu na kome saobraćaj nije regulisan uređajima za davanje svjetlosnih saobraćajnih znakova ni znakovima ovlašćenog lica?

- 1] upravljati vozilom sa naročitom oprežnošću
- 2] zaustaviti vozilo da bi propustio pješake koji prelaze ili stupaju na pješački prelaz, ili nedvosmisleno pokazuju namjeru da pređu preko pješačkog prelaza
- 3] prilagoditi brzinu vozila, tako da u slučaju potrebe može blagovremeno zaustaviti vozilo i propustiti pješake koji prelaze ili stupaju na pješački prelaz ili nedvosmisleno pokazuju namjeru da pređu preko pješačkog prelaza

6. Vozač koji se zatekne ili nađe na mjesto saobraćajne nezgode dužan je da na zahtjev ovlašćenog lica:

- 1] preveze lice povrijeđeno u saobraćajnoj nezgodi do najbliže zdravstvene ustanove
- 2] preveze lice povrijeđeno u saobraćajnoj nezgodi prema želji povrijeđenog

7. Kada se vozaču može izreći zaštitna mjera zabrane upravljanja motornim vozilom u trajanju od jednog do četiri mjeseca? *(više tačnih odgovora)*

- 1 ako upravlja vozilom u saobraćaju na putu, a kod kojeg se utvrdi količina alkohola u krvi do 0,5 g/kg
- 2 ako se odbije podvrgnuti ispitivanju pomoću odgovarajućih sredstava ili aparata ili stručnom pregledu radi provjeravanja da li ima alkohola u organizmu ili da li pokazuje znake poremećenosti izazvane dejstvom alkohola
- 3 ako upravlja vozilom u saobraćaju na putu, a kod kojeg se utvrdi količina alkohola u krvi preko 0,8 g/kg do 1,5 g/kg

8. Saobraćajna ogledala mogu biti: *(više tačnih odgovora)*

- 1 oblika jednakokraničnog trougla
- 2 okruglog oblika
- 3 pravougaonog oblika

9. Oznake na kolovozu ne smiju biti više od:

- 1 0.5 cm
- 2 0.6 cm

10. Ako je uređaj za davanje svjetlosnih saobraćajnih znakova postavljen iznad saobraćajne trake, svjetla mogu biti postavljena po horizontalnoj osi, jedno pored drugog:

- 1 zeleno lijevo, žuto u sredini, a crveno desno
- 2 crveno lijevo, zeleno u sredini, a žuto desno
- 3 crveno lijevo, žuto u sredini, a zeleno desno

11. Oznake i brojevi na registarskim tablicama za motorna i priključna vozila i probnim tablicama ispisuju se slovima:

- 1 A, E, J, K, M, T i arapskim brojevima
- 2 A, E, B, C, T, J i arapskim brojevima
- 3 A, E, P, N, S, J i arapskim brojevima

12. Da li se na vozila službe hitne pomoći i vatrogasna vozila, kada posebnim uređajima daju svjetlosne i zvučne znakove primjenju odredbe o zabrani preticanja i obilaženja kolone vozila i zabrani presijecanja kolone pješaka?

- 1 da
- 2 ne, pod uslovom da ne ugrožavaju bezbjednost drugih učesnika u saobraćaju
- 3 ne

13. Da li je vozaču zabranjeno da pretiče vozilo koje se približava obilježenom pješačkom prelazu, ili koje prelazi pješački prelaz, ili koje je stalo radi propuštanja pješaka na tom prelazu?

- 1 ne, ako postoje dvije saobraćajne trake u jednom smjeru
- 2 ne, ako ga pješaci propuštaju
- 3 zabranjeno je

14. Ako vozač motornog vozila i poslije dvije provjere poznavanja saobraćajnih propisa ne pokaže dovoljno znanje, ne može da pristupi daljnjoj provjeri dok ne istekne rok od:

- 1 30 dana od dana posljednje provjere
- 2 dva mjeseca od dana posljednje provjere

15. Lice koje ima pravo da upravlja motornim vozilom bez posjedovanja vozačke dozvole je:

- 1 kandidat za vozača za vrijeme osposobljavanja, u prisustvu instruktora vožnje koji ga osposobljava
- 2 svako lice prije navršenih 18 godina života, koje je zdravstveno sposobno za samostalno upravljanje vozilom u saobraćaju

16. Svjetla za vožnju unazad treba da imaju takav nagib, osim kada je to posebnim dozvolama predviđeno, da ne osvijetljavaju put na dužini većoj od:

- 1 7,5 m, mjereći od izvora svjetla
- 2 10 m, mjereći od izvora svjetla
- 3 8 m, mjereći od izvora svjetla

17. Da li vozilo auto-škole u kojem se obavlja osposobljavanje i polaganje ispita iz upravljanja motornim vozilom za kategoriju B mora imati u opremi i aparat za gašenje požara?

- 1 da
- 2 ne

18. U kojem godišnjem periodu je obavezno posjedovanje zimske opreme vozila?

- 1 od 1. novembra tekuće do 1. aprila naredne godine
- 2 od 15. novembra tekuće do 15. aprila naredne godine

19. Krutom vezom ne smije da se vuče motorno vozilo:

- 1 koje ima ispravan uređaj za upravljanje
- 2 teže od vučnog vozila, ako mu je neispravna pomoćna kočnica

20. Širina motornih i priključnih vozila, uključujući izmjenjive nadgradnje za prihvat tereta, kao i svih uređaja koji se pri vožnji nalaze na vozilu, izuzimajući uređaje za čišćenje snijega i vozila namijenjenih za zimsko održavanje puteva, može biti maksimalne vrijednosti-uopšteno:

- 1 2,00 m
- 2 2,50 m
- 3 2,55 m
- 4 4,50 m

21. Kojim vozilima je dozvoljeno kretanje putem označenim ovim saobraćajnim znakom?

- 1 bicikli, mopedi i laki motocikli
- 2 motocikli



22. Koje značenje ima ovaj saobraćajni znak?

- 1 zabrana saobraćaja za vozila koja prevoze opasne materije iznad određene količine
- 2 zabrana saobraćaja za vozila koja prevoze eksploziv ili neke lako zapaljive materije



23. Kako treba postupiti nailaskom na ovaj saobraćajni znak?

- 1 obavezno voziti ulijevo
- 2 nastaviti kretanje vozilom pravo



24. Tačan naziv saobraćajnog znaka je?

- 1 ukrštanje puteva istog značaja
- 2 ukrštanje sporednih puteva pod oštrim uglom



25. Kojim vozilima nije dozvoljeno kretanje putem označenim ovim saobraćajnim znakom?

- 1 vozilima čija ukupna visina premašuje visinu označenu na znaku
- 2 vozilima čija ukupna visina ne premašuje visinu označenu na znaku



26. Koje značenje ima ovaj saobraćajni znak?

- 1 obavezan smjer
- 2 obavezno polukružno okretanje




27. Tačan naziv saobraćajnog znaka je:

- 1 zabrana saobraćaja za sva motorna vozila
- 2 zabrana saobraćaja za sva motorna vozila, osim mopeda



28. Kako treba postupiti nailaskom na ovaj saobraćajni znak? (više tačnih odgovora)

- 1 obavezno zaustaviti vozilo
- 2 nastaviti kretanje vozilom s naročitom oprežnošću
- 3 smanjiti brzinu kretanja vozila tako da se u slučaju potrebe može blagovremeno izvršiti radnja kočenja i zaustavljanja
- 4 nastaviti kretanje vozilom bez smanjenja brzine kretanja



29. Koje značenje ima ovaj saobraćajni znak? (više tačnih odgovora)

- 1 da upravljamo vozilom po jednosmjernom putu
- 2 da ne smijemo skrenuti udesno ili ulijevo
- 3 da je zabranjen saobraćaj iz suprotnog smjera



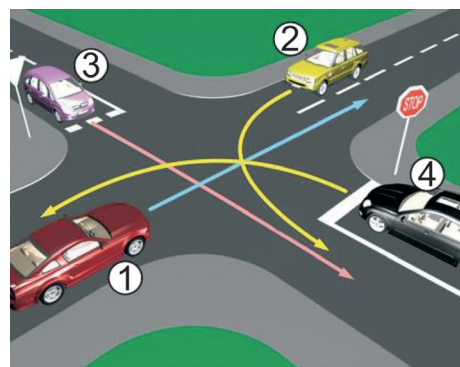
30. Koje značenje ima ovaj saobraćajni znak?

- 1 mjesto gdje se nailazi na oštru krivinu
- 2 mjesto gdje se nailazi na blagu krivinu
- 3 mjesto gdje se izvode radovi na putu



31. Koji je redoslijed prolaska vozila na raskrsnici u situaciji kao na slici?

- 1 2 - 1 - 3 - 4
- 2 1 - 2 - 3 - 4
- 3 1 - 2 - 4 - 3



32. Kako ćete postupiti u saobraćajnoj situaciji kao na slici?

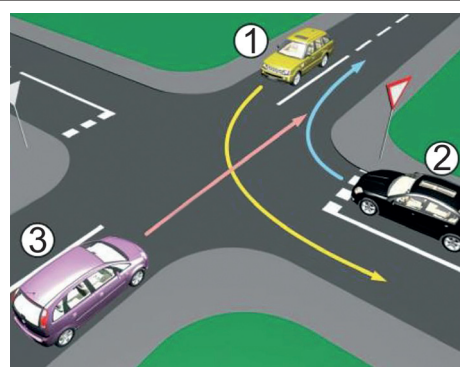
(više tačnih odgovora)

- 1 proći prvi kroz raskrsnicu
- 2 proći zadnji kroz raskrsnicu
- 3 propustiti vozilo koje dolazi iz suprotnog smijera
- 4 proći prije crvenog vozila kroz raskrsnicu



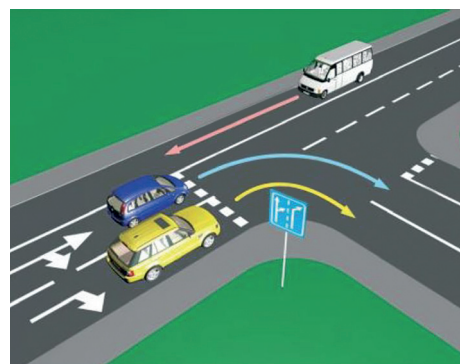
33. Koji je redoslijed prolaska vozila na raskrsnici u situaciji kao na slici?

- 1 1 - 2 - 3
- 2 3 - 1 - 2
- 3 2 - 1 - 3



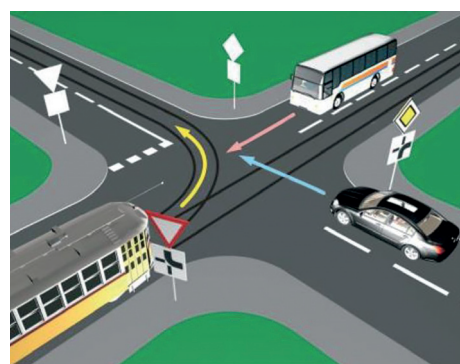
34. U saobraćajnoj situaciji kao na slici, pravilno skretanje udesno vrši:

- 1 samo žuto vozilo
- 2 samo plavo vozilo
- 3 nijedno vozilo
- 4 oba vozila



35. Koji je redoslijed prolaska vozila na raskrsnici u situaciji kao na slici?

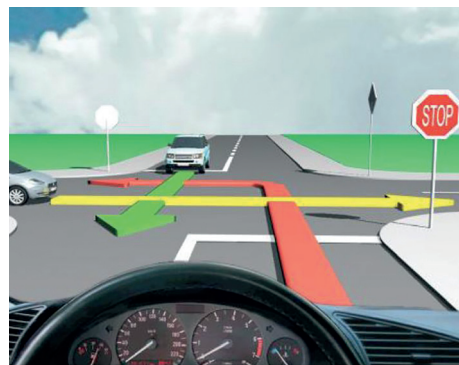
- 1 tramvaj, autobus, putnički automobil
- 2 autobus, tramvaj, putnički automobil
- 3 autobus, putnički automobil, tramvaj



36. Kako trebate postupiti u saobraćajnoj situaciji kao na slici?


(više tačnih odgovora)

- 1 proći prvi kroz raskrscopicu jer nemam nikoga s desne strane
- 2 propustiti vozilo koje dolazi s lijeve strane
- 3 propustiti vozilo koje dolazi iz suprotnog smjera kretanja
- 4 proći drugi kroz raskrscopicu



37. Kako trebate postupiti u saobraćajnoj situaciji kao na slici?

- 1 proći prvi kroz raskrscopicu jer nastavljate kretanje vozilom pravo
- 2 propustiti oba vozila
- 3 proći drugi kroz raskrscopicu
- 4 propustiti samo crveni automobil



38. Kako ćete postupiti ako se krećete putem na kojem se izvode radovi, u saobraćajnoj situaciji kao na slici?

- 1 zaustaviti se, jer se izvode radovi na saobraćajnoj traci kojom se krećem vozilom
- 2 nastaviti kretanje vozilom, jer je na semaforu upaljeno zeleno svjetlo.



39. Kako ćete postupiti u saobraćajnoj situaciji kao na slici ukoliko upravljate crnim automobilom?

- 1 obavezno se zaustaviti
- 2 nastaviti kretanje vozilom uz povećanu opreznost
- 3 obavezno izvršiti radnju skretanja udesno



40. Kako ćete postupiti u saobraćajnoj situaciji kao na slici ako je na semaforu upaljeno crveno svjetlo i dopunska strelica za skretanje udesno? *(više tačnih odgovora)*

- 1 propustiti crveno vozilo koje dolazi s lijeve strane
- 2 proći kroz raskrscopicu prije crvenog vozila
- 3 izvršiću radnju skretanja u desno nakon prolaska crvenog vozila

