



KONTROLNI TEST

za provjeru znanja kandidata za vozača



1. Pješačka zona je?

- 1 uređena saobraćajna površina namijenjena za kretanje pješaka, u kojoj je dozvoljeno kretanje motornih vozila s posebnim odobrenjem
- 2 područje u naselju, obilježeno propisanim saobraćajnim znakom, u kojem vozila ne smiju da se kreću brzinom većom od brzine hoda pješaka zbog dozvoljenog kretanja pješaka i dječije igre
- 3 uređena saobraćajna površina namijenjena za kretanje pješaka i biciklista, u kojoj je dozvoljeno kretanje motornih vozila s posebnim odobrenjem

2. Pod izrazom stajalište podrazumijeva se:

- 1 dio površine puta namijenjen za zaustavljanje autobusa, trolejbusa ili tramvaja radi ulaska i izlaska putnika i koje je obilježeno saobraćajnim znakom
- 2 dio površine puta namijenjen za zaustavljanje autobusa, trolejbusa ili tramvaja radi ulaska i izlaska putnika
- 3 dio površine puta namijenjen za zaustavljanje ili parkiranje autobusa, trolejbusa ili tramvaja radi ulaska i izlaska putnika i koje je obilježeno saobraćajnim znakom

3. Svjetlosni znakovi kojima se najavljuje približavanje voza na prelazu puta preko željezničke pruge u istom nivou daju se naizmjeničnim paljenjem:

- 1 dva crvena trepćuća svjetla koja imaju oblik kruga
- 2 dva žuta trepćuća svjetla koja imaju oblik kruga

4. Nadležni organ unutrašnjih poslova dužan je izaći na mjesto saobraćajne nezgode u kojoj je nastala manja materijalna šteta:

- 1 ako to zahtijeva jedan od učesnika saobraćajne nezgode
- 2 uvijek

5. Sa koje strane puta i u kojem smjeru se postavljaju saobraćajni znakovi?

- 1 sa desne strane puta uz kolovoz u smjeru kretanja vozila
- 2 sa lijeve strane puta uz kolovoz u smjeru kretanja vozila
- 3 sa desne strane puta uz kolovoz u smjeru suprotnom od smjera kretanja vozila

6. Koliko se najviše saobraćajnih znakova može postaviti na isti stub?

- 1 tri saobraćajna znaka
- 2 četiri saobraćajna znaka
- 3 dva saobraćajna znaka

7. Da li je dozvoljeno izvršiti radnju preticanja ili obilaženja saobraćajnom trakom koja je namijenjena za prinudno zaustavljanje vozila?

- 1 da
- 2 ne

8. Da li vozila policije i sudske policije, zatvorske policije-straže, vojna vozila i vozila Granične policije Bosne i Hercegovine, kada posebnim uređajima daju svjetlosne i zvučne znakove, imaju pravo prvenstva prolaza u odnosu na vozila službe hitne pomoći i vatrogasna vozila:

- 1 ne
- 2 da

9. Rok važenja vozačke dozvole, u pravilu, je:

- 1 tri godine, od dana njenog izdavanja, odnosno produženja njenog važenja
- 2 pet godina, od dana njenog izdavanja, odnosno produženja njenog važenja
- 3 deset godina, od dana njenog izdavanja, odnosno produženja njenog važenja

10. Vozač motornog vozila dužan je da upotrebljava za osvjetljavanje puta kratka svjetla umjesto dugih svjetala: *(više tačnih odgovora)*

- 1 prije mimoilaženja s drugim vozilom na razdaljini s koje ocijeni da svjetlom svog vozila zasljepljuje vozača vozila koje mu dolazi u susret, uvijek na razdaljini većoj od 300 m
- 2 prije mimoilaženja s drugim vozilom na razdaljini s koje ocijeni da svjetlom svog vozila zasljepljuje vozača vozila koje mu dolazi u susret, a pri mimoilaženju s drugim vozilom, kad vozač tog vozila upali kratka svjetla ili kad naizmjeničnim paljenjem i gašenjem svjetala upozorava da mu duga svjetla smetaju, uvijek na razdaljini manjoj od 200 m
- 3 za vrijeme kretanja za drugim vozilom da dugim svjetlima svog vozila ne bi zasljepljivao vozača vozila ispred sebe
- 4 za vrijeme dok vozilom prolazi pored organizovane kolone ili povorke pješaka
- 5 za vrijeme kretanja za drugim vozilom na rastojanju od najmanje 100 m da dugim svjetlima svog vozila ne bi zasljepljivao vozača vozila ispred sebe

11. Koja je najveća dozvoljena količina alkohola u krvi za kandidate za vozača za vrijeme osposobljavanja u praktičnom upravljanju vozilom?

- 1 0,0 g/kg
- 2 0,3 g/kg
- 3 0,5 g/kg

12. Motorno vozilo koje na putu vuče drugo neispravno motorno vozilo:

- 1 ne smije se kretati brzinom većom od 30 km/h
- 2 ne smije se kretati brzinom većom od 40 km/h

13. Vuča natovarenog teretnog vozila sa priključnim vozilom ili bez priključnog vozila, odnosno traktora sa priključnim vozilom dozvoljena je samo: *(više tačnih odgovora)*

- 1 do prvog mjesta pogodnog za pretovar tereta
- 2 izuzetno i do prvog mjesta na kojem može da se otkloni kvar na vozilu
- 3 vuča natovarenog teretnog vozila nije dozvoljena
- 4 vuča natovarenog teretnog vozila je dozvoljena bez ikakvih uslova

14. Da li se, po pravilu, od momenta prijema do momenta predaje opasne materije vozač motornog vozila smije udaljiti od vozila?

- 1 da
- 2 ne

15. Ako se na putu kreću dva ili više vozila koja prevoze opasne materije, odstojanje između tih vozila ne smije biti manje od:

- 1 150 m
- 2 200 m
- 3 280 m

16. Da li vozač zaprežnog vozila mora, dok vozi ili vodi zapregu, u periodu od prvog sumraka do potpunog svanuća, kao i danju u slučaju smanjene vidljivosti, nositi i svjetloodbojni prsluk?

- 1 da
- 2 ne

17. Teret koji se prevozi na vozilu i priključnom vozilu može da pređe najudaljeniju tačku na zadnjoj strani vozila najviše za:

- 1 jednu desetinu svoje dužine koja je kao kontinuiran teret oslonjena na tovarni prostor
- 2 jednu šestinu svoje dužine koja je kao kontinuiran teret oslonjena na tovarni prostor
- 3 jednu petinu svoje dužine koja je kao kontinuiran teret oslonjena na tovarni prostor
- 4 jednu četvrtinu svoje dužine koja je kao kontinuiran teret oslonjena na tovarni prostor

18. Poluprečnik kruga znaka obavještenja u tunelima i galerijama iznosi:

- 1 50 cm
- 2 60 cm
- 3 70 cm

19. Pod izrazom trolejbus podrazumjeva se:

- 1 vozilo na šinama s električnim pogonom, namijenjeno za javni prevoz putnika i koje je, radi napajanja motora električnom energijom, vezano za električni vod
- 2 vozilo na šinama s električnim pogonom, namijenjeno za javni prevoz putnika koje, osim sjedišta za vozača, ima više od osam sjedišta i koje, radi napajanja motora električnom energijom, ima kontakt s električnim provodnikom
- 3 motorno vozilo namijenjeno za javni prevoz putnika koje, osim sjedišta za vozača, ima više od osam sjedišta i koje, radi napajanja motora električnom energijom, ima kontakt s električnim provodnikom


20. Znakovi obavještenja imaju oblik:

(više tačnih odgovora)

- 1 kvadrata
- 2 pravougla ili kruga
- 3 jednakostraničnog trougla


21. Koje značenje ima ovaj saobraćajni znak?

- 1 prestanak ograničenja brzine od 80 km/h
- 2 dio puta gdje prestaje preporučena brzina od 80 km/h
- 3 dio puta gdje je preporučena brzina 80 km/h




22. Koje značenje ima ovaj saobraćajni znak?

- 1 mjesto gdje prestaju sve zabrane
- 2 put ili dio puta na kojem vozila imaju prvenstvo prolaza u odnosu na vozila koja se kreću putevima koji se ukrštaju, odnosno spajaju sa tim putem ili djelom puta
- 3 prelazak puta preko željezničke pruge




23. Tačan naziv saobraćajnog znaka je?

- 1 prestanak najmanje dopuštene brzine
- 2 prestanak preporučene brzine
- 3 prestanak ograničenja brzine



24. Kako treba postupiti nailaskom na ovu oznaku na kolovozu?

- 1 odustati od eventualne namjere zaustavljanja i parkiranja
- 2 po potrebi se zaustaviti, ali ne i parkirati
- 3 obavezno se zaustaviti



25. Koje značenje ima ovaj saobraćajni znak?

- 1 zabrana kretanja za bicikliste i pješake
- 2 razdvojena staza za pješake i bicikliste, kojima je zabranjeno kretanje drugih učesnika u saobraćaju
- 3 staza za kretanje pješaka, bicikla i motocikla



26. Koje značenje ima ovaj saobraćajni znak?

- 1 mjesto na putu gdje je postavljeno preventivno ulegnuće kao objekat koji se koristi za smirivanje saobraćaja
- 2 mjesto na putu gdje je postavljena preventivna izbočina kao objekat koji se koristi za smirivanje saobraćaja



27. Na koju opasnost upozorava ovaj saobraćajni znak?

- 1 na blizinu dijela puta na kojem su česte duže kolone vozila u kretanju
- 2 na blizinu dijela puta na kojem u određenim uslovima saobraćaja ili drugim okolnostima postoji opasnost od kolone zaustavljenih vozila



28. Kako ćete postupiti prilikom nailaska vozilom na ovlašteno lice koje u vašem smjeru kretanja daje znak kao na slici?

- 1 povećati brzinu kretanja vozila
- 2 zaustaviti vozilo
- 3 smanjiti brzinu kretanja vozila



29. Kako ćete postupiti prilikom nailaska na saobraćajni znak s dopunskom tablom, ukoliko nastavljate kretanje vozilom pravo?

- 1 propustiću vozila koja se nalaze na putu s prvenstvom prolaza
- 2 obavezno ću se zaustaviti
- 3 propustit ću samo vozila s desne strane



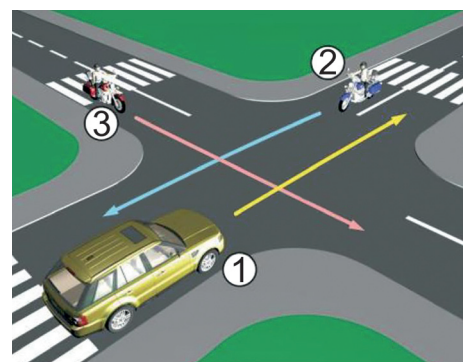
30. Na šta vas upozorava crvena kontrolna lampica na instrument-tabli, ako vam se upali za vrijeme kretanja vozilom?

- 1 višak ulja u motoru
- 2 kvar u sistemu za podmazivanje motora



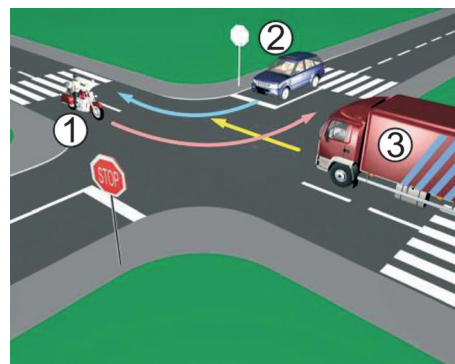
31. Koji je redoslijed prolaska vozila na raskrsnici u situaciji kao na slici?

- 1 2 - 1 - 3
- 2 3 - 2 - 1
- 3 1 - 3 - 2



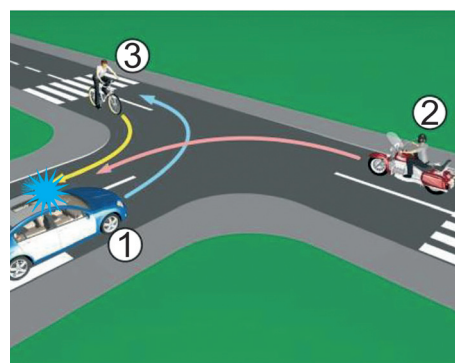
32. Koji je redoslijed prolaska vozila na raskrsnici u situaciji kao na slici?

- 1 1 - 2 - 3
- 2 2 - 1 - 3
- 3 3 - 1 - 2



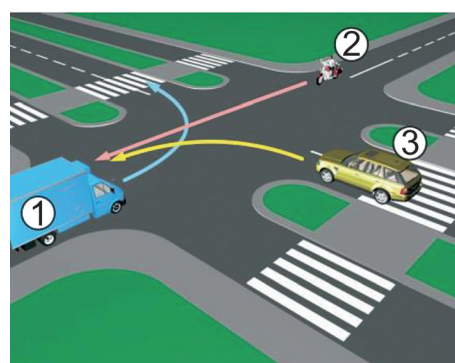
33. Koji je redoslijed prolaska vozila na raskrsnici u situaciji kao na slici?

- 1 3 - 2 - 1
- 2 2 - 1 - 3
- 3 1 - 3 - 2



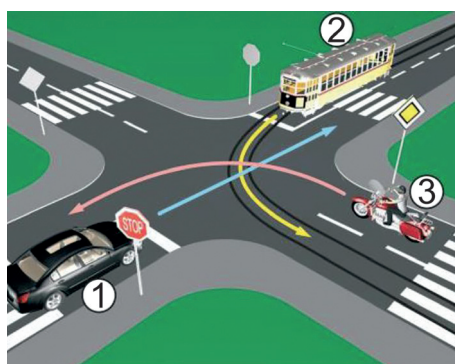
34. Koji je redoslijed prolaska vozila na raskrsnici u situaciji kao na slici?

- 1 1 - 3 - 2
- 2 2 - 3 - 1
- 3 3 - 2 - 1



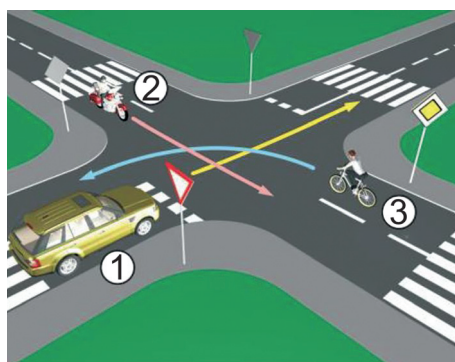
35. Koji je redoslijed prolaska vozila na raskrsnici u situaciji kao na slici?

- 1 2 - 3 - 1
- 2 3 - 2 - 1
- 3 3 - 1 - 2



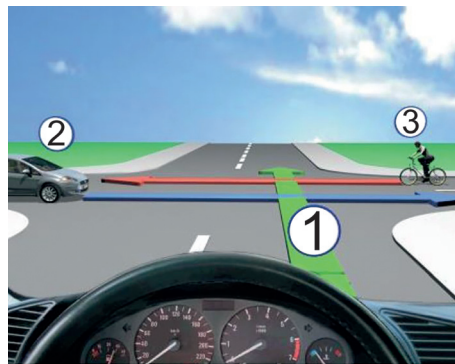
36. Koji je redoslijed prolaska vozila na raskrsnici u situaciji kao na slici?

- 1 2 - 3 - 1
- 2 2 - 1 - 3
- 3 3 - 1 - 2



37. Koji je redosljed prolaska vozila na raskrsnici u situaciji kao na slici?

- 1 1 - 3 - 2
- 2 3 - 1 - 2
- 3 2 - 3 - 1



38. Kako ćete postupiti na raskrsnici u saobraćajnoj situaciji kao na slici?

- 1 nastaviti kretanje vozilom jer nema nikoga s desne strane
- 2 proći drugi jer sam žutom vozilu s desne strane
- 3 zaustaviti se i propustiti oba vozila



39. Kako trebate postupiti u saobraćajnoj situaciji kao na slici?

- 1 obavezno se zaustaviti *(više tačnih odgovora)*
- 2 nastaviti kretanje vozilom ulijevo, nakon propuštanja vozila koja dolaze sa desne strane
- 3 nakon što se na semaforu upali zeleno svjetlo, nastaviti kretanje vozilom ulijevo
- 4 nakon što se na semaforu upali zeleno svjetlo, nastaviti kretanje udesno



40. Kako treba postupiti u saobraćajnoj situaciji kao na slici?

- 1 proći prvi kroz raskrsnicu *(više tačnih odgovora)*
- 2 propustiti autobus
- 3 proći kroz raskrsnicu prije vozila s lijeve strane
- 4 proći kroz raskrsnicu prije autobusa, jer vrši radnju skretanja ulijevo

