



KONTROLNI TEST

za provjeru znanja kandidata za vozača



1. Pješak je:

- 1 lice koje učestvuje u saobraćaju, a ne upravlja vozilom, niti se prevozi u vozilu ili na vozilu
- 2 lice koje upravlja vozilom, ili se prevozi u vozilu ili na vozilu

2. Kojim postupcima vozač ugrožava bezbjednost saobraćaja?

(više tačnih odgovora)

- 1 ako vozilom upravlja premoren
- 2 ako vozilom upravlja pod uticajem alkohola i opojnih sredstava
- 3 ako se vozilom kreće uz desnu ivicu kolovoza

3. Svjetlosni saobraćajni znak „žuto trepćuće svjetlo“ obavezuje sve učesnike u saobraćaju na:

- 1 najavu crvenog svjetla
- 2 najavu zelenog svjetla
- 3 kretanje sa naročitom oprežnošću, i da uređaj za davanje svjetlosnih znakova nije u funkciji regulisanja saobraćaja

4. Uređaj za upravljanje vozilom mora biti pouzdan i izveden tako da:

(više tačnih odgovora)

- 1 vozač može lako, brzo i na siguran način mijenjati pravac i smjer kretanja vozila
- 2 prednji točkovi vozila, pri kretanju vozila po vodoravnoj ravnoj površini, nakon oslobađanja točka upravljača, sami vraćaju u položaj za pravolinijsko kretanje
- 3 omogućava slobodan hod točka upravljača na vozilu veći od 30°

5. Da li vozač može da upotrijebi svjetlosni znak upozorenja danju?

- 1 da, ako takav način upozorenja drugim učesnicima u saobraćaju više odgovara uslovima na putu
- 2 ne, svjetlosni znak upozorenja se upotrebljava samo noću

6. Približavate se vozilom prelazu puta preko željezničke pruge u nivou na kojem nema uređaja za zatvaranje saobraćaja, niti uređaja za davanje znakova kojim se najavljuje približavanje voza. Kako ćete postupiti?

- 1 zaustaviti vozilo pred prelazom, odnosno pred željezničkom prugom
- 2 upotrijebiti zvučni znak upozorenja i što brže preći preko pruge
- 3 uvjeriti se da prugom ne nailazi voz ili neko drugo vozilo koje se kreće šinama i sa naročitom oprežnošću vozilom preći preko željezničke pruge

7. Koje su najčešće očekivane greške vozača pod dejstvom alkohola?

(više tačnih odgovora)

- 1 nepropisna i neprilagođena brzina kretanja vozila
- 2 pravilno vršenje radnje mimoilaženja
- 3 ne držanje potrebnog odstojanja
- 4 poštovanje saobraćajnih pravila i propisa
- 5 nepravilno vršenje radnje preticanja ili obilaženja

8. Osnovna boja znaka „zabrana parkiranja“ je:

- 1 crvena
- 2 plava

9. Vozač koji je u tolikoj mjeri umoran ili bolestan:

- 1 ne smije upravljati vozilom u saobraćaju na putu
- 2 smije upravljati vozilom uz prisustvo drugog lica

10. Šta služi kao dokaz o utvrđenoj brzini kretanja vozila?

(više tačnih odgovora)

- 1 fotografija i videozapis s podacima o utvrđenoj brzini kretanja vozila
- 2 tahografski zapis
- 3 zapisnik o očitavanju na radaru
- 4 neposredno praćenje vozila

11. Koja svjetla moraju biti upaljena za vrijeme vožnje kroz tunel?

- 1 kratka svjetla
- 2 duga svjetla
- 3 svjetla za maglu

12. Koja upozorenja vozačima daju zvučne ili vibracijske trake?

- 1 na potrebu povećanja brzine kretanja vozila
- 2 na potrebu smanjenja brzine kretanja vozila

13. Pod zimskim uslovima na putu podrazumijeva se situacija kada:

(više tačnih odgovora)

- 1 pada snijeg i nalazi se na kolovozu
- 2 na kolovozu nema ugaženog i zaleđenog snijega
- 3 pada kiša i ledi se na kolovozu
- 4 je kolovoz zaleđen
- 5 kolovoz nije zaleđen

14. Koliko se kompleta evropskog izvještaja koristi za slučaj saobraćajne nezgode u kojoj su učestvovala dva vozila?

- 1 dva ili više kompleta evropskog izvještaja
- 2 jedan komplet evropskog izvještaja

15. Ako saobraćajnim znakom nije drugačije određeno, na putu u naselju, vozač ne smije upravljati vozilom brzinom većom od:

- 1 50 km/h
- 2 40 km/h

16. Vozački ispit iz upravljanja motornim vozilom za vozača kategorije A i A1 podkategorije polaže se:

- 1 na poligonu i na javnom putu u gradu
- 2 na javnom putu u gradu

17. Koje radnje nisu dozvoljene za vrijeme kretanja vozila?

(više tačnih odgovora)

- 1 uskakati u vozilo i iskakati iz vozila
- 2 otvarati vrata, nagnjati se van vozila
- 3 isturati dijelove tijela iz vozila i voziti se na vanjskim dijelovima vozila ili na traktorskim prikolicama
- 4 slušanje muzike

18. Ugaono svjetlo podrazumijeva:

- 1 svjetlosni uređaj namijenjen da osigura dodatno osvjetljavanje prostora neposredno uz prednji ugao vozila na strani na koju je, ili se namjerava da bude, vozilo upravljeno
- 2 svjetlosni uređaj namijenjen da osigura dodatno osvjetljavanje prostora bočno od vozila tokom manevra pri maloj brzini kretanja vozila
- 3 svjetlosni uređaj namijenjen da osigura dodatno osvjetljavanje prostora kako bi vozaču i putnicima bilo olakšano ulaznje i izlaznje iz vozila, kao i radnje utovara i istovara

19. Vozača na vanredni ljeakarski pregled rješenjem upućuje:

- 1 radnik policije
- 2 organ kod koga se vozač vodi u evidenciji
- 3 nadležna zdravstvena organizacija

20. Kolika je najveća dozvoljena širina putničkih automobila?

- 1 2,30 m
- 2 2,50 m
- 3 2,70 m

21. Na koju opasnost upozorava ovaj saobraćajni znak?

- 1 na blizinu tramvajske pruge
- 2 na blizinu prelaza puta preko željezničke pruge u nivou koja je obezbjeđena branicima ili polubranicima
- 3 na blizinu prelaza puta preko željezničke pruge u nivou koja nije obezbjeđena branicima ili polubranicima



22. Na koju opasnost upozorava ovaj saobraćajni znak?

- 1 na blizinu dijela puta na kojem su česte duže kolone vozila u pokretu
- 2 na blizinu dijela puta na kojem u određenim uslovima saobraćaja ili drugim okolnostima postoji opasnost od kolone zaustavljenih vozila



23. Dva crvena trepćuća svjetla koja se naizmjenično pale na saobraćajnom znaku postavljenom prije prelaza puta preko željezničke pruge u nivou, kao na slici, upozoravaju na:

- 1 približavanje voza
 - 2 spuštanje branika ili polubranika
 - 3 mjesto na putu gdje se izvode radovi
- (više tačnih odgovora)



24. Koje značenje ima ovaj saobraćajni znak?

- 1 blizina i položaj puta koji nema izlaza (slijepi put)
- 2 zabrana skretanja ulijevo.



25. Šta zabranjuje ovaj saobraćajni znak?

- 1 parkiranje vozila
- 2 zaustavljanje vozila
- 3 zaustavljanje i parkiranje vozila



26. Kako ćete postupiti prilikom nailaska vozilom na ovlaštenu osobu koja u vašem smjeru kretanja daje znak kao na slici?

- 1 povećati brzinu kretanja vozila
- 2 zaustaviti vozilo
- 3 smanjiti brzinu kretanja vozila



27. Koje značenje ima ovaj saobraćajni znak?

- 1 mjesto na kojem se nalazi biciklistička traka
- 2 blizina mjesta na kojem se nalazi obilježeni pješački prijelaz
- 3 posebno izgrađena pješačka staza



28. Na šta vas upozorava crvena kontrolna lampica ako vam se upali za vrijeme kretanja vozilom?

- 1 kvar u sistemu za punjenje akumulatora
- 2 kvar u sistemu za osvjjetljenje puta



29. Tačan naziv saobraćajnog znaka je?

- 1 ukrštanje puteva iste važnosti
- 2 ukrštanje sa sporednim putem pod pravim uglom



30. Koje značenje ima ovaj saobraćajni znak?

- 1 prevoj puta
- 2 suženje puta



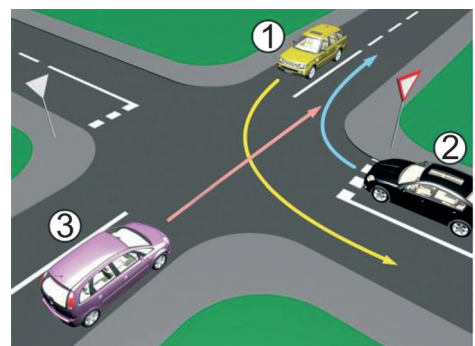
31. Kako ćete postupiti u saobraćajnoj situaciji kao na slici ako na raskrsnici skrećete ulijevo dok je na semaforu upaljeno zeleno svjetlo?

- 1 zaustaviti se prije raskrsnice
- 2 proći prije tramvaja
- 3 propustiti tramvaj koji dolazi iz suprotnog smjera, pa skrenuti ulijevo



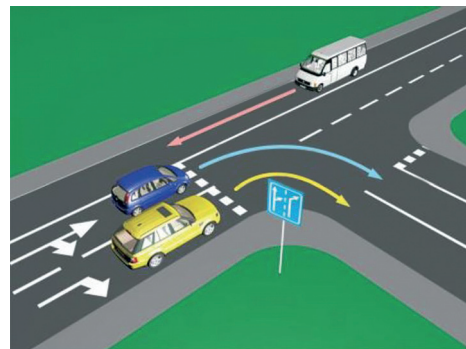
32. Koji je redoslijed prolaska vozila na raskrsnici u situaciji kao na slici?

- 1 1 - 2 - 3
- 2 3 - 1 - 2
- 3 2 - 1 - 3



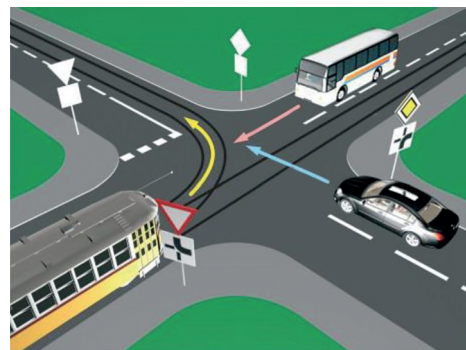
33. U saobraćajnoj situaciji kao na slici, pravilno skretanje udesno vrši:

- 1 samo žuto vozilo
- 2 samo plavo vozilo
- 3 nijedno vozilo
- 4 oba vozila



34. Koji je redoslijed prolaska vozila na raskrsnici u situaciji kao na slici?

- 1 tramvaj, autobus, putnički automobil
- 2 autobus, tramvaj, putnički automobil
- 3 autobus, putnički automobil, tramvaj



35. Kako ćete postupiti ako se za vrijeme upravljanja vozilom nađete u saobraćajnoj situaciji kao na slici?

(više tačnih odgovora)


- 1 zaustaviti vozilo
- 2 zvučnim znakom upozoriti pješake na opasnost
- 3 nastaviću kretanje jer nema obilježenog pješačkog prelaza



36. Kako ćete postupiti u saobraćajnoj situaciji kao na slici ako se vozač autobusa uključuje u saobraćaj s autobuskom stajališta?

(više tačnih odgovora)

- 1 smanjiti brzinu kretanja vozila
- 2 povećati brzinu kretanja vozila i proći prije autobusa
- 3 po potrebi zaustaviti vozilo i omogućiti vozaču autobusa da se bezbjedno uključi u saobraćaj



37. Kako ćete postupiti ako je autobus, označen kao na slici, zaustavljen na kolovozu zbog ulaska i izlaska djece?

- 1 ako se krećem vozilom iza autobusa, zaustaviti se
 - 2 ako se krećem vozilom iza autobusa, nastaviti kretanje vozilom
 - 3 ako se krećem vozilom u susret autobusu, nastaviti kretanje vozilom
 - 4 ako se krećem vozilom u susret autobusu, zaustaviti se
- (više tačnih odgovora)



38. Kako trebate postupiti u saobraćajnoj situaciji kao na slici
prilikom približavanja raskrsnici? (više tačnih odgovora)

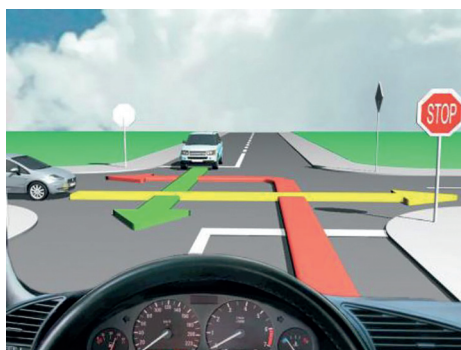
- 1 propustiti vozilo koje dolazi iz suprotnog smjera i skreće udesno
- 2 proći prvi kroz raskrsnicu
- 3 proći drugi kroz raskrsnicu
- 4 propustiti vozilo koje dolazi s desne strane



39. Kako trebate postupiti u saobraćajnoj situaciji kao na slici?

- 1 proći prvi kroz raskrsnicu jer nemam nikoga s desne strane
- 2 propustiti vozilo koje dolazi s lijeve strane
- 3 propustiti vozilo koje dolazi iz suprotnog smjera kretanja
- 4 proći drugi kroz raskrsnicu

(više tačnih odgovora)



40. Kako treba postupiti u saobraćajnoj situaciji kao na slici?

- 1 propustiti crveno vozilo pa proći raskrsnicu
- 2 proći kroz raskrsnicu prije crvenog vozila
- 3 proći istovremeno s crvenim vozilom kroz raskrsnicu

