



# KONTROLNI TEST

za provjeru znanja kandidata za vozača





**1. Zaustavljanje vozila je:**

- 1 svaki prekid kretanja vozila do 15 minuta, osim prekida kretanja koji se pravi da bi se postupilo po znaku ili pravilu saobraćaja
- 2 svaki prekid kretanja vozila na putu u trajanju do pet minuta, osim prekida koji se pravi da bi se postupilo po znaku ili pravilu kojim se reguliše saobraćaj

**2. Stiker-naljepnica je:**

- 1 dokaz o izvršenom tehničkom pregledu
- 2 dokaz o plaćenju putarini
- 3 dokaz o registrowanju vozila

**3. Učesnici u saobraćaju dužni su da postupaju:**

- 1 u skladu sa svjetlosnim saobraćajnim znakom, pod uslovom da se značenje tog znaka ne razlikuje od značenja ostalih saobraćajnih znakova ili saobraćajnih pravila
- 2 u skladu sa saobraćajnom signalizacijom, pod uslovom da se time ne odstupa od pravila saobraćaja
- 3 prema znacima ili naredbama koje daju ovlašćena lica i kad se time odstupa od svjetlosnog saobraćajnog znaka ili drugog saobraćajnog znaka ili pravila saobraćaja

**4. Da li je vozaču zabranjeno da za vrijeme upravljanja vozilom u saobraćaju na javnom putu koristi mobilni telefon?**

- 1 da, osim u slučaju da je mobilni telefon prilagođen upotrebi u vozilu
- 2 ne, ako je vozilo zaustavljeno radi postupanja po saobraćajnom znaku
- 3 ne, ako je vozilo zaustavljeno po znaku i naredbi ovlašćenog lica

**5. Vozač vozila koje na raskrsnici skreće ulijevo, osim ako postavljenim saobraćajnim znakom nije drugačije određeno, dužan je propustiti vozilo koje:**

- 1 dolazi iz suprotnog smjera i na raskrsnici zadržava pravac svog kretanja
- 2 dolazi iz suprotnog smjera i na raskrsnici skreće ulijevo

**6. U kom roku je vlasnik vozila dužan da odjavi vozilo ako je prodato, uništeno ili otpisano?**

- 1 u roku od 15 dana
- 2 u roku od 30 dana
- 3 u roku od 12 mjeseci

**7. Vozač ne smije smanjiti brzinu kretanja vozila kojim upravlja:**

- 1 ispod 20 km/h
- 2 do te mjere da njegovo vozilo pricinjava smetnju normalnom odvijanju saobraćaja

**8. Javni putevi moraju da imaju:**

- 1 najmanje jednu saobraćajnu traku i dvije ivične trake ili ivičnjake u ravni kolovoza, a ulice trotoare s ivičnjacima
- 2 najmanje dvije saobraćajne trake i dvije ivične trake ili ivičnjake u ravni kolovoza, a ulice trotoare s ivičnjacima
- 3 najmanje jednu saobraćajnu traku i jednu ivičnu traku ili ivičnjak u ravni kolovoza, a ulica trotoar s ivičnjakom

**9. Vozač koji se vozilom kreće kroz tunel ne smije:**

*(više tačnih odgovora)*

- 1 da polukružno okreće vozilo
- 2 da upravlja vozilom brzinom većom od 40 km/h
- 3 da se vozilom kreće unazad
- 4 da zaustavlja vozilo

**10. Zeleno trepćuće svjetlo služi za?**

- 1 upozoravanje učesnika u saobraćaju na skori prestanak zabrane prolaska i na pojavu zelenog svjetla
- 2 upozoravanje učesnika u saobraćaju na prestanak slobodnog prolaska i na pojavu žutog, odnosno crvenog svjetla

**11. Oznake na kolovozu su:**

- 1 žute boje
- 2 bijele boje

**12. Znakovi koje učesnicima u saobraćaju daje ovlašćeno lice su:**

*(više tačnih odgovora)*

- 1 znakovi koji se daju rukama i položajem tijela
- 2 znakovi koji se daju gestikulacijom i mimikom
- 3 zvučni i svjetlosni znakovi

**13. Koje radnje morate preduzeti prije vršenja radnje polukružnog okretanja?** *(više tačnih odgovora)*

- 1 predhodno se uvjeriti da je radnju moguće učiniti bez opasnosti za druge učesnike u saobraćaju ili imovinu
- 2 uključiti uređaj za istovremeno paljenje svih pokazivača pravca
- 3 voditi računa o položaju vozila i pravcu i brzini kretanja

**14. Vozač je dužan kada se kreće putem van naselja, prije ulaska u nepreglednu krivinu:**

- 1 danju upotrijebiti zvučni znak upozorenja
- 2 noću upotrijebiti svjetlosni znak upozorenja
- 3 uključiti uređaj za uključivanje svih pokazivača pravca

*(više tačnih odgovora)*

**15. Iznad kolovoza javnog puta mora da postoji slobodan prostor u visini od najmanje:**

- 1 4,5 m od najviše tačke kolovoza
- 2 4 m od najviše tačke kolovoza
- 3 6 m od najviše tačke kolovoza

**16. Da li je dozvoljeno preticati niz vozila koji čine dvije radne mašine, jedan traktor i dva bicikla?**

- 1 dozvoljeno je
- 2 nije dozvoljeno

**17. U kojem periodu vozač može preuzeti privremeno oduzetu vozačku dozvolu od organa čije je ovlašćeno lice tu dozvolu oduzelo?**

- 1 u roku od 48 h
- 2 u roku od 24 h
- 3 u roku od tri dana

**18. Na autoputu vozač ne smije da upravlja vozilom koje se kreće:**

*(više tačnih odgovora)*

- 1 brzinom većom od 120 km/h
- 2 brzinom većom od 130 km/h
- 3 brzinom većom od brzine određene postavljenim saobraćajnim znakom

**19. Za vrijeme osposobljavanja kandidata iz upravljanja motornim vozilom instruktor vožnje kod sebe mora imati:** *(više tačnih odgovora)*

- 1 vozačku dozvolu
- 2 dozvolu instruktora vožnje i dnevnik rada instruktora vožnje
- 3 ljeakarsko uvjerenje

**20. Vozač koji je mlađi od 21 godine starosti ili koji ima manje od tri godine vozačkog iskustva smatraće se da je pod djelovanjem alkohola ako mu količina alkohola u krvi iznosi:**

- 1 0,5 g/kg
- 2 0,3 g/kg
- 3 0,0 g/kg

*(više tačnih odgovora)*

**21. Koje značenje ima ovaj saobraćajni znak?**

- 1 zabrana kretanja za bicikliste i pješake
- 2 razdvojena staza za pješake i bicikliste, kojom je zabranjeno kretanje drugih učesnika u saobraćaju
- 3 staza za kretanje pješaka, bicikla i motocikla



**22. Kako treba postupiti nailaskom na ovaj saobraćajni znak?**

- 1 povećati brzinu kretanja vozila
- 2 prilagoditi brzinu kretanja vozila uslovima i stanju na putu, jer postoji povećana opasnost od iskliznuća ili prevrtanja vozila.



**23. Koje značenje ima ovaj saobraćajni znak?**

- 1 mjesto na putu gdje je postavljeno preventivno ulegnuće kao objekat koji se koristi za smirivanje saobraćaja
- 2 mjesto na putu gdje je postavljena preventivna izbočina kao objekat koji se koristi za smirivanje saobraćaja



**24. Koje značenje ima ovaj saobraćajni znak?**

*(više tačnih odgovora)*

- 1 blizina mjesta na kojem se izvode radovi ili na kojem je prepreka na putu
- 2 približavanje mjestu na kojem je saobraćaj regulisan svjetlosnim saobraćajnim znacima
- 3 smjer i način preusmjeravanja saobraćaja



**25. Koje značenje ima ovaj saobraćajni znak?**

- 1 blizina dijela puta na kojem se često događaju saobraćajne nezgode
- 2 blizina dijela puta na kojem se dogodila saobraćajna nezgoda



**26. Koje značenje ima ovaj saobraćajni znak?**


*(više tačnih odgovora)*

- 1 mjesto od kojeg počinje autoput
- 2 mjesto od kojeg počinje put namijenjen za saobraćaj motornih vozila
- 3 mjesto od kojeg počinje brzi put



27. Koje značenje ima ovaj saobraćajni znak?

- 1 položaj puta s pravom prvenstva prolaza
- 2 obavezno skretanje ulijevo
- 3 prvenstvo prolaza u svim smjerovima



28. Koje značenje ima ovaj saobraćajni znak?

- 1 mjesto u naselju na kojem se ulazi u područje u kojem se ne smije upravljati vozilom brže od brzine hoda pješaka, budući da je dječja igra dopuštena
- 2 mjesto u naselju na kojem se ulazi u područje u kojem je dozvoljeno upravljati vozilom brže od brzine hoda pješaka



29. Kako treba postupiti prilikom nailaska vozilom na ovlaštenu osobu koja u vašem smjeru kretanja daje znak kao na slici?

- 1 povećati brzinu kretanja vozila
- 2 smanjiti brzinu kretanja vozila
- 3 zaustaviti vozilo



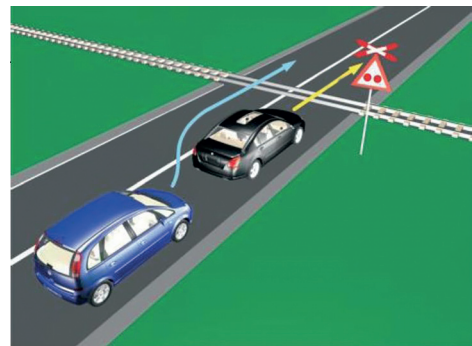
30. Kako ćete postupiti nailaskom na ovaj saobraćajni znak?

- 1 nastaviti kretanje vozilom jer imam prednost u odnosu na vozila iz suprotnog smjera
- 2 nastaviti kretanje vozilom s naročitom oprežnošću u odnosu na vozila iz suprotnog smjera
- 3 neću nastaviti kretanje vozilom, jer je zabranjen saobraćaj vozilima iz smjera prema kome je okrenut znak



31. U saobraćajnoj situaciji kao na slici, plavi putnički automobil:

- 1 ne čini prekršaj jer je prelaz preko pruge regulisan svjetlosnim saobraćajnim znakovima
- 2 čini prekršaj



32. Kako ćete postupiti u saobraćajnoj situaciji kao na slici ukoliko automobilom skrećete udesno?


- 1 propustiću biciklistu, a zatim skrenuti u desno
- 2 vozim istovremeno s biciklistom



**33. Kako treba postupiti u saobraćajnoj situaciji kao na slici?**

*(više tačnih odgovora)*


- 1 povećati brzinu kretanja vozila
- 2 obratiti pažnju na postupke vozača vozila iz suprotnog smjera
- 3 povećati pažnju i prije vozila iz suprotnog smjera proći dionicu na kojoj je suženje puta



**34. Kako ćete postupiti u saobraćajnoj situaciji kao na slici?**

*(više tačnih odgovora)*

- 1 propustiti crveni automobil
- 2 proći kroz raskrsnicu prije crnog automobila
- 3 proći kroz raskrsnicu prije crvenog automobila



**35. Kako ćete postupiti u saobraćajnoj situaciji kao na slici?**

*(više tačnih odgovora)*

- 1 propustiti autobus
- 2 propustiti motocikl
- 3 proći kroz raskrsnicu prije autobusa



**36. Kako ćete postupiti u saobraćajnoj situaciji kao na slici?**

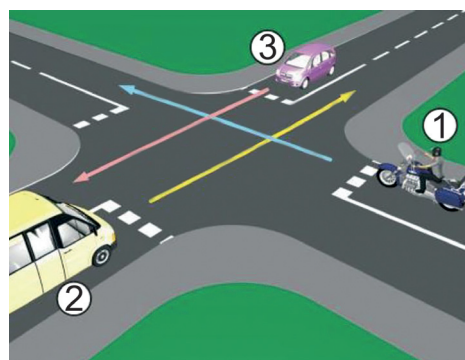
*(više tačnih odgovora)*

- 1 proći prvi kroz raskrsnicu
- 2 proći zadnji kroz raskrsnicu
- 3 propustiti vozilo koje dolazi iz suprotnog smjera
- 4 proći prije crvenog vozila kroz raskrsnicu



**37. Koji je redoslijed prolaska vozila na raskrsnici u situaciji kao na slici?**


- 1 1 - 2 - 3
- 2 2 - 3 - 1
- 3 3 - 1 - 2






**38. Kako ćete postupiti u saobraćajnoj situaciji kao na slici?**

- 1 proći prvi kroz raskrnicu jer imate prednost
- 2 propustiti oba vozila i zadnji proći kroz raskrnicu
- 3 propustiti vozilo hitne pomoći koje daje svjetlosne znakove, a zatim proći kroz raskrnicu.



**39. Kako treba postupiti vozač putničkog automobila u saobraćajnoj situaciji kao na slici ako se vozač autobusa uključuje u saobraćaj sa stajališta?**

- 1 smanjiti brzinu kretanja i omogućiti uključivanje autobusa u saobraćaj
- 2 zvučnim znakom upozoriti vozača autobusa da ga propusti jer ima prvenstvo prolaza
- 3 proći pored autobusa bez zaustavljanja jer ima prednost



**40. Kako treba postupiti u saobraćajnoj situaciji kao na slici?**  
(više tačnih odgovora)

- 1 proći prvi kroz raskrnicu
- 2 propustiti autobus
- 3 proći kroz raskrnicu prije vozila s lijeve strane
- 4 proći kroz raskrnicu prije autobusa, jer vrši radnju skretanja ulijevo

