



KONTROLNI TEST

za provjeru znanja kandidata za vozača



1. Prolaženje vozilom pored drugog vozila koje se po istom kolovozu kreće iz suprotnog smjera je:

- 1 preticanje
- 2 mimoilaženje

2. Kolona je:

- 1 niz od najmanje tri vozila (osim bicikla, traktora, radne mašine i zaprežnog vozila), koja su zaustavljena na putu, ili se na bliskom međusobnom rastojanju kreću istom saobraćajnom trakom u istom smjeru, pri čemu su brzina kretanja vozilai postupanja vozača međusobno uslovljeni i između kojih, bez ometanja, ne može da uđe drugo vozilo
- 2 niz od najmanje pet vozila koja su zaustavljena na putu, ili se na bliskom međusobnom rastojanju kreću istom saobraćajnom trakom u istom smjeru, pri čemu su brzina kretanja vozila i postupanja vozača međusobno uslovljeni i između kojih, bez ometanja, ne može da uđe drugo vozilo

3. Osnovna boja znakova opasnosti je?

- 1 žuta boja, a ivice trougla su crvene, izuzev znakova I-25 (radovi na putu) i I-43 (saobraćajna nezgoda), čija je osnovna boja žuta
- 2 plava, a simboli i natpisi su bijele boje
- 3 bijela boja, a ivice trougla su crvene, izuzev znakova I-25 (radovi na putu) i I-43 (saobraćajna nezgoda), čija je osnovna boja žuta

4. Na raskrsnici i na drugom mjestu na kojem je saobraćaj regulisan uređajima za davanje svjetlosnih saobraćajnih znakova, za učesnike u saobraćaju, upaljeno „žuto svjetlo“ ima sljedeće značenje:

- 1 obavezu za sve učesnike u saobraćaju da se kreću naročitom oprežnošću
- 2 zabranu prolaza za sva vozila
- 3 zabranu prolaza, osim za vozila koja se u času kad se žuto svjetlo pojavi nalaze na tolikom rastojanju od svjetlosnog znaka da se ne mogu bezbjedno zaustaviti, a da ne prođu taj znak, a za ostale učesnike zabrana prolaza

5. Da li se na autoput smije uključiti motorno vozilo koje vuče drugo motorno vozilo koje zbog neispravnosti ne može da se kreće?

- 1 nije regulisano propisom
- 2 ne
- 3 da

6. Vozač koji vrši radnju skretanja vozilom na bočni put na čijem ulazu ne postoji obilježen pješački prelaz dužan je:

(više tačnih odgovora)

- 1 izvršiti radnju skretanja smanjenom brzinom
- 2 obavezno se zaustaviti
- 3 ne ugroziti pješake koji su već stupili na kolovoz
- 4 upravljati vozilom sa naročitom oprežnošću

7. Učesnici u saobraćaju pred prelazom puta preko željezničke pruge u istom nivou, ako se uređaj za zatvaranje saobraćaja počeo spuštati dužni su:

- 1 smanjiti brzinu kretanja vozila
- 2 zaustaviti se
- 3 požuriti sa prelaskom

8. Lice koje je učestvovalo u saobraćajnoj nezgodi u kojoj ima poginulih ili povrijeđenih lica ili je nastala veća materijalna šteta, dok se ne izvrši uviđaj:

- 1 ne smije konzumirati alkohol
- 2 smije konzumirati alkohol do količine od 0,3 g/kg

9. Vozač koji namjerava da vozilom kojim upravlja izvrši radnju skretanja udesno na putu smije započeti takvu radnju samo: *(više tačnih odgovora)*

- 1 ako se prethodno uvjerio da to može učiniti bez opasnosti za druge učesnike u saobraćaju ili imovinu
- 2 ako vodi računa o položaju vozila
- 3 ako vodi računa o pravcu i brzini kretanja vozila
- 4 ako upravlja vozilom sa upaljenim dugim svjetlima

10. Kako treba postupiti vozač vozila koji nailazi na zaustavljen autobus na kolovozu sa dvije saobraćajne trake u koji ulaze ili izlaze djeca?

- 1 povećati brzinu kretanja vozila
- 2 obavezno zaustaviti vozilo
- 3 nastaviti kretanje vozilom sa naročitom oprežnošću
- 4 koristiti zvučni signal

11. Vozač vozila kojem je dat znak za preticanje sa njegove lijeve strane ne smije?

- 1 smanjivati brzinu kretanja svog vozila
- 2 povećavati brzinu kretanja vozila dok se drugim vozilom vrši radnja preticanja
- 3 uključiti desni pokazivač smjera radi isključivanja vozilom iz saobraćaja

12. Upaljeno plavo rotaciono svjetlo na policijskom vozilu koje je zaustavljeno na kolovozu obavezuje vozače: *(više tačnih odgovora)*

- 1 da polukružno okrenu vozilo
- 2 da smanje brzinu kretanja vozila
- 3 da ubrzaju kretanje vozila
- 4 da po potrebi zaustave vozilo

13. Puna uzdužna razdjelna linija na kolovozu, označava zabranu: *(više tačnih odgovora)*

- 1 kretanja vozila po toj liniji
- 2 prelaska vozila preko te linije
- 3 kretanja vozila unazad

14. Gdje je zabranjeno vršiti radnju polukružnog okretanja? *(više tačnih odgovora)*

- 1 u naselju
- 2 u tunelu
- 3 na autoputu, putu rezervisanom za saobraćaj motornih vozila i brzom putu

15. Pravo da upravlja motornim vozilom ima lice koje ispunjava sljedeće uslove: *(više tačnih odgovora)*

- 1 da je fizički i psihički sposobno da upravlja motornim vozilom
- 2 da nema navršene godine života određene zakonom zavisno od kategorije odnosno podkategorije vozila
- 3 da je položilo vozački ispit iz upravljanja motornim vozilom određene kategorije ili podkategorije
- 4 da mu je odlukom nadležnog organa zabranjeno upravljanje motornim vozilom

16. Lica koja prvi put steknu vozačku dozvolu obavezna su da:

- 1 u trajanju od tri godine, obilježe vozilo kojim upravljaju posebnim znakom
- 2 u trajanju od dvije godine, obilježe vozilo kojim upravljaju posebnim znakom
- 3 u trajanju od godinu dana, obilježe vozilo kojim upravljaju posebnim znakom

17. Zaštitne žičane ograde postavljaju se uz:

(više tačnih odgovora)

- 1 autoputeve
- 2 brze puteve
- 3 puteve u naselju

18. Na prelazima puta preko željezničke pruge u istom nivou branici ili polubranici moraju biti naizmjenično obojeni:

- 1 crvenom i žutom bojom
- 2 crvenom bojom

19. Da li se smatra da je vozač počeo upravljati vozilom ako je pokrenuo vozilo sa mjesta:

- 1 ne
- 2 da

20. Maksimalni poprečni nagib kolovoza za autoput u tunelu iznosi:

- 1 7 %
- 2 4 %

21. Koje značenje ima ovaj saobraćajni znak?

(više tačnih odgovora)

- 1 staza kojom se moraju kretati biciklisti
- 2 biciklistička staza
- 3 zabrana kretanja za bicikle



22. Tačan naziv saobraćajnog znaka je:

- 1 zabrana održavanja sportskih priredbi na cesti
- 2 prevrtanje ili iskliznuće vozila sa kolovoza



23. Tačan naziv saobraćajnog znaka je:

- 1 obavezno zaustavljanje
- 2 nailazak na put s prvenstvom prolaza



24. Tačan naziv saobraćajnog znaka je:

- 1 najveći razmak između vozila
- 2 najmanja udaljenost između vozila



25. Tačan naziv saobraćajnog znaka je:

- 1 zabrana saobraćaja za sva motorna vozila
- 2 zabrana saobraćaja za sva motorna vozila, osim mopeda



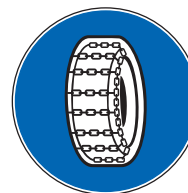
26. Tačan naziv saobraćajnog znaka je?

- 1 brzina koja se preporučuje
- 2 najmanja dopuštena brzina kretanja vozila
- 3 ograničenje brzine



27. Koje značenje ima ovaj saobraćajni znak?

- 1 zabrana saobraćaja za vozila koja na točkovima koriste lance
- 2 označava početak dijela puta na kome motorna vozila, osim motocikla, moraju imati propisanu zimsku opremu



28. Koje značenje ima ova oznaka na kolovozu?

- 1 obavezno se prestrojiti u desnu saobraćajnu traku
- 2 najava završetka preticanja



29. Koja motorna vozila je dozvoljeno preticati na putu koji je označen ovim saobraćajnim znakom?

- 1 motocikl bez prikolice i moped
- 2 putničko vozilo



30. Kako treba postupiti nailaskom na ovaj saobraćajni znak? (više tačnih odgovora)

- 1 obavezno zaustaviti vozilo
- 2 povećati opreznost
- 3 smanjiti brzinu kretanja vozila tako da se u slučaju potrebe može blagovremeno izvršiti radnja kočenja i zaustavljanja
- 4 nastaviti kretanje vozilom bez smanjenja brzine kretanja



31. Kako ćete postupiti u saobraćajnoj situaciji kao na slici ako upravljate plavim automobilom?

- 1 proći prvi jer sam s desne strane
- 2 proći prvi jer skrećem udesno
- 3 zaustaviti se i propustiti crveno vozilo



32. Kako ćete postupiti u saobraćajnoj situaciji kao na slici ako imate namjeru proći raskrsnicu?

- 1 obavezno se zaustaviti, bez obzira ima li vozila s lijeve strane u raskrsnici
- 2 nastaviti kretanje bez zaustavljanja jer me vozači vozila u raskrsnici moraju propustiti
- 3 zaustaviti se po potrebi, radi propuštanja vozila koja su već u raskrsnici, a potom proći kroz raskrsnicu



33. Kako ćete postupiti u saobraćajnoj situaciji kao na slici prilikom dolaska na raskrsnicu? (više tačnih odgovora)

- 1 nastaviti kretanje jer ne mijenjam smjer kretanja vozila
- 2 propustiti motocikl
- 3 proći prije vozila koje dolazi iz suprotnog smjera



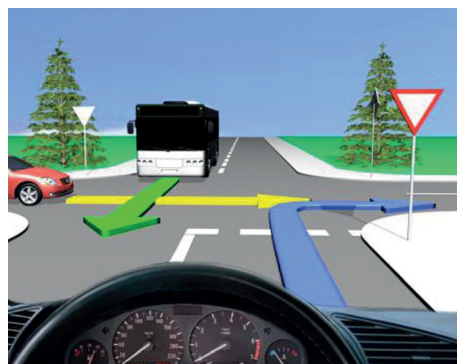
34. Kako trebate postupiti u saobraćajnoj situaciji kao na slici prilikom dolaska na raskrsnicu?

- 1 proći prvi kroz raskrsnicu
- 2 proći drugi kroz raskrsnicu, nakon propuštanja bijelog vozila
- 3 proći posljednji kroz raskrsnicu



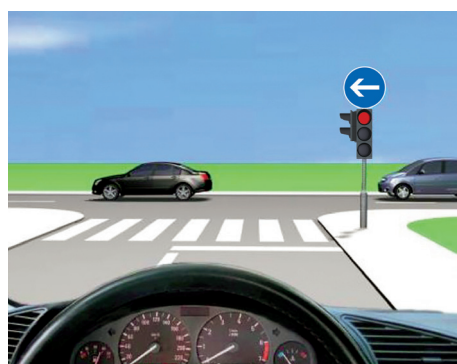
35. Kako trebate postupiti u saobraćajnoj situaciji kao na slici prilikom dolaska na raskrsnicu?

- 1 zaustaviti se i propustiti oba vozila
- 2 proći prvi kroz raskrsnicu jer sam crvenom vozilu s desne strane
- 3 propustiti crveno vozilo, a zatim proći kroz raskrsnicu istovremeno sa autobusom



36. Kako trebate postupiti u saobraćajnoj situaciji kao na slici?

- 1 obavezno se zaustaviti (više tačnih odgovora)
- 2 nastaviti kretanje vozilom ulijevo, nakon propuštanja vozila koja dolaze sa desne strane
- 3 nakon što se na semaforu upali zeleno svjetlo, nastaviti kretanje vozilom ulijevo
- 4 nakon što se na semaforu upali zeleno svjetlo, nastaviti kretanje vozilom udesno



37. Kako ćete postupiti u saobraćajnoj situaciji kao na slici?

(više tačnih odgovora)

- 1] povećati pažnju zbog nailaska na ukrštanje sa sporednim putem
- 2] obavezno nastaviti kretanje vozilom pravo
- 3] skrenuti udesno na sporedni put ili nastaviti kretanje vozilom pravo



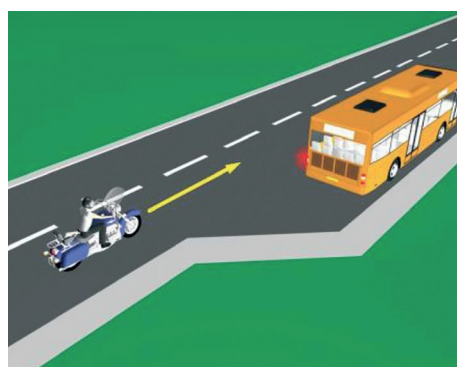
38. Kako ćete postupiti u saobraćajnoj situaciji kao na slici?

- 1] obratiti pažnju na moguću djecu na putu ili u blizini puta, brzinu kretanja vozila prilagoditi trenutnim uslovima saobraćaja, s tim da brzina ne smije biti veća od brzine određene saobraćajnim znakom
- 2] obratiti pažnju samo ako se djeca nalaze na putu, a brzinu prilagoditi trenutnim uslovima saobraćaja



39. Kako treba postupiti vozač motocikla u saobraćajnoj situaciji kao na slici, ako je na vozilu javnog gradskog prevoza putnika uključen lijevi pokazivač smjera?

- 1] nije dužan omogućiti autobusu uključivanje u saobraćaj
- 2] dužan je omogućiti autobusu uključivanje u saobraćaj
- 3] nije dužan omogućiti autobusu uključivanje u saobraćaj jer se autobus nalazi na sporednm putu.



40. U saobraćajnoj situaciji kao na slici, vozač putničkog automobila:

- 1] ne smije izvršiti radnju kretanja vozilom unazad, jer čini prekršaj
- 2] smije izvršiti radnju kretanja vozilom unazad, jer se nalazi neposredno uz mjesto za zaustavljanje vozila

